

TG GURUKUL CET - 2018

(Common Entrance Test for Admission into Class V
in TREIS, SC, ST & BC Welfare Residential Institutions)

Time : 2 hours

Max Mark : 100

Instructions to Candidates :-

అభ్యర్థులకు సూచనలు :-

- Each Question carries 1 mark.
ప్రతి ప్రశ్నకు ఒక మార్కు.
- The Question Paper consists of Five parts.
ప్రశ్నాపత్రంలో ఐదు భాగాలున్నాయి.
Part A - 25 Marks (Q. No. 1 - 25) - English.
Part B - 25 Marks (Q. No. 26 - 50) - Mathematics.
Part C - 25 Marks (Q. No. 51 - 75) - Environmental Science.
Part D - 20 Marks (Q. No. 76 - 95) - Telugu (తెలుగు).
Part E - 5 Marks (Q. No. 96-100) - Mental Ability.
- Before you begin to answer, fill in the necessary particulars and sign on the OMR sheet, failing which the script will **not** be valued.
జవాబులను రాయడానికి ముందు OMR లో వివరాలను నింపి, అభ్యర్థులు సంతకం చేయాలి, లేనిచో జవాబు పత్రం దిద్దబడదు.
- You are prohibited from writing your name and register number on any part of the OMR sheet.
OMR లో మీ పేరు గానీ లేదా మీ రిజిస్టర్ సంఖ్య కానీ రాయకూడదు.
- In case, your Hall Ticket Number is not printed on the OMR sheet, write it in the box provided in the OMR sheet itself.
హాల్ టికెట్ సంఖ్య OMR లో ముద్రించబడనప్పుడు అక్కడే ఉన్న గడిలో మీ హాల్ టికెట్ సంఖ్యను రాయాలి.
- You are prohibited from bringing loose sheets of paper or books, written or unwritten, printed, typed or cyclostyled into the examination hall.
రాసిన, ముద్రించిన, టైపు లేదా సైక్లోస్టైల్ చేయబడిన విడి పేపర్లను/పుస్తకాలను పరీక్షా హాల్లోకి తీసుకురాకూడదు.
- Choose the correct answer and darken the relevant circle in the OMR sheet with a Blue / Black ball point pen.
సరైన జవాబులను నిర్ణయించుకొని OMR లోని సంబంధిత వృత్తాకారాన్ని (circle) OMR నీలి/నల్లని బాల్ పాయింట్ పెన్ ద్వారా దిద్దాలి/నల్లగా చేయాలి.
- Candidates are **NOT** permitted to leave the Exam Hall till the last 10 minutes.
నిర్ధారిత పరీక్ష సమయానికి చివరి 10 నిమిషాల వరకు అభ్యర్థులు ఫరీక్షా హాల్ వదిలి వెళ్ళడానికి అనుమతించబడరు.

English

1. The plural form of 'goose' is

 - (A) goose
 - (B) geeses
 - (C) geeses
 - (D) geese

2. Identify the silent letters in WRESTLING .

 - (A) W, R
 - (B) R, S
 - (C) W, T
 - (D) E, S

3. Identify the wrongly spelt word.

 - (A) Croud
 - (B) Royal
 - (C) Rescue
 - (D) Pouch

4. Identify the parts of speech of the underlined word.
Do it quickly.

 - (A) Noun
 - (B) Adverb
 - (C) Pronoun
 - (D) Verb

- *Fill in the blanks in the following sentences.*
- 5. Children like sweets.
(A) a
(B) an
(C) no article
(D) the
- 6. Choose the correct punctuation mark to be used in the underlined part.
“What about me” cried the pancake.
(A) !
(B) .
(C) ,
(D) ?
- 7. If you heat water, it
(A) boil
(B) boils
(C) boiled
(D) boiling
- 8. Based on their relation, which is a wrong pair among the following.
(A) Cat and Kitten
(B) Dog and Puppy
(C) Hen and Cock
(D) Goat and Lamb
- 9. The people of England are called
(A) The Englanders
(B) The Englandians
(C) The English
(D) The England
- 10. A of ships.
(A) flock
(B) fleet
(C) group
(D) cluster

11. How many animals are there in the following grid ?

a	c	b
f	o	x
c	w	d

- (A) 1
- (B) 2
- (C) 3
- (D) 4

● Observe the following picture and answer questions 12, 13.



12. The bat is the ball and the bicycle.

- (A) on
- (B) between
- (C) among
- (D) beside

13. Identify the wrong sentence.

- (A) The children are reading a book.
- (B) There is a teddy bear in the picture.
- (C) There are two caps in the picture.
- (D) The flower vase is on the bookshelf.

14. 'How oil do you want ?' asked the shopkeeper.

- (A) many (B) more
(C) most (D) much

● Look at the following picture and answer questions 15 and 16.



15. Birds

- (A) are flying. (B) is flying.
(C) have flying. (D) has flying.

16. Choose the correct sentence.

- (A) Rain is falling. (B) It is raining.
(C) Rain falling. (D) Rain is flowing.

● **Read the following passage.**

While coming back from the school, Chinna went to Chacha's shop. He wanted to buy some bells for his puppy. Chacha showed him some beautiful tinkling bells.

Now answer the following questions (17-19).

17. Identify the opposite word of 'ugly' in the passage.

- (A) beautiful (B) nice
(C) tinkling (D) good

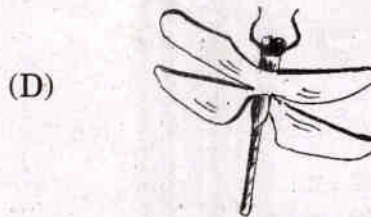

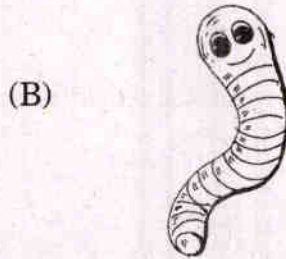

18. Chinna wanted to buy

- (A) chocolates for himself.
(B) bells for his puppy.
(C) cake for his cat.
(D) book for his brother.

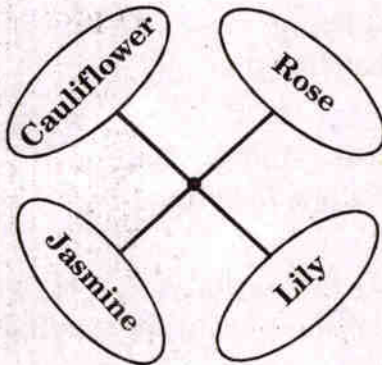
19. The word 'tinkling' in the passage means :

- (A) shining (B) sparkling
(C) making sounds (D) blinking

20. Find the odd one out.



21. Find the odd one out.



- (A) Cauliflower
- (B) Lily
- (C) Jasmine
- (D) Rose

22. Find the missing letters.

A _ ROPL _ N _

- (A) E, E, A
- (B) A, A, E
- (C) E, A, E
- (D) A, E, A

23. Choose the correct line and complete the poem.

Smile and laugh
Everyone's with you

.....

No one is near you.


- (A) If meek and dull
- (B) Be brave and dare
- (C) Shriek and cry
- (D) Be happy

● Read the following passage and answer questions 24 and 25.

Rani is a young girl. Every Monday, she reads storybooks with her friends.
On Tuesday, she rides a bicycle.

On Wednesday, she practices Karate. Next three days she learns music.

24. Which day does this picture indicate ?



- (A) Monday
- (B) Tuesday
- (C) Wednesday
- (D) Friday

25. Rani sings songs days a week.

- (A) Two
- (B) Three
- (C) One
- (D) Four

Mathematics

గణితము

26. If 15 bulbs cost ₹ 960, what is the cost of 1 bulb ?

15 బల్బుల ఖరీదు ₹ 960, అయినచో ఒక బల్బు ఖరీదు ఎంత?

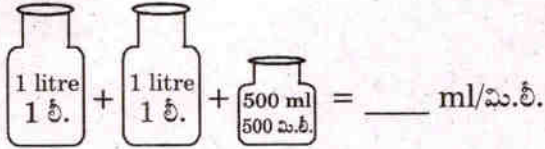
- (A) ₹ 60
(B) ₹ 150
(C) ₹ 64
(D) ₹ 74

27. Find out the missing digit in the number 5□3, whose sum of the digits is 10 ?

5□3 అను సంఖ్యలో అంకెల మొత్తం 10 వచ్చునట్లు చేసే అంకె ఏది?

- (A) 5
(B) 3
(C) 1
(D) 2

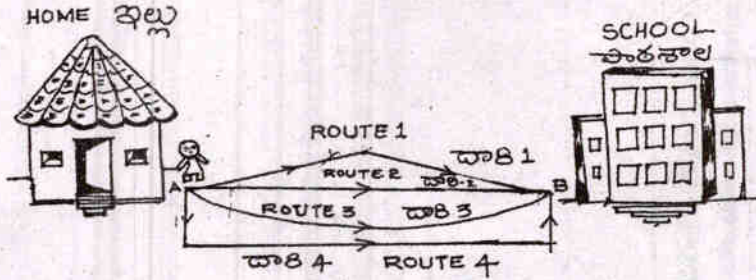
28.


$$1 \text{ litre} + 1 \text{ litre} + 500 \text{ ml} = \text{---} \text{ ml/మి.లీ.}$$

- (A) 2500 ml/ మి.లీ.
(B) 502 ml/ మి.లీ.
(C) 1000 ml/ మి.లీ.
(D) 1500 ml/ మి.లీ.

Space for Rough Work

29. In the below figure, by which route Chota Bheem reaches school faster?
క్రింది పటంలో ఛోటాభీమ్ ఏ దారి గుండా వెళ్తే స్కూలుకి తొందరగా చేరుకుంటాడు?



- (A) Route 2
(B) Route 3
(C) Route 1
(D) Route 4
(A) దారి 2
(B) దారి 3
(C) దారి 1
(D) దారి 4

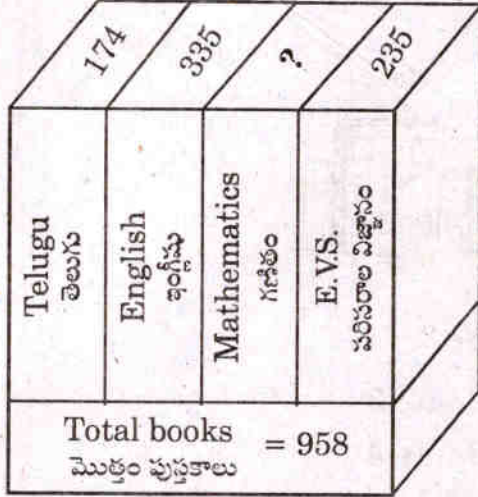
30. $\boxed{425} - \boxed{425} + \boxed{425} = \boxed{?}$
(A) 425
(B) 0
(C) 1275
(D) 850

31.
(A) 84
(B) 96
(C) 66
(D) 72

Space for Rough Work

32. In the below figure, number of Mathematics books =

క్రింది పటములో గణిత పుస్తకాల సంఖ్య =



- (A) 240
(B) 241
(C) 239
(D) 214

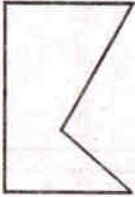
33. Expanded form of the number 3256 is

3256 అను సంఖ్య యొక్క విస్తరణ రూపము?

- (A) $3+2+5+6$
(B) $3000+200+50+6$
(C) $3000+50+6$
(D) $3000+200+6$

34. How many corners are there in the given figure ?

క్రింది పటములో మూలాల సంఖ్య ఎంత?



- (A) 5
(B) 6
(C) 0
(D) 4

Space for Rough Work


35. Find the smallest three digit number formed by the digits 8, 3, 2.

8, 3, 2, అంకెలతో ఏర్పడే మూడు అంకెల కనిష్ఠ సంఖ్య ఏది?

- (A) 238
- (B) 823
- (C) 328
- (D) 283

36. What is the perimeter of the given figure ?

క్రింద ఇవ్వబడిన పటము చుట్టుకొలత ఎంత?

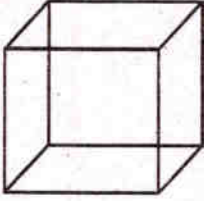


- (A) 20 cm
- (B) 40 cm
- (C) 50 cm
- (D) 60 cm

Space for Rough Work

37. I have 6 faces. All my faces are in the shape of a square. Who am I ?

6 చతురస్రాకార ముఖములు కలిగిన నా ఆకారము పేరు ఏమి?



(A) Rectangle

(B) Cuboid

(C) Cube

(D) Triangle

(A) దీర్ఘ చతురస్రం

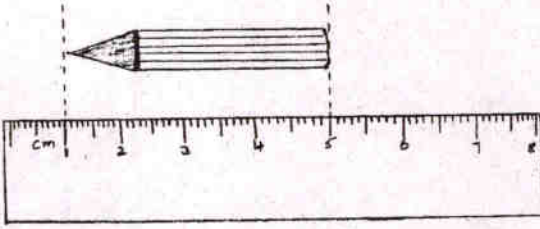
(B) దీర్ఘ ఘనము

(C) ఘనము

(D) త్రిభుజం

38. Find the length of the pencil.

పెన్సిల్ పొడవు ఎంత?



(A) 3 cm

(B) 5 cm

(C) 4 cm

(D) 2 cm

39. How more is ₹ 100 than ₹ 35 ?

₹ 35 కన్నా ₹ 100 ఎంత ఎక్కువ?

(A) ₹ 55

(B) ₹ 65

(C) ₹ 45

(D) ₹ 135

Space for Rough Work

40. What is $\frac{1}{3}$ of 30 ?

30 లో $\frac{1}{3}$ వ వంతు ఎంత?

(A) 3

(B) 30

(C) $\frac{3}{30}$

(D) 10

41. How many bananas are there in 10 dozen bananas ?

10 డజన్లలో ఎన్ని అరటి పండ్లు ఉండును?

(A) 10

(B) 120

(C) 12

(D) 100

Space for Rough Work

42. How many 2 kgs will make 10 kgs ?

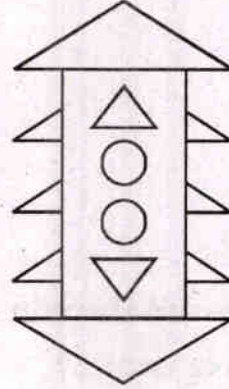
ఎన్ని 2 కి.గ్రా. లు కలిపితే 10 కి.గ్రా.లు అవుతాయి?

- (A) 4
- (B) 5
- (C) 2
- (D) 3

43. How many Triangles are there in the given figure ?

ఈ క్రింది పటంలో ఎన్ని త్రిభుజాలు కలవు?

- (A) 8
- (B) 10
- (C) 12
- (D) 2



44. Arrange the following numbers in descending order.

దిగువ సంఖ్యలను అవరోహణ క్రమంలో వ్రాయండి.

382, 283, 832, 823

- (A) 832, 823, 382, 283
- (B) 283, 382, 832, 823
- (C) 283, 382, 823, 832
- (D) 832, 823, 283, 382

Space for Rough Work

45. How many students in class IV have a shoe size larger than 4 from the given table ?

క్రింది పటములో నాలుగవ తరగతి విద్యార్థులలో బూటు సైజు 4 కన్నా ఎక్కువ ఎంత మందికి కలదు?

Shoe size బూటు సైజు	Number of students విద్యార్థులు
2	○○
3	○○○○○○
4	○○○○○○○○
5	○○○○
6	○○○○○○

(A) 20

(B) 13

(C) 7

(D) 4

46. Which alphabet can be exactly divided into two equal halves ?

ఈ క్రింది అక్షరాలలో ఏ అక్షరమును రెండు సమాన భాగాలుగా విభజించవచ్చు?

(A) G

(B) F

(C) J

(D) H

47. How many days are there in February in the year 2018 ?

2018 సంవత్సరం, ఫిబ్రవరి నెలలో ఎన్ని రోజులు కలవు?

(A) 29

(B) 28

(C) 30

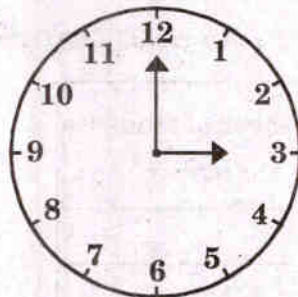
(D) 31

Space for Rough Work

48. What is the time shown by the clock ?

గడియారం తెలిపే సమయం ఎంత?

- (A) 12 : 00
(B) 3 : 00
(C) 12 : 15
(D) 3 : 15

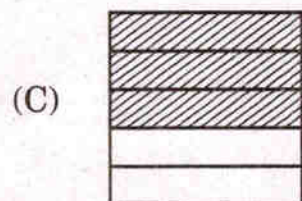
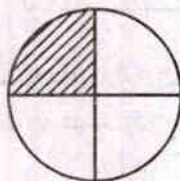


49. Which part of the following shaded figures is $\frac{2}{5}$?

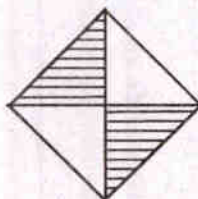
క్రింది పటములలో $\frac{2}{5}$ వ వంతు షేడ్ చేసిన పటము ఏది?



(B)



(D)



50. What is the digit having the greatest place value in the number 4379 ?


4379 అను సంఖ్యలో ఎక్కువ స్థాన విలువ కలిగిన అంకె ఏది?

- (A) 3 (B) 7
(C) 4 (D) 9


Space for Rough Work

Environmental Science

పరిసరాల విజ్ఞానము

51.  gives us

- (A) Clothes
- (B) Houses
- (C) Light & Heat
- (D) Flowers

 నుండి లభించును.

- (A) దుస్తులు
- (B) ఇండ్లు
- (C) కాంతి మరియు ఉష్ణము
- (D) పుష్పాలు

52. Child helpline number is

బాలల అత్యవసర సహాయక సేవల సంఖ్య

- (A) 1098
- (B) 1099
- (C) 1097
- (D) 1096

53. Wool is obtained from

- (A) Animals
- (B) Birds
- (C) Plants
- (D) Insects

ఉన్ని వేటి నుండి లభించును?

- (A) జంతువులు
- (B) పక్షులు
- (C) మొక్కలు
- (D) కీటకాలు

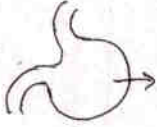
54. I live in water, I never sleep, I breathe with gills, who am I ?

- (A) Snake
- (B) Fish
- (C) Crab
- (D) Frog

నేను నీటిలో నివసిస్తాను, ఎప్పుడు నిద్రించను, మొప్పల ద్వారా శ్వాసిస్తాను. నేనెవరిని?

- (A) పాము
- (B) చేప
- (C) పీత
- (D) కప్ప


55.



Arrow mark shows part of the human body.

(1)

- (A) Heart
- (B) Lungs
- (C) Stomach
- (D) Liver



ఈ బాణము గుర్తు శరీరములోని ఏ భాగమును సూచించును?

- (A) హృదయము
- (B) ఊపిరితిత్తులు
- (C) జీర్ణాశయము
- (D) కాలేయము

౦౮౬

56. The villages that have 100% sanitation facilities and toilets in all the houses, will get puraskar.

- (A) Nirmal
- (B) Padma Bhushan
- (C) Olympics
- (D) Arjun

100% పారిశుద్ధ్యమున్న గ్రామాలు అనగా అన్ని ఇళ్ళలో మరుగుదొడ్డి సౌకర్యము ఉండి, గ్రామములలో పారిశుద్ధ్యం ఉంటే ఆ గ్రామానికి అవార్డు లభిస్తుంది.


- (A) నిర్మల్
- (B) పద్మభూషణ్
- (C) ఒలంపిక్స్
- (D) అర్జున్

57. maintains the law and order.


- (A) Police station
- (B) Mandal Resource Centre
- (C) Veterinary Hospital
- (D) School

శాంతి భద్రతలు కాపాడు సంస్థ

- (A) పోలీస్ స్టేషన్
- (B) మండల వనరుల కేంద్రం
- (C) పశు వైద్యశాల
- (D) పాఠశాల

58.  This symbol represents

- (A) School. (B) Hospital / Medical Shop.
(C) Bank. (D) Postoffice.

 ఈ గుర్తు ను సూచించును.

- (A) పాఠశాల (B) ఆసుపత్రి / మందుల దుకాణం
(C) బ్యాంక్ (D) పోస్ట్ ఆఫీస్

59. Find the odd one out

- (A) Fish
(B) Rabbit
(C) Crab
(D) Crocodile

ఈ క్రింది వానిలో సరికానిది గుర్తించండి.

- (A) చేప
(B) కుందేలు
(C) పీత
(D) మొసలి

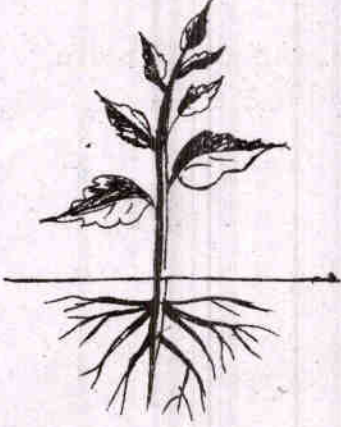
60. Kiran is frequently falling sick by eating food.

- (A) Chicken
(B) Egg and milk
(C) Junk
(D) Fruits

కిరణ్ తరచుగా జబ్బులకు గురి అవుతున్నాడు. కారణం ఏమనగా

- (A) కోడి మాంసము
(B) గ్రుడ్లు మరియు పాలు
(C) జంక్ ఫుడ్
(D) పండ్లు

61. Which part of the plant hold the soil particles firmly ?



- (A) Leaf
- (B) Fruit
- (C) Flower
- (D) Roots

మొక్కలోని ఏ భాగము నేలను గట్టిగా పట్టుకొని ఉంచును?


- (A) ఆకు
- (B) పండు
- (C) పుష్పము
- (D) వేర్లు

62. Osman Sagar is also known as

- (A) Masab Tank
- (B) Gandipet Tank
- (C) Panagal Tank
- (D) Ramappa Tank


ఉస్మాన్ సాగర్ ని అని కూడ అంటారు.

- (A) మసాబ్ టాంక్
- (B) గండిపేట టాంక్
- (C) పానగల్ టాంక్
- (D) రామప్ప టాంక్



Name the states of matter from the given figure.

- (A) Solid, Liquid, Gases.
- (B) Gases, Solid, Liquid.
- (C) Liquid, Gases, Solid.
- (D) Gases, Liquid, Solid.



ప్రక్క బొమ్మలోని పదార్థము యొక్క స్థితులను గుర్తించుము.

- (A) ఘన, ద్రవ, వాయువు
- (B) వాయువు, ఘన, ద్రవ
- (C) ద్రవ, వాయువు, ఘన
- (D) వాయువు, ద్రవ, ఘన

64. Mithali Raj is famous for

- (A) Cricket
- (B) Hockey
- (C) Table tennis
- (D) Chess

మిథాలి రాజ్ క్రీడకు సంబంధించిన మహిళ

- (A) క్రికెట్
- (B) హాకీ
- (C) టేబుల్ టెన్నిస్
- (D) చెస్

65. stands for the remembrance of the spirit of the Telangana movement forever.

- (A) Golkonda Fort
- (B) Telangana Martyrs Statue
- (C) Ashoka Pillar
- (D) Qutub Minar

తెలంగాణ ఉద్యమ స్ఫూర్తిని ఎల్లప్పుడూ గుర్తు చేసే స్థూపం

- (A) గోల్కొండ కోట
- (B) తెలంగాణా అమరవీరుల స్థూపం
- (C) అశోక స్తంభం
- (D) కుతుబ్మినార్

66. Expand TSRTC

- (A) Telangana State Regional Training Centre.
- (B) Telangana State Research & Training Centre.
- (C) Telangana State Road Transport Corporation.
- (D) Telangana State and Tribal Corporation.

టి.ఎస్.ఆర్.టి.సి. అనగా

- (A) తెలంగాణ రాష్ట్ర ప్రాంతీయ శిక్షణ కేంద్రము
- (B) తెలంగాణ రాష్ట్ర పరిశోధన మరియు శిక్షణ కేంద్రము
- (C) తెలంగాణ రాష్ట్ర రోడ్డు రవాణా సంస్థ
- (D) తెలంగాణ రాష్ట్ర షెడ్యూల్ తెగల సంస్థ

67. was the main occupation of the Harappan people.

- (A) Apiculture
- (B) Fish culture
- (C) Floriculture
- (D) Agriculture

హరప్పా ప్రజల ముఖ్యవృత్తి

- (A) తేనెటీగల పెంపకం
- (B) చేపల పెంపకం
- (C) పుష్పాల పెంపకం
- (D) వ్యవసాయం

68. Diseases such as spread by drinking contaminated water.

- (A) Cholera
- (B) Malaria
- (C) Cancer
- (D) Dengue

ఈ క్రింది వానిలో నీటి ద్వారా వ్యాపించే వ్యాధి?

- (A) కలరా
- (B) మలేరియా
- (C) కాన్సర్
- (D) డెంగ్యూ

69. is the daughter of Ganapathi Deva.

- (A) Chandra Mukhi
- (B) Arundhathi
- (C) Bhagamathi
- (D) Rudrama Devi

గణపతి దేవుని కుమార్తె పేరు?

- (A) చంద్రముఖి
- (B) అరుంధతి
- (C) భాగమతి
- (D) రుద్రమదేవి

70. How many districts are there in our Telangana State ?

తెలంగాణ రాష్ట్రంలోని జిల్లాల సంఖ్య

- (A) 30
- (B) 31
- (C) 29
- (D) 28

71. is the biggest tribal festival celebrated at Bhupalpally-Jayasankar district.

- (A) Cheruvugattu Jatara
- (B) Nagoba Jatara
- (C) Kondagattu Jatara
- (D) Sammakka Sarakka Jatara

భూపాలపల్లి-జయశంకర్ జిల్లాలో జరిగే అతి పెద్ద ఆదివాసీల పండుగ

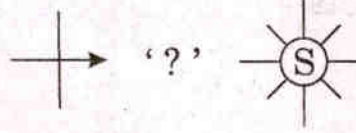
- (A) చెరువుగట్టు జాతర
- (B) నాగోబా జాతర
- (C) కొండగట్టు జాతర
- (D) సమ్మక్క సారక్క జాతర

72. seeds are borne on the spike.

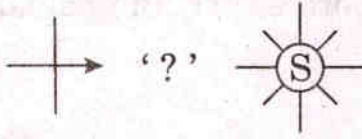
- (A) Maize
- (B) Groundnut
- (C) Pumpkin
- (D) Custard apple

విత్తనాలను 'కంకి' లో కలిగిన మొక్కకు ఉదాహరణ

- (A) మొక్కజొన్న
- (B) వేరుశనగ
- (C) గుమ్మడి కాయ
- (D) సీతాఫలము

73.  In this diagram '?' represents

- (A) West
- (B) East
- (C) North
- (D) South

 చిత్రంలోని '?' ఏ దిక్కును సూచించును?

- (A) పడమర
- (B) తూర్పు
- (C) ఉత్తరం
- (D) దక్షిణం

74. Leaf is green in colour due to

- (A) Roots
- (B) Seeds
- (C) Flower
- (D) Chlorophyll

ఆకు ఆకుపచ్చగా ఉండుటకు కారణము

- (A) వేర్లు
- (B) విత్తనము
- (C) పుష్పము
- (D) పత్రహరితము

75. office issues the caste and income certificates.

- (A) MRO
- (B) PHC
- (C) MEO
- (D) MDO

కులం, ఆదాయ ధృవీకరణ పత్రాలు మంజూరు చేయు కార్యాలయము

- (A) ఎమ్.ఆర్.ఓ.
- (B) పి.హెచ్.సి.
- (C) ఎమ్.ఇ.ఓ.
- (D) ఎమ్.డి.ఓ.

తెలుగు

76. క్రింది బొమ్మలను సరియగు పదాలతో జతపరచండి.

(1)



(a) కన్ను

(2)



(b) చెట్టు

(3)



(c) పిల్లి

(4)



(d) సూర్యుడు

- (A) 1-b, 2-a, 3-d, 4-c
 (B) 1-a, 2-d, 3-c, 4-b
 (C) 1-d, 2-b, 3-a, 4-c
 (D) 1-c, 2-d, 3-b, 4-a

77-79. ఈ క్రింది పేరాను చదివి ప్రశ్నలకు సరియగు జవాబులు రాయండి.

గాంధీజీ తన పనులను తానే చేసుకొనే వాడు. ఆశ్రమంలో ఉంటూ పరిసరాలను తానే శుభ్రం చేసేవాడు. తన బట్టలకు కావలసిన నూలును తానే వడికేవాడు. తన బట్టలను తానే ఉతుక్కునే వాడు. బ్రిటీష్ వారు మన దేశాన్ని పాలించడం చూసి స్వాతంత్ర్యం కోసం కృషి చేశాడు. పోరాటంలో నాయకులను, ప్రజలందరినీ ఒకే తాటిమీద నడిపించాడు. గాంధీజీకి ఆయన భార్య కస్తూరీబాయి చేదోడు వాదోడుగా ఉండేది. ఆయన అంటరానితనం మహాపాపం అన్నాడు. మానవులందరూ ఒకటే నన్నాడు. సత్యం, అహింస, ఆత్మవిశ్వాసం, ధైర్యం పట్టుదల అన్నవి ఆయనను గొప్ప నాయకుడిని చేశాయి. అందువల్లనే ఆయన మహాత్ముడు అని పేరు పొందాడు.

77. స్వాతంత్ర్యానికి ముందు మన దేశాన్ని ఎవరు పాలించారు?

- (A) బ్రిటీష్ వారు (B) ఫ్రెంచి వారు
 (C) జర్మనీ వారు (D) ఇటలీ వారు


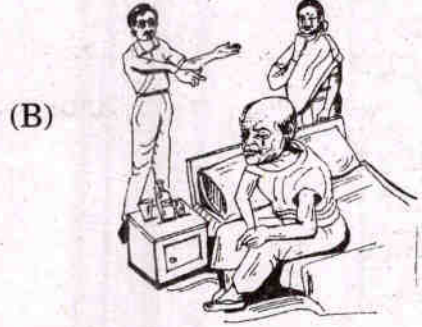
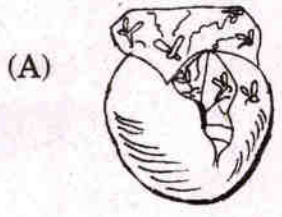
78. మహాత్మాడు ప్రజలందరినీ నడిపించాడు.

- (A) ఒకే దారంమీద (B) ఒకే తాటిమీద
(C) ఒకే రహదారి మీద (D) రెండు తాళ్ళమీద

79. “కస్తూరిబాయి గాంధీగారికి చేదోడు వాదోడుగా ఉండేది” అను వాక్యంలో గీత గీసిన పదానికి సరియగు అర్థాన్ని గుర్తించండి.

- (A) సహాయంగా ఉండటం (B) సహాయం చేయకపోవటం
(C) ఇబ్బంది పెట్టడం (D) గొడవ పెట్టుకోవడం

80. క్రింది వానిలో “తల్లి దండ్రు మీద దయలేని పుత్రుడు పుట్టనేమి వాడు గిట్టనేమి” అను వాక్యమునకు సరిపోవు చిత్రమును గుర్తించండి.



81. “రాము పుస్తకమును చదువుతున్నాడు.” అను వాక్యంలో గీత గీసిన పదం ఏ కాలానికి చెందినది?

- (A) భూత కాలం (B) భవిష్యత్ కాలం
(C) వర్తమాన కాలం (D) వేసవి కాలం

82. తెలంగాణ ముఖ్యమంత్రి ఏ నియోజక వర్గ శాసన సభ్యులు?

- (A) సిద్దిపేట (B) గజ్వేల్
(C) సిరిసిల్లా (D) సంగారెడ్డి

83. ఎవరెస్ట్ శిఖరం ఎక్కడం ఎంత కష్టమో '!'
పై వాక్యంలోనున్న గుర్తును ఏమంటారు?
- (A) ఆశ్చర్యార్థకం (B) ప్రశ్నార్థకం
(C) విరామార్థకం (D) స్వల్ప విరామార్థకం

84. దసరా పండుగకు శమీ వృక్షాన్ని దర్శిస్తారు.
గీత గీసిన పదాన్ని ఇలా కూడా అంటారు.
- (A) తుమ్మి చెట్టు (B) తుమ్మ చెట్టు
(C) మర్రి చెట్టు (D) జమ్మి చెట్టు

85. క్రింది గళ్ళలోని దీర్ఘంలేని అక్షరాన్ని గుర్తించండి.

డిః	ట	కా
రా	చో	తే
జా	చౌ	అ

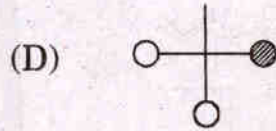
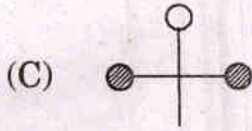
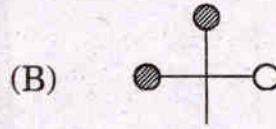
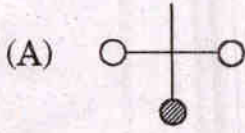
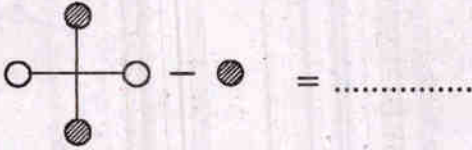
- (A) తే (B) ట
(C) అ (D) డిః
86. PIN అంటే
- (A) పోస్టల్ ఇండియా నెంబర్
(B) పోస్టల్ ఇన్ఫర్మేషన్ నెంబర్
(C) పోస్టల్ ఇంపార్టెంట్ నెంబర్
(D) పోస్టల్ ఇండెక్స్ నెంబర్
87. పేరిణి అను పదం కు సంబంధించింది.
- (A) ఒక పని (B) ఒక రకమైన సృత్యం
(C) ఒక పుస్తకం (D) ఒక వస్తువు

88. హాలుడు ఏ శతాబ్దానికి చెందినవాడు?
(A) 11వ శతాబ్దం (B) 1వ శతాబ్దం
(C) 21వ శతాబ్దం (D) 2వ శతాబ్దం
89. పరోపకారం చేయడమంటే
(A) ఇతరులకు మేలు చేయడం. (B) ఇతరులకు హాని చేయడం.
(C) ఇతరులకు కీడు చేయడం. (D) ఇతరులను హేళన చేయడం.
90. నాగార్జున సాగర్ ఆనకట్ట ఏ సంవత్సరంలో శంఖుస్థాపన చేయబడింది?
(A) 1965 (B) 1945
(C) 1975 (D) 1955
91. "ఆకాశంలో ఇంద్రధనుస్సును చూస్తే అందుకోవాలని ఉంటుంది."
గీత గీసిన పదానికి మరొక పదం
(A) హరివిల్లు (B) గిరివిల్లు
(C) విరివిల్లు (D) సిరివిల్లు
92. ఈ క్రింది వానిలో పేరుమోసిన కాకతీయుల రాణి ఎవరు?
(A) రఘుస్మి లక్ష్మీబాయి (B) రుద్రమదేవి
(C) సావిత్రిబాయి (D) రాణి పద్మావతి
93. "సరళ బడికి కొత్త పుస్తకాన్ని తీసుకొని వెళ్ళింది" అను వాక్యంలోని విశేషణ పదాన్ని గుర్తించండి.
(A) సరళ (B) వెళ్ళింది
(C) బడికి (D) కొత్త
94. భారత దేశంలో తెలంగాణ ఎన్నవ రాష్ట్రం?
(A) 28 వ (B) 30 వ
(C) 29 వ (D) 25 వ
95. చిత్రకళకు కొత్త అందాలు తెచ్చిన చిత్రకారుడెవరు?
(A) కొండపల్లి శేషగిరి రావు (B) పొయ్యిరికి సోమన
(C) పోతన (D) మిద్దె రాములు

Mental Ability (మానసిక సామర్థ్యం)

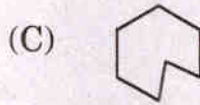
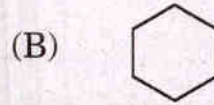
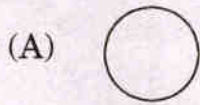

96. Identify the shape after subtraction of the given figure.

క్రింది పటంలో నుండి “●” ని తీసివేయగా వచ్చు ఆకారం



97. Which shape is next in the series ?

క్రింది వానిలో తర్వాత వచ్చే పటము?



(D) None of the given (ఏదీకాదు)

98. If one hour is required to dry one shirt, what is the time required to dry 15 shirts ?

(A) 15 hours

(B) 14 hours

(C) 1 hour

(D) None of the given

ఒక చొక్కా ఆరడానికి ఒక గంట సమయం పట్టినచో 15 చొక్కాలు ఆరడానికి ఎంత సమయం పడుతుంది?

(A) 15 గంటలు

(B) 14 గంటలు

(C) 1 గంట

(D) ఏదీకాదు

99. If BAG is coded as CBH and PEN is coded as QFO, then INK is coded as

BAG ను CBH గా మరియు PEN ను QFO గా కోడ్ చేసిన INK యొక్క కోడ్

- (A) JOL
- (B) HMJ
- (C) JOK
- (D) LOJ

100. Identify the next figure in the series.

క్రింది పరుస క్రమాలలో తర్వాత వచ్చే పటం

