

iv. (b) Social Science

TET மாதிரி வினாத்தாள் / TET Model Question Paper

சமூக அறிவியல் Social Science
தாள் – II - Paper – II

91. ஹரப்பா நாகரீகத்தில் 'பெருங்குளம்' இருந்தது என்பது உணர்த்துவது
- A நீரின் முக்கியத்துவம்
 - B நீரின் புனிதத்தன்மை
 - C நீரின் சேமிப்பு
 - D நீரின் பயன்பாடு

The significance of the presence of 'Great bath' in Harappan Civilization

- A Importance of water
- B Holiness of water
- C Water Harvest
- D Utility of water

92. உலகிலேயே மிகத் தொன்மையானதென வரலாற்றறிஞர்களால் கருதப்படுவது எது ?
- A கங்கைச் சமவெளி
 - B விந்திய மலைக்குத் தெற்கிலுள்ள பகுதி
 - C வடமேற்கு இந்தியச் சமவெளி
 - D இந்தியாவின் வடகிழக்கு பகுதி

Which is considered as the most ancient part of the world by historians?

- A Gangetic Valley
- B Southern part of Vindhya Mountain
- C North Western Indian Valley
- D North Eastern part of India

93. வேத கால பெண் கவிஞர்கள்
- A பிரஜாபதி, விசுவபதி, சதமானா
 - B நிஷ்கா, பாஞ்சாலி, சுவர்ணா
 - C கார்கி, மைத்ரேயி, ஓளவை
 - D அபலா, கோசா, லோபமுத்ரா

The Female poets of Vedic period

- A Prajapathi, Viswapathi, Sadamana
- B Niska, Panjali, Swarna
- C Garki, Maithreyi, Avvai
- D Abala, Kosa, Lobamudra

94. பெளத்த துறவிகளின் விகாரங்கள் மிகுந்த மாநிலம்
A கர்நாடகம் B பீகார் C ஜார்கண்டு D ஒடிசா

The State that comprises more number of Buddhist Viharas is
A Karnataka B Bihar C Jharkhand D Oddisa

95. சந்திரகுப்த மௌரியரின் ஆட்சிக் காலம்
A கி.மு. 298-273 B கி.மு. 324-299
C கி.மு. 261-236 D கி.மு. 280-255

The reign of Chandragupta Mauriya
A B.C. 298-273 B B.C. 324-299
C B.C. 261-236 D B.C. 280-255

96. சிராவஸ்தி என்பது
A நதி B வேதநூல் C நகரம் D கோவில்

'Siravasthi' means
A River B Holy book C Town D Temple

97. ஹர்ஷர் வடமொழியில் எழுதிய நூல்
A கரோஸ்தி B தர்ம விஜயம் C முத்ரராட்சசம் D ரத்னாவளி

The book written by Harsha in Sanskrit
A Karosthi B Dharma Vijayam
C Mudraratshasam D Ratnavali

98. சி-யூ-கி என்னும் நூல் கூறுவது
A ஹர்ஷரின் நிர்வாகம் B பெளத்த மதம்
C ஹர்ஷரின் படையெடுப்பு D நாளந்தா பல்கலைக்கழகம்

The book 'Si-Yu-Ki' is on
A Administration of Harsha B Buddhism
C Conquests of Harsha D Nalanda University

99. கஜூராஹோ கோவிலைக் கட்டியவர்கள்
A சந்தேலர்கள் B இராஜபுத்திரர்கள்
C சௌகான்கள் D பிரதிகாரர்கள்

'Khajuraho' temple was built by
A Sandelas B Rajputs C Chauhans D Pratiharas

100. ஹொய்சாள மன்னர் விஷ்ணுவர்தனர், தலைநகரை சோசவீர் என்ற இடத்திலிருந்து மாற்றிய இடம்
A வாரங்கல் B தேவகிரி C வெங்கி D துவாரசமுத்திரம்

Vishnuvardhana, the Hoysala king, who shifted his capital from Sosaveer to

- A Warangal B Devagiri C Venki D Dwara Samudra

101. ஐம்பொன்னால் சிலை செய்யும் கலையை அறிமுகப்படுத்தியவர்கள்

- A பல்லவர்கள் B பிற்காலப் பல்லவர்கள்
C சோழர்கள் D பிற்காலச் சோழர்கள்

Iconography was introduced by

- A Pallavas B Later Pallavas
C Cholas D Later Cholas

102. முகமது கஜினியின் 17 படையெடுப்புகளைப் பற்றிக் குறிப்பிடும் வரலாற்று ஆசிரியர்

- A சர். ஜான் மார்ஷல் B சர். தாமஸ்
C சர். ஹென்றி எலியட் D சர். ஹென்றி போர்டு

The historian, who mentioned the 17 invasions of Muhamed Gazani was

- A Sir. John Marshal B Sir. Thomas
C Sir. Henry Elliot D Sir. Henry Ford

103. 'லாக்பக்ஷா' எனப் புகழப்பட்ட அரசர்

- A குத்பதீன் ஐபக் B பால்பன்
C இல்டுமிஷ் D நசுருதீன்

The King who was praised as 'LakBaksha'

- A Qut-pu-din Ibeq B Balban
C Iltumish D Nasurudeen

104. டெல்லி சுல்தான்கள் ஆட்சியில் வெளியுறவுத் துறை அமைச்சரின் பெயர்

- A திவானி இன்ஷா B திவானி ரிஸாலத்
C திவானி அர்ஸ் D திவானி ஆம்

The name of the Foreign Minister in the Rule of Delhi sultanate was

- A Diwani Inshah B Diwani Rizalat
C Diwani Urs D Diwani Am

105. தலைக்கோட்டைப் போர் நடைபெற்ற ஆண்டு

- A கி.பி. 1545 B கி.பி. 1555 C கி.பி. 1565 D கி.பி. 1575

Battle of 'Talaikottai' was held in the year

- A AD 1545 B AD 1555 C AD 1565 D AD 1575

106. மூன்றாவது பானிபட் போருக்கு முன் பஞ்சாபை கைப்பற்ற இந்தியாவின் மீது பலமுறை படையெடுத்தவர்

- A கஜினி முகம்மது B முகம்மது கோரி
C அகமது ஷா அப்தாலி D ஒளராங்கசிப்

The King who invaded India many a times to capture Punjab before the third Battle of Panipet

- A Gazani Mohamud B Mohamud Ghori
C Ahamed Shah Abdali D Auranzeb

107. புரந்தர் உடன்படிக்கை மேற்கொள்ளப்பட்ட ஆண்டு

- A கி.பி. 1650 B கி.பி. 1665 C கி.பி. 1660 D கி.பி. 1655

Treaty of 'Purandhar' was signed in the year

- A AD 1650 B AD 1665 C AD 1660 D AD 1655

108. ஆங்கிலப் பேரரசை இந்தியாவில் தோற்றுவித்தவர்

- A இராபர்ட் கிளைவ் B டியூப்ளே
C மிர்ஜாபர் D சர் ஐயர் கூட்

The person who established British rule in India

- A Robert Clive B Duplex
C Mirjafer D Sir. Iyercoot

109. வாரன் ஹேஸ்டிங்ஸ் ஆட்சியின்பொழுது அயோத்தியுடன்

இணைக்கப்பட்ட பகுதி

- A ஜார்க்கண்டு B உத்திரகாண்டு
C ரோஹில்கண்டு D பந்தல் காண்டு

The place annexed with Oudh during the rule of Warren Hastings

- A Jharkhand B Utharkhand
C Rohilkhand D Bundelkhand

110. 'மைசூர் புலி' என அழைக்கப்பட்டவர்

- A ஹைதர் அலி B திப்பு சுல்தான்
C சப்தர் அலி D பதேக் ஹைதர்

The person who was named as 'Tiger of Mysore'

- A Hyder Ali B Tippu Sultan
C Sabdar Ali D Fadek Hyder

111. கி.பி. 1453 ஆம் ஆண்டின் முக்கியத்துவம்

- A அல்புகார்க்கு இரண்டாவது ஆளுநராக பதவியேற்றது
B கொலம்பஸ் கடல் பயணத்தை மேற்கொண்டது
C துருக்கியர்கள் கான்ஸ்டான்டினோபிளைக் கைப்பற்றியது
D அம்பாயினா படுகொலை நடந்தது

The importance of the year 1453 AD

- A Albuquerque who appointed as second Governor
B The sea route journey of Columbus
C Constantinoble was captured by Turks
D The massacre of Ambaina

112. மதுரை நாயக்கர் ஆட்சியின் கடைசி ஆட்சியாளர்
A திருமலை நாயக்கர் B மீனாட்சி
C இராணி மங்கம்மாள் D விஸ்வநாத நாயக்கர்

The last ruler of Madurai Nayakas was
A Thirumalai Nayak B Meenakshi
C Rani Mangammal D Viswanatha Nayak

113. பல்லவர்கள் காலத்தின் ஆட்சி மொழி
A தமிழ் B கிரந்தம் C பாலி D சமஸ்கிருதம்

The official language of Pallavas is
A Tamil B Grantham C Pali D Sanskrit

114. சமுதாய முன்னேற்றத்தின் விளைநிலம்
A வீடு B குடும்பம் C பள்ளி D சமூகம்

The nurturing field of social progress
A House B Family C School D Society

115. இந்தியாவில் உள்ளாட்சி அமைப்பை முதன்முதலில் ஏற்படுத்தியவர்
A கர்சன் பிரபு B கானிங் பிரபு
C ரிப்பன் பிரபு D டல்ஹௌசி பிரபு

The local Government in India was initially established by
A Lord Curzon B Lord Canning
C Lord Rippon D Lord Dolhouse

116. தமிழ்நாட்டிலுள்ள ஊராட்சி ஒன்றியங்களின் எண்ணிக்கை
A 370 B 375 C 380 D 385

Total number of Panchayat Unions in Tamil Nadu
A 370 B 375 C 380 D 385

117. மாநிலங்களவையில் குடியரசுத் தலைவரால் நியமனம் செய்யப்படும்
உறுப்பினர்களின் எண்ணிக்கை
A 12 B 14 C 16 D 18

The number of persons nominated by President in Rajya Saba
A 12 B 14 C 16 D 18

118. மூன்று மாநிலங்களில் அமைந்துள்ள யூனியன் பிரதேசம்
A டையூ, டாமன் B தாத்ரா நாகர் ஹைவேலி
C சண்டிகர் D புதுச்சேரி

The Union Territory that is located in three State
A Dieu, Damen B Dadra-Nagar Highvalley
C Chandigar D Puducherry

119. இந்தியாவின் மொத்த பரப்பளவு

- A 32 87, 263 ச.கி.மீ. B 31 87, 263 ச.கி.மீ.
C 34 88, 326 ச.கி.மீ. D 32 86, 362 ச.கி.மீ.

The total area of India

- A 32 87, 263 Sq.Km B 31 87, 263 Sq.Km
C 34 88, 326 Sq.Km D 32 86, 362 Sq.Km

120. அரசியல் நிர்ணய சபையின் முதல் கூட்டத்திற்கு தலைமை வகித்தவர்

- A டாக்டர் பி.ஆர். அம்பேத்கார் B டாக்டர். சச்சிதானந்த சின்கா
C டாக்டர் கே.எம். முன்ஷி D டாக்டர் இராஜேந்திர பிரசாத்

The first meeting of constituent Assembly was presided by

- A Dr. B.R. Ambedkar B Dr. Sachidananda Sinha
C Dr. K.M. Munshi D Dr. Rajendra Prasad

121. அனைவருக்கும் கல்வி வழங்கும் அரசியலமைப்பின் பிரிவு

- A சரத்து 43 B சரத்து 44 C சரத்து 45 D சரத்து 41

The Article which deals with 'Education for All'

- A Article 43 B Article 44 C Article 45 D Article 41

122. சாரதா சட்டம் கொண்டு வரப்பட்ட ஆண்டு

- A 1927 B 1929 C 1937 D 1939

'Saradha Act' was enacted in the year

- A 1927 B 1929 C 1937 D 1939

123. உலக வங்கி என்பது

- A IMF B IBRD C ILO D IPU

World Bank means

- A IMF B IBRD C ILO D IPU

124. இந்தியாவில் மிக அதிகமாக பேசப்படும் இரண்டாவது இந்திய மொழி

- A வங்காளம் B தெலுங்கு C கன்னடம் D ஒரியா

The second Indian language which is widely spoken in India

- A Bengali B Telugu C Kannada D Oriya

125. இந்தியாவில் தேசிய மனித உரிமைகள் ஆணையம் ஏற்படுத்தப்பட்ட ஆண்டு

- A 1991 B 1992 C 1993 D 1994

In India, the National Human Rights Commission was established in the year

- A 1991 B 1992 C 1993 D 1994

126. பொருளியலின் அடிப்படைக் கூறுகள்

- A உற்பத்தி, தொழில், வருமானம்
- B உற்பத்தி, தொழில், நுகர்ச்சி
- C உற்பத்தி, நுகர்ச்சி, பகிர்வு
- D உற்பத்தி, பகிர்வு, வருமானம்

The basic features of Economics are

- A Production, Labour, Income
- B Production, Labour, Consumption
- C Production, Distribution, Consumption
- D Production, Distribution, Income

127. பொருளியலின் தந்தை என அழைக்கப்படுபவர்

- A ஜான் மார்ஷல்
- B ஆடம் ஸ்மித்
- C காரல் மார்க்ஸ்
- D மால்தூஸ்

The Father of Economics

- A John Marshall
- B Adam Smith
- C Karl Marx
- D Malthus

128. மானட்டா என்பது

- A உரோமானிய பெண் கடவுள்
- B உரோமானிய உணவு வகை
- C ரோமானிய நகரம்
- D உரோமானிய எழுத்து முறை

'Manatta' means

- A Women Goddess of Romans
- B Cuisine of Romans
- C Town in Rome
- D Script of Romans

129. சூரியக் குடும்பத்தில் சூரியனுக்கு மிக அருகில் உள்ள கோள் ?

- A பூமி
- B புதன்
- C செவ்வாய்
- D நெப்டியூன்

Which is the nearest planet to the sun in the solar system?

- A Earth
- B Mercury
- C Mars
- D Jupiter

130. ரோமன்ச் ஆழ்கடல் பகுதி அமைந்துள்ள பெருங்கடல்

- A அட்லாண்டிக் பெருங்கடல்
- B இந்திய பெருங்கடல்
- C பசிபிக் பெருங்கடல்
- D அண்டார்டிக் பெருங்கடல்

Romanche deep sea lies in

- A Atlantic Ocean
- B Indian Ocean
- C Pacific Ocean
- D Antarctic Ocean

131. தமிழ்நாட்டில் மொத்தப் பரப்பு

- A 1,30058 ச.கி.மீ.
- B 2,20060 ச.கி.மீ.
- C 1,40078 ச.கி.மீ.
- D 3,60004 ச.கி.மீ.

Total area of Tamil Nadu

- A 1,30058 Sq.Km
- B 2,20060 Sq.Km
- C 1,40078 Sq.Km
- D 3,60004 Sq.Km

Which Ocean has one third of land surface in the world

- A Pacific Ocean B Atlantic Ocean
C Indian Ocean D Arctic Ocean

138. உலகின் மிகப்பெரிய நீர்ச்சந்தி

- A டேவிஸ் நீர்ச்சந்தி B பாக் நீர்ச்சந்தி
C போரோ நீர்ச்சந்தி D டார்டார் நீர்ச்சந்தி

World's largest strait

- A Davis strait B Palk strait
C Borro strait D Tartar strait

139. அதிகமான உப்புத்தன்மை (Salinity) கொண்ட நீர்நிலை

- A காஸ்பியன் கடல் B வான் ஏரி
C சாக்கடல் D உட்டா ஏரி

The highest salinity is found in the waterbody

- A Caspian sea B Van lake
C Dead sea D Lake of Uttah

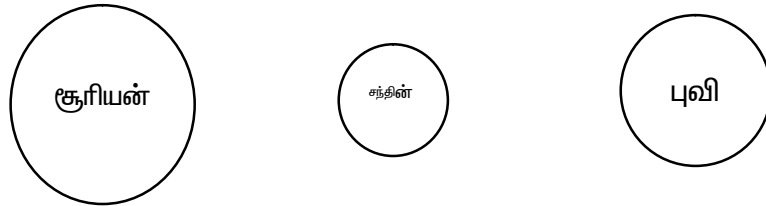
140. கீழே உள்ள நிலத்தோற்றத்தில் எது பனியாற்றின் செயலினால் உருவானது அல்ல

- A U வடிவ பள்ளத்தாக்கு B சர்க்
C தொங்கும் பள்ளத்தாக்கு D எதுவும் இல்லை

Which is not the work of the glacier from the following?

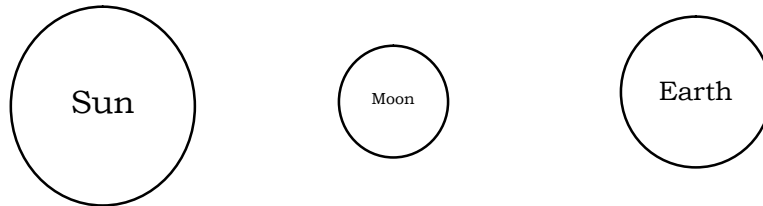
- A U shaped valley B Cirque
C Hanging Valley D None of these

141. கீழ்க்காணும் படம் உணர்த்துவது



- A சூரிய கிரகணம் B பெளர்ணமி
C சந்திர கிரகணம் D அமாவாசை

The following diagram indicates



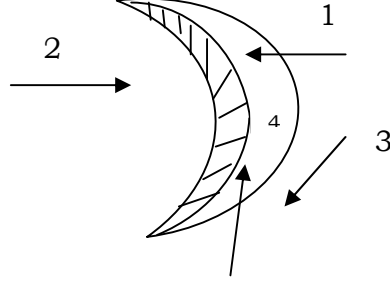
- A Solar eclipse B Full moon
C Lunar eclipse D New moon

142. மலைகளுக்கான உலக அளவில் ஏற்றுக் கொள்ளப்பட்ட நிறம்
 A நீலம் B பச்சை C மஞ்சள் D பழுப்பு

Universally accepted colour for mountain

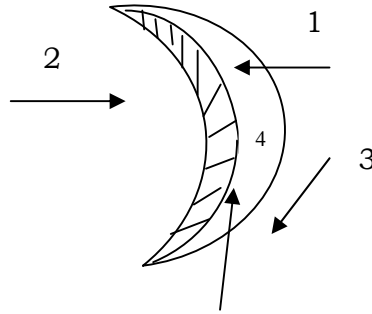
- A Blue B Green C Yellow D Brown

143. பிறைச் சந்திர வடிவ 'பர்கான்-ல்' காற்று வீசும் திசை



- A 1 B 2 C 3 D 4

On which direction the predominant wind blows in the crescent shaped Barchan



- A 1 B 2 C 3 D 4

144. அதிகமான வெப்பநிலை நிலவும் இந்திய நகரம்
 A ஜெய்சால்மர் B ஸ்ரீ கங்காநகர் C பிக்கனீர் D அஜ்மீர்

Highest temperature is found in India at

- A Jaisalmer B Sri Ganganagar C Bikaner D Ajmer

145. உப்புத்தன்மையை (Salinity) அளக்க உதவும் கருவி
 A லாகோ மீட்டர் B அல்டி மீட்டர்
 C எலெக்ட்ரிக் மீட்டர் D பாரோ மீட்டர்

Salinity is measured by

- A Laco meter B Altimeter
 C Electric Salinity meter D Barometer

146. எந்த அட்சரேகைகளுக்கு இடையில் டோல்டிரம்ஸ் அமைகிறது
 A 30° மற்றும் 40° வ & தெ அட்சம் B 35° மற்றும் 60° வ & தெ அட்சம்
 C 5° மற்றும் 30° வ & தெ அட்சம் D 5° மற்றும் 50° வ & தெ அட்சம்

'Doldrums' lie roughly between

- A 30° and 40° N & S latitude B 35° and 60° N & S latitude
 C 5° and 30° N & S latitude D 5° and 50° N & S latitude

147. இந்தியாவில் நவம்பர் முதல் பிப்ரவரி வரை குளிர்காலம், ஜூன் முதல் செப்டம்பர் வரை மழைக்காலம், கோடைக்காலம் எப்போது ?

- A பிப்ரவரி-மார்ச் B ஜூன் மத்தியிலிருந்து-அக்டோபர்
 C மார்ச்-ஜூன் D செப்டம்பர்-டிசம்பர்

In India from Nov to Feb is winter, June to Sep is rainy season, when is summer season?

- A Feb to March B Middle of June to October
 C March to June D Sep to Dec

148. பெரிய வரைபட அளவையை தேர்ந்தெடுத்து எழுதுக.

- A 1:50,000 B 1:00,000 C 1:250,000 D எதுவும் இல்லை

Choose the largest map scale from the following

- A 1:50,000 B 1:00,000 C 1:250,000 D None of these

149. ஒரே அளவுள்ள காற்றழுத்தத்தினை கொண்ட வெவ்வேறு இடங்களை இணைக்கும் கோடுகள்

- A சம உயரக்கோடு B சம அழுத்தக்கோடு
 C சமவெப்பக்கோடு D ஹைதர்கிராப்

The lines that adjoin different places with the same pressure

- A Contour B Isobar
 C Isotherm D Hythergraph

150. நிலவரைபடங்களை கட்டமைக்கும் அறிவியல்

- A கார்டோகிராபி B டோப்போகிராபி
 C டெமோகிராபி D புவியியல்

The science of constructing map

- A Cartography B Topography
 C Demography D Geography
