

Total No. of Pages : 32
Total No. of Questions : 100

Q. Booklet
Code

A

V-TG CET - 2020

(Common Entrance Test for Admission into Class - V
in TSWR Institutions)

Time : 2 hours

Max Mark : 100

Instructions to Candidates :-

అభ్యర్థులకు సూచనలు :-

1. Each Question carries 1 mark.
ప్రతి ప్రశ్నకు ఒక మార్కు.
2. This Question Paper consists of Five parts.
ప్రశ్నాపత్రంలో ఐదు భాగాలున్నాయి.
Part - A : 20 Marks (Q. No. 1-20) - Telugu.
Part - B : 25 Marks (Q. No. 21-45) - English.
Part - C : 25 Marks (Q. No. 46-70) - Mathematics
Part - D : 20 Marks (Q. No. 71-90) - Environmental Science.
Part - E : 10 Marks (Q. No. 91-100) - Mental Ability.
3. Before you begin to answer, fill in the necessary particulars and sign on the OMR sheet, failing which the script will **not** be valued.
జవాబులను రాయడానికి ముందు OMR లో వివరాలను నింపి, అభ్యర్థులు సంతకం చేయాలి, లేనిచో జవాబు పత్రం దిద్దబడదు.
4. You are prohibited from writing your name and register number on any part of the OMR sheet.
OMR లో మీ పేరు గానీ లేదా మీ రిజిస్ట్రేషన్ సంఖ్య కానీ రాయకూడదు.
5. In case, your Hall Ticket Number is not printed on the OMR sheet, write it in the box provided in the OMR sheet itself.
హాల్ టికెట్ సంఖ్య OMR లో ముద్రించబడనప్పుడు అక్కడే ఉన్న గడిలో మీ హాల్ టికెట్ సంఖ్యను రాయాలి.
6. You are prohibited from bringing loose sheets of paper or books, written or unwritten, printed, typed or cyclostyled into the examination hall.
రాసిన, ముద్రించిన, బైపు లేదా సైక్లోస్టైల్ చేయబడిన విడి పేపర్లను/పుస్తకాలను పరీక్షా హాల్లోకి తీసుకురాకూడదు.
7. Choose the correct answer and darken the relevant circle in the OMR sheet with a Blue / Black ball point pen.
సరైన జవాబులను నిర్ణయించుకొని OMR లోని సంబంధిత వృత్తాకారాన్ని (circle) OMR నీలి/నల్లని బాల్ పాయింట్ పెన్ ద్వారా దిద్దాలి/నల్లగా చేయాలి.
8. Candidates are NOT permitted to leave the Exam Hall till the last 10 minutes.
నిర్ధారిత పరీక్ష సమయానికి చివరి 10 నిమిషాల వరకు అభ్యర్థులు పరీక్షా హాల్ వదిలి వెళ్ళడానికి అనుమతించబడరు.

PART - A
TELUGU (Q.No. 1-20)

1. క్రింది పట్టికలో పూసాక్షరాన్ని గుర్తించండి.

- (A) కా
- (B) కీ
- (C) క
- (D) కూ



2. సేత పాఠశాలకు వెళ్ళేది ఏ కాలం?

- (A) భూతకాలం
- (B) భవిష్యత్కాలం
- (C) శీతాకాలం
- (D) పర్వమాసకాలం

3. చైత్ర మాసంలో మొదటి తిథి పాడ్యమి రోజు వచ్చే పండుగ

- (A) దీపావళి
- (B) ఉగాది
- (C) దసరా
- (D) సంక్రాంతి

4. 'చక్షిణ గంగ' అని ఏ నదికి పేరు?

- (A) కృష్ణ
- (B) తుంగభద్ర
- (C) గోదావరి
- (D) హరిదా


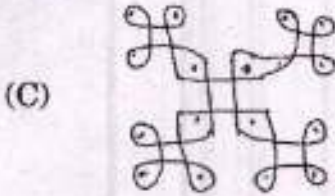
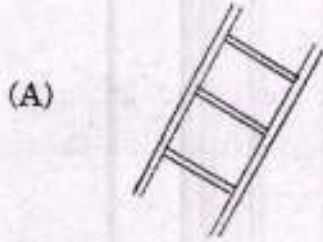
5. తన కోవమే తన
- (A) చుట్టవము
(B) సంతోషము
(C) శత్రువు
(D) రక్ష
6. తెలంగాణ కాశ్మీరంగా భావించే జిల్లా
- (A) నిజామాబాదు
(B) మెదక్
(C) మహబూబ్ నగర్
(D) ఆదిలాబాద్
7. క్రింది వాక్యంలో సంశ్లేషాక్షర పదాన్ని గుర్తించండి.
జ్యోత్స్న బడి పిల్లలతో కలిసి విహార యాత్రకు వెళ్ళింది.
- (A) పిల్లలు
(B) జ్యోత్స్న
(C) యాత్ర
(D) బడి
8. 'పకవకా' అనే పదానికి జతచేయ తగిన పదాన్ని గుర్తించండి.
- (A) నడపటం
(B) పొరడం
(C) చూడటం
(D) నవ్వటం

9. సాధనమున పనులు సమకూరు ధర్మ లోన
గీత గీసిన పదానికి అర్థాన్ని గుర్తించండి.
- (A) పౌలము
(B) భూమి
(C) ఆకాశం
(D) మేఘం
10. 'గాధాసప్తకతి' ఏ భాషలో సంకలనం చేశారు?
- (A) సంస్కృతం
(B) తెలుగు
(C) ఉర్దూ
(D) ప్రాకృతం
11. 'ఆంధ్రకేసరి' అను పదంలో ఉన్న జంతువు పేరు గుర్తించండి.
- (A) జింక
(B) పులి
(C) సింహం
(D) వినుగు
12. మన మేలు కోరువాడు స్నేహితుడు.
గీత గీసిన పదానికి వ్యతిరేకార్థాన్నిచ్చే పదాన్ని గుర్తించండి.
- (A) తడి
(B) మంచి
(C) పాడి
(D) కీడు

13. మెగస్టసీసు ఎవరి కాలంలో భారతదేశాన్ని సందర్శించాడు?

- (A) కాకతీయులు
- (B) విష్ణుకుండినులు
- (C) శాతవాహనులు
- (D) చోళులు

14. క్రింది బొమ్మలలో సరళాక్షరాలు గల పదాన్ని గుర్తించండి.



15. పద్మ తెరిచిన లాలిక. ఆమె రోజూ కథల పుస్తకాలు చదువుతుంది.

పై వాక్యంలో సర్వామూర్తి గుర్తించండి.

- (A) పద్మ
- (B) పుస్తకాలు
- (C) ఆమె
- (D) చదువుతుంది

16. క్రింది పదాలలో మాసం పేరు

- (A) ప్రభవ
- (B) విభవ
- (C) ఫాల్గుణ
- (D) ప్రమోదూత

17. క్రింది పదంలో లోపించిన హల్లులను గుర్తించండి.

చం మ

- (A) ద దా
- (B) మా ద
- (C) ద మా
- (D) మా మ

(18-20) క్రింది పేరాను చదివి ఇచ్చిన మూడు ప్రశ్నలకు జవాబులు రాయండి.

రామయ్యది చిన్న కుటుంబం. అతని భార్య పేరు సీత. ఆమె చాలా మంచిది. వారికి ఇద్దరు పిల్లలు. అబ్బాయి పేరు తేజ. ఇతడు కర్నూలులో చదువుతున్నాడు. అమ్మాయి పేరు పూజ. ఈమె ఊరి బడిలో చదువుతున్నది. ఒక రోజు అందరూ కలిసి తోటకెళ్ళారు. అక్కడ రకరకాల పళ్ళు తిన్నారు.

18. రామయ్య భార్య పేరు ఏమిటి?

- (A) తేజ
- (B) పూజ
- (C) సీత
- (D) గీత

19. తేజ ఎక్కడ చదువుతున్నాడు?

- (A) డిబ్బూరు
- (B) కర్నూలు
- (C) నెల్లూరు
- (D) బెంగళూరు

20. కుటుంబం అంతా కలిసి ఎక్కడికెళ్ళారు?

- (A) డిబ్బూరు
- (B) గుడికి
- (C) సినిమాకి
- (D) తోటకి

PART - B
ENGLISH (Q.No. 21-45)

21. Our house is than a palace.
- (A) big
 - (B) bigger
 - (C) biggest
 - (D) shorter
22. Vimala likes singing dancing.
- (A) and
 - (B) but
 - (C) yet
 - (D) although
23. Plural of thief.
- (A) thieves
 - (B) thives
 - (C) thieves
 - (D) None
24. I have many wheels. I run on rails. Who am I ?
- (A) Truck
 - (B) Aeroplane
 - (C) Train
 - (D) Ship

25. Ramu took out his book did not write anything.

- (A) and
- (B) but
- (C) yet
- (D) although

26. Arrange the following words in an order.

1 2 3 4

a merchant / called Harichand / There lived / in Delhi

- (A) 1 3 2 4
- (B) 3 4 2 1
- (C) 3 1 2 4
- (D) 4 1 2 3

27. Bees live in a

- (A) Hive
- (B) Burrow
- (C) Sty
- (D) Kennel

28. Put this poster the notice board.

- (A) above
- (B) near
- (C) on
- (D) beside

29. Grand father a very interesting story yesterday.

- (A) told
- (B) tells
- (C) telling
- (D) tell

(30-32) *Read the following poem.*

Reading stories is so much fun,
Our English book has plenty of them.
My friends like mathematics
Not just problems but also tricks.
 My brother found of drawing
 Birds singing and rivers flowing.
 My sister always plays with clay
 Makes toys pots to play.

Now, answer the following questions.

30. Who is fond of drawing ?

- (A) Friends
- (B) Sister
- (C) Brother
- (D) Cousin

31. Opposite of plenty.

- (A) more
- (B) abundant
- (C) too many
- (D) few

32. Which book has plenty stories ?

- (A) Social
- (B) English
- (C) Mathematics
- (D) Science

33. Find the missing letters.

Str - ng - r

- (A) ee
- (B) ae
- (C) ea
- (D) ao

34. Looked very closely or carefully.

- (A) Perched
- (B) Peered
- (C) Fluttered
- (D) Stepped

35. Find the wrongly spelt word.

- (A) hesitant
- (B) obedient
- (C) devoted
- (D) arrogant

36. Find the wrong pair.

- (A) Sneezing - nose
- (B) Yawning - mouth
- (C) Snapping - hands
- (D) Staring - legs

37. 'Calf' is the young one of a

- (A) Cow
- (B) Cat
- (C) Goat
- (D) Owl



38. A piece of cloth worn over for protection is
- (A) Compass
 - (B) Dress
 - (C) Veil
 - (D) Caravan
39. Which of the following words can be completed by using 'ch'?
- (A) Fla -- , chur --
 - (B) Cat -- , mu --
 - (C) Fet -- , Flu --
 - (D) Pu -- , bru --
40. Choose the appropriate pronoun of the underlined word.
Pushpa is a good girl. helps others.
- (A) He
 - (B) She
 - (C) It
 - (D) Her
41. Which is the unhealthy habit among the following?
- (A) sleeping early.
 - (B) eating vegetables.
 - (C) biting nails.
 - (D) playing games.

(42-45) Read the following passage.

I am the king of the forest. My kingdom had once been very beautiful. The jungle had been full of tall trees. Deers, Tigers, Peacocks and Pigeons were among my people. The hill tribes also lived with us. They loved the forest and respected our freedom.

Now, answer the following questions.

42. Who is T here ?

- (A) Tiger
- (B) Lion
- (C) Deer
- (D) Fox

43. Who respected their freedom ?

- (A) birds
- (B) animals
- (C) the hill tribes
- (D) trees

44. Opposite word of 'beautiful'.

- (A) handsome
- (B) pretty
- (C) nice
- (D) ugly

45. Pick the word which means 'forest' from the passage.

- (A) among
- (B) jungle
- (C) tribe
- (D) freedom

PART - C
MATHEMATICS (Q.No. 46-70)

46. The number of days that a leap year has

ఒక లీపు సంవత్సరంలో ఉండే రోజుల సంఖ్య

- (A) 365
- (B) 366
- (C) 364
- (D) 367

47. Write the following in number form :

"Nine Thousand Two Hundred and Seven."

"తొమ్మిది వేల రెండు వందల ఏడు" ను సంఖ్యరూపంలో వ్రాయగా

- (A) 927
- (B) 9207
- (C) 9027
- (D) 9270

48. How many grams are there in 1 kilogram ?

ఒక కిలోగ్రాముకు ఎన్ని గ్రాములు?

- (A) 100
- (B) 500
- (C) 1000
- (D) 10000

49. The ascending order of 143, 167, 115, 117, 123, 104.

143, 167, 115, 117, 123, 104 లను ఆరోహణ క్రమంలో వ్రాయగా

- (A) 104, 115, 117, 123, 143
- (B) 143, 123, 117, 115, 104
- (C) 104, 115, 123, 117, 143
- (D) 143, 104, 115, 117, 123

50. How many bottles of 250 ml can be filled by 2 litres of milk ?

2 లీటర్ల పాలతో ఎన్ని 250 మిల్లీ లీటర్ల సీసాలను నింపవచ్చును?

- (A) 4
- (B) 8
- (C) 25
- (D) 50

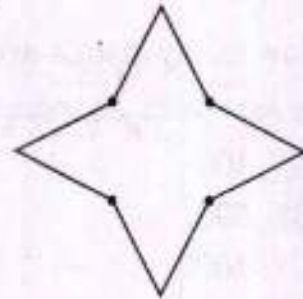
51. $\frac{1}{5}$ th of 40 books are kept in a bag. Then how many books are left outside the bag ?

40 పుస్తకాలలో $\frac{1}{5}$ వ భాగం ఒక సంచితో ఉంచితే, ఇంకా బయట మిగిలిన పుస్తకాలు ఎన్ని?

- (A) 8
- (B) 10
- (C) 5
- (D) 32

52. With how many lines, the given figure can be divided into two exactly equal parts ?

ప్రక్కనున్న పటాన్ని రెండు సమ భాగాలుగా విభజించునట్లు ఎన్ని గీతలు గీయవచ్చును?



- (A) 2
- (B) 1
- (C) 4
- (D) 6

53. What will be the next number 113, 116, 119, 122, ?

113, 116, 119, 122, సంఖ్య క్రమంలో తదుపరి వచ్చు సంఖ్య

- (A) 125
- (B) 128
- (C) 129
- (D) 130

54. What can be measured by using centimetres or metres ?

- (A) Length
- (B) Weight
- (C) Temperature
- (D) Money

క్రింది వానిలో దేనిని సెంటీ మీటర్లు లేదా మీటర్లలో కొలుస్తారు?

- (A) పొడవు
- (B) బరువు
- (C) ఉష్ణోగ్రత
- (D) డబ్బు

55. What is the place value of 8 in 489 ?

489 అను సంఖ్యలో 8 యొక్క స్థాన విలువ

- (A) 8
- (B) 80
- (C) 48
- (D) 800

56. × 500 ml = 2 litres.

..... × 500 మి.లీ. = 2 లీటర్లు

- (A) 4
- (B) 2
- (C) 8
- (D) 6

57. 2 kg + gm = 2450 gm.

2 కి.గ్రా. + గ్రా. = 2450 గ్రాములు.

- (A) 45
- (B) 50
- (C) 4500
- (D) 450

58. In the given figure, the shaded part represents which fraction ?

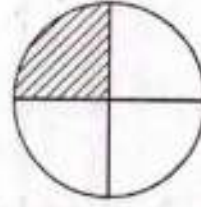
ఇచ్చిన పటంలో షేడ్ చేసిన భాగం సూచించు భిన్నం

(A) $\frac{3}{4}$

(B) $\frac{2}{4}$

(C) $\frac{1}{4}$

(D) $\frac{4}{4}$



59. Find perimeter of the given figure.

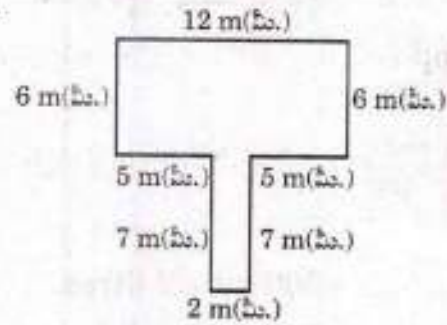
ఇచ్చిన పటానికి చుట్టుకొలత ఎంత?

(A) 50 m (మీ.)

(B) 52 m (మీ.)

(C) 54 m (మీ.)

(D) 53 m (మీ.)



60. Find the largest four digit number formed by using the digits 3, 4, 2, 9.


3, 4, 2, 9 అంకెల సుపయోగించి వ్రాయగల నాలుగంకెల సంఖ్యలలో గరిష్ట సంఖ్య

(A) 2439

(B) 9234

(C) 9342

(D) 9432



61. If one litre of milk costs Rs. 42, then the cost of 85 litres of milk is

- (A) Rs. 3750
- (B) Rs. 3560
- (C) Rs. 3570
- (D) Rs. 3670

ఒక లీటరు పాల ధర రూ. 42 అయితే 85 లీటర్ల పాల ధర ఎంత?

- (A) రూ. 3750
- (B) రూ. 3560
- (C) రూ. 3570
- (D) రూ. 3670

62. A rope of 108 m. long is cut into the pieces of 9 m each. Then the number of pieces is

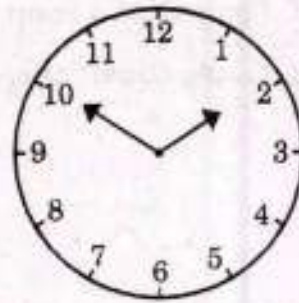
108 మీ. పొడవు గల త్రాడును, ఒక్కొక్కటి 9 మీ. పొడవు ఉండునట్లు కత్తిరిస్తే, ఏర్పడు త్రాడు ముక్కల సంఖ్య

- (A) 11
- (B) 12
- (C) 13
- (D) 14

63. What is the time in the Clock ?

గడియారం సూచించు సమయం ఎంత?

- (A) 2 : 00
- (B) 1 : 45
- (C) 1 : 50
- (D) 1 : 55



64. How many minutes are there in 1 hour 25 minutes ?

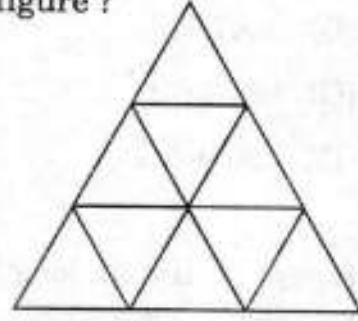
1 గంట 25 నిమిషాలలో మొత్తం ఎన్ని నిమిషాలు కలవు?

- (A) 60
- (B) 25
- (C) 75
- (D) 85

65. How many triangles are there in the given figure ?

ఇచ్చిన పటంలో మొత్తం ఎన్ని త్రిభుజాలు కలవు?

- (A) 9
- (B) 12
- (C) 11
- (D) 13



66. What is 14 times of 6 ?


6 కి 14 రెట్లు అనగా ఎంత?

- (A) 20
- (B) 8
- (C) 84
- (D) 82

67. The number of faces that a soap box has

ఒక సబ్బు పెట్టె యొక్క ముఖాల (తలాల) సంఖ్య

- (A) 8
- (B) 4
- (C) 5
- (D) 6



68. A tonic bottle contains 60 ml. of medicine. How much medicine will be there in 15 such tonic bottles ?

ఒక టోనిక్ బోటిలో 60 మి.లీ. మందు కలదు. అదే రకానికి చెందిన 15 బోటిలో ఎంత మందు ఉంటుంది?

- (A) 75 ml. (మి.లీ.)
(B) 900 ml. (మి.లీ.)
(C) 800 ml. (మి.లీ.)
(D) 600 ml. (మి.లీ.)

69. If $\text{☼} = 7$, then $\text{☼☼☼☼☼☼☼} = ?$

$\text{☼} = 7$ అయితే $\text{☼☼☼☼☼☼☼} = ?$

- (A) 7
(B) 35
(C) 42
(D) 56

70.

Grade గ్రేడు	Tally marks గణన చిహ్నాలు
A	
B	
C	

The above table represents the number of students who secured A, B, C grades in Tally marks. Then the total number of students in that class is

ఒక తరగతిలో విద్యార్థులు సాధించిన గ్రేడులను పై పట్టికలో ఇవ్వబడినవి. అయిన తరగతిలోని మొత్తం విద్యార్థుల సంఖ్య

- (A) 10
(B) 13
(C) 5
(D) 9

PART - D
ENVIRONMENTAL SCIENCE (Q.No. 71-90)

71. Restoring all minor irrigation tanks, Government of Telangana started programme.
- (A) Mission Kakatiya
 - (B) Mission Bhagiratha
 - (C) Haritha Haram
 - (D) Pallebata

ఎండిపోయిన చెలువుల నీటి నిలువ సౌమర్కం పెంచుటకు తెలంగాణ ప్రభుత్వం చేపట్టిన కార్యక్రమం

- (A) మిషన్ కాకతీయ
- (B) మిషన్ భగీరథ
- (C) హరిత హారం
- (D) పల్లెబాట

72. We get oil from

- (A) Sunflower
- (B) Cauliflower
- (C) Cabbage
- (D) Carrot

క్రింది వాటి నుండి నూనెను తీయవచ్చును.

- (A) ప్రొద్దు తిరుగుడు
- (B) కాలిఫ్లవర్
- (C) క్యాబేజీ
- (D) కారెట్

73. The number of permanent teeth in adults

పెద్దవారిలో శాశ్వత దంతాల సంఖ్య

- (A) 20
- (B) 22
- (C) 42
- (D) 32

74. Koneru Humpy is famous for

- (A) Cricket
- (B) Volleyball
- (C) Chess
- (D) Tennikoit

కోనేరు హంపి నకు ప్రసిద్ధి.

- (A) క్రికెట్
- (B) వాలీబాల్
- (C) చదరంగం
- (D) టెన్నికాయిట్

75. ears are not visible externally.

- (A) Birds
- (B) Lizard
- (C) Crocodile
- (D) All the above.

..... చెవులు బయటకు కనపించవు.

- (A) పక్షులు
- (B) బల్లి
- (C) మొసలి
- (D) పైవన్నియు

76. is polluting the atmosphere.

- (A) Carbon monoxide
- (B) Hydrogen
- (C) Oxygen
- (D) Nitrogen

వాతావరణాన్ని కలుషితం చేసేది

- (A) కార్బన్ మోనాక్సైడ్
- (B) హైడ్రోజన్
- (C) ఆక్సిజన్
- (D) నైట్రోజన్



77. The direction of North on the paper is shown as

కాగితంపై ఉత్తరం దిక్కును గా సూచిస్తారు.

- (A) →
- (B) ↑
- (C) ←
- (D) ↓

78. Birds migrate from distant places to

- (A) Sleep
- (B) Read
- (C) Lay eggs
- (D) Play

పక్షులు కోసం దూరప్రాంతాలకు పలస పోతాయి.

- (A) నిద్ర
- (B) చదువు
- (C) గ్రుడ్లు పెట్టడం
- (D) ఆట

79. is mixed with water to kill germs and microbes to purify it.

- (A) Carbon dioxide
- (B) Chlorine
- (C) Nitrogen
- (D) Cool drink

నీటిలోని హానికర సూక్ష్మజీవులను నశింపచేసి, శుద్ధి చేయుటకు నీటికి ను కలుపుతారు.

- (A) కార్బన్ డై ఆక్సైడ్
- (B) క్లోరిన్
- (C) నత్రజని
- (D) శీతల పానీయం

80. Cholam (Jowar) grow more in state.

- (A) Tamilnadu
- (B) Kerala
- (C) Rajasthan
- (D) Karnataka

..... రాష్ట్రంలో జొన్నలు ఎక్కువగా పండుతాయి.

- (A) తమిళనాడు
- (B) కేరళ
- (C) రాజస్థాన్
- (D) కర్ణాటక

81. Rainbow has how many colours ?

ఇంద్రధనుస్సులో ఎన్ని రంగులు ఉంటాయి?

- (A) 7
- (B) 6
- (C) 5
- (D) 3

82. disease is spread by drinking contaminated water.

- (A) Typhoid
- (B) Dengue
- (C) Malaria
- (D) Heart attack

కలుషిత నీరు త్రాగడం వలన వ్యాధి వ్యాపిస్తుంది.

- (A) టైఫాయిడ్
- (B) డెంగ్యూ
- (C) మలేరియా
- (D) గుండెపోటు

83. Which is (are) essential for germination of seeds ?

- (A) Air
- (B) Water
- (C) Sunlight
- (D) All the above.

విత్తనాలు లేదా గింజలు మొలకెత్తడానికి ఏమి అవసరం?

- (A) గాలి
- (B) నీరు
- (C) సూర్యకాంతి (వెలుతురు)
- (D) సైవన్నియు

84. The Right to Information Act was implemented from

- (A) 12th August 2005.
- (B) 12th September 2005.
- (C) 12th October 2005.
- (D) 12th November 2005.

సమాచార హక్కు చట్టం నుండి అమలులోకి వచ్చింది.

- (A) 12 ఆగస్టు 2005
- (B) 12 సెప్టెంబర్ 2005
- (C) 12 అక్టోబర్ 2005
- (D) 12 నవంబర్ 2005

85. is not a boundary state of Telangana.

- (A) Maharashtra
- (B) Karnataka
- (C) Chhattisgarh
- (D) Tamilnadu

తెలంగాణ యొక్క సరిహద్దు కానిది.

- (A) మహారాష్ట్ర
- (B) కర్ణాటక
- (C) ఛత్తీస్‌గఢ్
- (D) తమిళనాడు

86. Which crop needs more water ?

- (A) Jowar
- (B) Groundnut
- (C) Horsegram
- (D) Paddy

ఏ పంటకు ఎక్కువ నీరు అవసరం?

- (A) జొన్న
- (B) పల్లీ
- (C) ఉలవలు
- (D) పరి

87. The rule, that should be followed while driving vehicles.

- (A) Do not use mobile.
- (B) Wear helmet.
- (C) Wear seat belt.
- (D) All the above.

వాహనాలు సడీపేటప్పుడు పాటించవలసిన నియమం.

- (A) సెల్ ఫోను వాడరాదు.
- (B) హెల్మెట్ ధరించాలి.
- (C) సీటు బెల్టు సెట్టుకోవాలి.
- (D) పైనన్నియు.

88. Which is used to measure temperature of our body ?

- (A) Hydrometer
- (B) Barometer
- (C) Thermometer
- (D) Stethoscope

మన శరీర ఉష్ణోగ్రతను కొలుచుటకు ఉపయోగించునది ఏది?

- (A) హైడ్రోమీటరు
- (B) బారోమీటరు
- (C) థర్మోమీటరు
- (D) స్టెథోస్కోపు

89. The is a natural satellite of the Earth.

- (A) Sun
- (B) Moon
- (C) Star
- (D) Aeroplane

భూమికి సహజ ఉపగ్రహం


- (A) సూర్యుడు
- (B) చంద్రుడు
- (C) నక్షత్రం
- (D) విమానం

90. Which river flows through Telangana ?

- (A) Godavari
- (B) Tungabhadra
- (C) Penna
- (D) Ganga

తెలంగాణ గుండా ప్రవహించు నది ఏది?

- (A) గోదావరి
- (B) తుంగభద్ర
- (C) పెన్న
- (D) గంగ



Q. Booklet
Code

A

PART - E
MENTAL ABILITY (Q.No. 91 - 100)

91. Which will come next in AI, BJ, CK, ?

AI, BJ, CK, లో తరువాత వచ్చునది.

- (A) DH
- (B) DM
- (C) DL
- (D) LM

92. International Women's Day is celebrated on every

- (A) February 8
- (B) March 8
- (C) November 14
- (D) January 26

అంతర్జాతీయ మహిళా దినోత్సవంను ప్రతి సంవత్సరం ఏవుడు జరుపుకుంటాము?

- (A) ఫిబ్రవరి 8
- (B) మార్చి 8
- (C) నవంబర్ 14
- (D) జనవరి 26

93. Find which word cannot be made from the letters of the word "TRIBUNAL".

"TRIBUNAL" అను పదంలోని అక్షరాల నుండి ఏర్పడని పదం

- (A) LATIN
- (B) BRAIN
- (C) URBAN
- (D) TRIBLE

94. Find odd one out from the given options.

- (A) Man
- (B) Tiger
- (C) Stone
- (D) Monkey

క్రింది ఐచ్ఛికాలలో భిన్నమైనదానిని మీ సమాధానంగా గుర్తించుము.

- (A) పురుషుడు
- (B) పులి
- (C) రాయి
- (D) కోతి

95. Which fraction comes next : $\frac{1}{2}, \frac{3}{4}, \frac{5}{8}, \frac{7}{16}, ?$

తరువాత వచ్చు భిన్నం ఏది : $\frac{1}{2}, \frac{3}{4}, \frac{5}{8}, \frac{7}{16}, ?$

(A) $\frac{9}{32}$

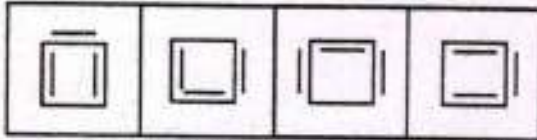
(B) $\frac{9}{25}$

(C) $\frac{11}{32}$

(D) None (ఏదీ కాదు)

96. Choose the figure which is different from the rest.

మిగతా వాటి నుండి భిన్నమైన పటమును గుర్తించుము.



(A)

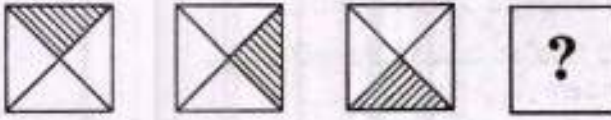
(B)

(C)

(D)

97. Find the next figure in the series.

క్రింద నిచ్చిన వరుసులో తరువాత వచ్చు పటం ఏది.



98. Arrange the given words in a meaningful sequence, and thus find the correct answer.

1. Table 2. Tree 3. Wood 4. Seed 5. Plant.

క్రింద నిచ్చిన పదాలను అర్థవంతమైన క్రమంలో అమర్చి, దానిని మీ సమరూఢానంగా గుర్తించుము.

1. టేబుల్ 2. చెట్టు 3. చెక్క 4. విత్తనం 5. మొక్క

(A) 1, 2, 3, 4, 5

(B) 4, 5, 3, 2, 1

(C) 1, 3, 2, 5, 4

(D) 4, 5, 2, 3, 1



(99-100) : First pair of words are connected with some relation.

In the same way, find the missing word in the second pair.

(99-100) : మొదటి జతలోని రెండు పదాలు ఒక సంబంధంచే కలుపబడ్డాయి.

అదే విధంగా రెండవ జతలో లోపించిన సరియైన పదమును కనుగొనుము.

99. Cricket : Bat :: Hockey : ?

- (A) Player
- (B) Ball
- (C) Playground
- (D) Stick

క్రికెట్ : బ్యాట్ :: హాకీ : ?

- (A) ఆటగాడు
- (B) బంతి
- (C) ఆటస్థలం
- (D) కర్ర

100. Country : President :: State : ?

- (A) Chief Minister
- (B) Speaker
- (C) Governor
- (D) Vice President

దేశం : రాష్ట్రపతి :: రాష్ట్రం : ?

- (A) ముఖ్యమంత్రి
- (B) స్పీకర్
- (C) గవర్నరు
- (D) ఉపరాష్ట్రపతి

Q. Booklet
Code

A

(Space for Rough Work)

Q. Booklet
Code

A

(Space for Rough Work)