

**PART - E**  
**MENTAL ABILITY (91-100)**

91. Violet, Indigo, Blue, .....
- Which colour comes next in VIBGYOR ?
- (A) Yellow  
(B) Orange  
(C) Green  
(D) Red

వయొలెట్, ఇండిగో, బ్లూ, .....

VIBGYOR క్రమంలో తరువాత వచ్చు రంగు ఏది?

- (A) ఎల్లో  
(B) ఆరంజ్  
(C) గ్రీన్  
(D) రెడ్
92. 16, 32, 48, 64, .....
- Find the next number.
- 16, 32, 48, 64, .....
- ఈ క్రమంలో వచ్చు తరువాతి సంఖ్య .....
- (A) 96  
(B) 128  
(C) 112  
(D) 80

93. National Science Day is celebrated on every ....
- (A) January 28.  
(B) February 28.  
(C) March 28.  
(D) April 28.

జాతీయ సైన్సు దినోత్సవాన్ని ప్రతి సంవత్సరం ఈ రోజున జరుపుకుంటాం.

- (A) జనవరి 28  
(B) ఫిబ్రవరి 28  
(C) మార్చి 28  
(D) ఏప్రిల్ 28

94. Find the odd one out.

- (A) Cricket
- (B) Football
- (C) Hockey
- (D) Chess

ఈ క్రింది వానిలో భిన్నమైనది ఏది?

- (A) క్రికెట్
- (B) ఫుట్ బాల్
- (C) హాకీ
- (D) చదరంగం

95. Which one of the following is incorrect ?

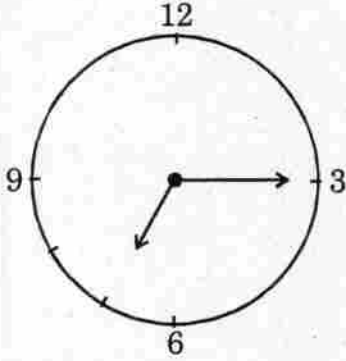
- (A) Agra - Tajmahal.
- (B) Hyderabad - Charminar.
- (C) Mumbai - Red Fort.
- (D) Delhi - Qutub Minar.

క్రింది వానిలో సరికాని జతను గుర్తించండి.

- (A) ఆగ్రా - తాజ్ మహల్
- (B) హైదరాబాద్ - చార్మినార్
- (C) ముంబయి - ఎర్రకోట
- (D) ఢిల్లీ - కుతుబ్ మినార్

96. What is the time in the given clock ?

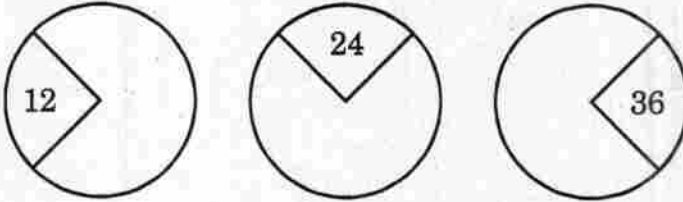
క్రింద ఈయబడిన గడియారములో సమయము ఎంత?

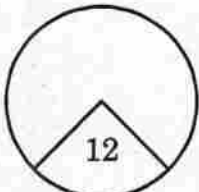
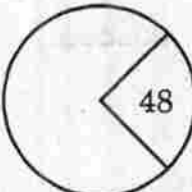
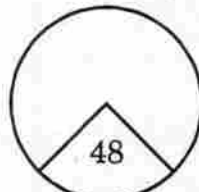
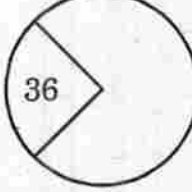


- (A) 6.15
- (B) 7.15
- (C) 8.15
- (D) 6.45

97. Identify the next figure in the series.

క్రింది వరుస క్రమంలో క్రమంలో ఉన్నానట్లు గుర్తించండి.  
<https://www.freshersnow.com/entrance-exams/>



- (A) 
- (B) 
- (C) 
- (D) 

98. 2, 4, 6, 8, .....

Find the next number.

2, 4, 6, 8, .....

తరువాతి సంఖ్యను గుర్తించండి.

(A) 16

(B) 12

(C) 10

(D) 18

99. Find odd one out.

(A) Nalgonda

(B) Nizamabad

(C) Narayanpet

(D) Beedar

క్రింది వానిలో సంబంధము లేనిది ఏది?

(A) నల్గొండ

(B) నిజామాబాద్

(C) నారాయణపేట

(D) బీదర్

100. A, D, G, J, .....

Which is the next letter ?

A, D, G, J, ..... తరువాత వచ్చు అక్షరం ఏది?

(A) M

(B) K

(C) L

(D) O