



SET - (A)

Question Booklet No.

A

Subject Code : 31202/TF – DT/ENT – E

परीक्षा केन्द्राध्यक्ष की मोहर
Seal of Superintendent of Examination Centre

परीक्षार्थी द्वारा बॉल-प्वाइंट पेन से भरा जाए।
To be filled in by Candidate by Ball-Point pen only.

उत्तर शीट का क्रमांक
Sl. No. of Answer-Sheet

अनुक्रमांक

Roll No.

घोषणा : मैंने नीचे दिये गये निर्देश अच्छी तरह पढ़कर समझ लिए हैं।

Declaration : I have read and understood the instructions given below.

वीक्षक के हस्ताक्षर
(Signature of Invigilator)

अभ्यर्थी के हस्ताक्षर
(Signature of Candidate)

पूर्णांक - 100

वीक्षक के नाम
(Name of Invigilator)

अभ्यर्थी का नाम
(Name of Candidate)

समय - 2 घंटे

प्रश्न पुस्तिका में पृष्ठों की संख्या :

Number of Pages in this Question Booklet : 32

प्रश्न पुस्तिका में प्रश्नों की संख्या :

Number of Questions in this Question Booklet : 100

अभ्यर्थियों के लिए निर्देश

1. प्रश्न-पुस्तिका मिलते ही मुख पृष्ठ एवं अंतिम पृष्ठ में दिए गए निर्देशों को अच्छी तरह पढ़ लें। दाहिनी ओर लगी सील को वीक्षक के कहने से पूर्व न खोलें।
2. ऊपर दिए हुए निर्धारित स्थानों में अपना अनुक्रमांक, उत्तर-पुस्तिका का क्रमांक लिखें तथा अपने हस्ताक्षर करें।
3. ओ.एम.आर. उत्तर-शीट में समस्त प्रविष्टियां दिये गये निर्देशानुसार करें अन्यथा उत्तर-शीट का मूल्यांकन नहीं किया जाएगा।
4. सील खोलने के बाद सुनिश्चित कर लें कि प्रश्न-पुस्तिका में कुल पृष्ठ ऊपर लिखे अनुसार दिए हुए हैं तथा उसमें सभी 100 प्रश्नों का मुद्रण सही है। किसी भी प्रकार की त्रुटि होने पर 15 मिनट के अंदर वीक्षक को सूचित कर सही प्रश्न-पुस्तिका प्राप्त करें।
5. प्रत्येक प्रश्न हेतु प्रश्न-पुस्तिका में प्रश्न के नीचे दिए गए चार विकल्पों में से सही/सबसे उपयुक्त केवल एक ही विकल्प का चयन कर उत्तर शीट में सही विकल्प वाले गोले को जो उस प्रश्न के सरल क्रमांक से सम्बंधित हो काले या नीले बॉल-प्वाइंट पेन से भरें।
6. सही उत्तर वाले गोले को अच्छी तरह से भरें, अन्यथा उत्तरों का मूल्यांकन नहीं होगा।
7. प्रश्न-पुस्तिका में 100 वस्तुनिष्ठ प्रश्न दिए गए हैं। प्रत्येक प्रश्न के लिए एक अंक निर्धारित है। सभी प्रश्न अनिवार्य हैं।
8. ऋणात्मक मूल्यांकन नहीं किया जावेगा।
9. प्रश्न-पुस्तिका तथा उत्तर-शीट में निर्दिष्ट स्थानों पर प्रविष्टियां भरने के अतिरिक्त कहीं भी कुछ न लिखें।
10. परीक्षा समाप्ति के उपरान्त तथा कक्ष छोड़ने के पूर्व मूल उत्तरशीट वीक्षक को सौंपी जाए। प्रश्न पुस्तिका एवं उत्तर-शीट की कार्बन कॉपी परीक्षार्थी अपने साथ ले जा सकते हैं।
11. इस प्रश्न-पत्र में पाँच भाग होंगे :-
(i) प्रथम भाग :- सामान्य मानसिक योग्यता - 30 अंक
(ii) द्वितीय भाग :- सामान्य ज्ञान - 20 अंक
(iii) तृतीय भाग :- शिक्षण अभिरुचि - 30 अंक
(iv) चतुर्थ भाग :- सामान्य हिन्दी - 10 अंक
(v) पंचम भाग :- सामान्य अंग्रेजी - 10 अंक
सभी प्रश्न करने अनिवार्य हैं।
12. यदि अंग्रेजी भाषा में कोई संदेह है, तो हिन्दी भाषा को ही प्रामाणिक माना जायेगा।

INSTRUCTIONS TO CANDIDATES

1. Immediately after getting the booklet read instructions carefully, mentioned on the front and back page of the question booklet and do not open the seal given on the right hand side, unless asked by the invigilator.
2. Write your Roll No., Answer-Sheet No., in the specified places given above and do your signature.
3. Make all entries in the OMR Answer-Sheet as per the given instructions otherwise Answer-Sheet will not be evaluated.
4. After Opening the seal, ensure that the Question Booklet contains total no. of pages as mentioned above and printing of all the 100 question is proper. If any discrepancy is found, inform the invigilator within 15 minutes and get the correct booklet.
5. While answering the question from the Question Booklet, for each question choose the correct/most appropriate options out of four most appropriate options given, as answer and darken the circle provided against that option in the OMR Answer-Sheet, bearing the same serial number of the question. Darken the circle only with Black or Blue ball point pen.
6. Darken the circle of choose option fully, otherwise answers will not be evaluated.
7. There are 100 objective type questions in this Question Booklet. All questions are compulsory and carry one mark each.
8. No negative marking will be done.
9. Do not write anything anywhere in the Question Booklet or on the Answer-Sheet except making entries in the specified places.
10. When the examination is over, original OMR Answer Sheet is to be handed over to the invigilator before leaving the examination hall, while Question Booklet and Carbon copy of the Answer-Sheet can be retained by the candidate.
11. This Question paper consists of Five Parts namely :-
(i) First Part :- General Mental Eligibility - 30 Marks
(ii) Second Part :- General Knowledge - 20 Marks
(iii) Third Part :- Educational Interest - 30 Marks
(iv) Fourth Part :- General Hindi - 10 Marks
(v) Fifth Part :- General English - 10 Marks
All questions are compulsory.
12. In case of any ambiguity in English version the Hindi version shall be considered authentic.



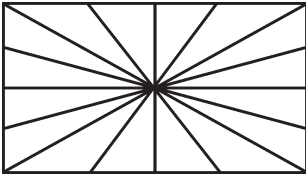
DO NOT WRITE HERE



PART – I

GENERAL MENTAL ELIGIBILITY

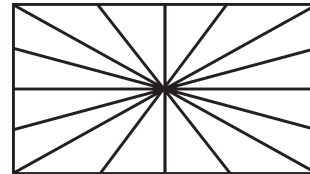
1. Find the missing number in the following number series.
5, 12, 24, 36, 52, ?
(A) 58 (B) 68
(C) 78 (D) 104
2. Find the missing number in the following number series.
18, 60, 150, 248, 410, ?
(A) 464 (B) 535
(C) 564 (D) 836
3. Find the missing number in the following number series.
2, 6, 20, ?, 110, 156, 272
(A) 42 (B) 32
(C) 56 (D) 46
4. If 'CORONA' is coded as 'ONACOR', then 'MURULA' will be coded as
(A) LAUURM (B) ULAMUR
(C) RUMAUL (D) AURULM
5. How many triangles are there in the following figure ?



- (A) 64 (B) 48
(C) 32 (D) 28

सामान्य मानसिक योग्यता

1. निम्न आंकिक श्रेणी से विलुप्त अंक ज्ञात कीजिए ।
5, 12, 24, 36, 52, ?
(A) 58 (B) 68
(C) 78 (D) 104
2. निम्न आंकिक श्रेणी से विलुप्त अंक ज्ञात कीजिए ।
18, 60, 150, 248, 410, ?
(A) 464 (B) 535
(C) 564 (D) 836
3. निम्न आंकिक श्रेणी से विलुप्त अंक ज्ञात कीजिए ।
2, 6, 20, ?, 110, 156, 272
(A) 42 (B) 32
(C) 56 (D) 46
4. यदि 'CORONA' को कूटबद्ध किया जाता है 'ONACOR' से, तब 'MURULA' को कूटबद्ध किया जायेगा _____ से ।
(A) LAUURM (B) ULAMUR
(C) RUMAUL (D) AURULM
5. नीचे दिये गये चित्र में कितने त्रिभुज हैं ?

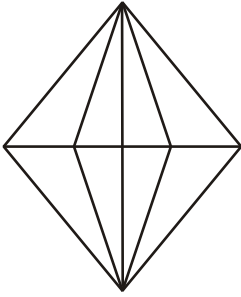


- (A) 64 (B) 48
(C) 32 (D) 28

रफ कार्य के लिए स्थान
Space for Rough Work

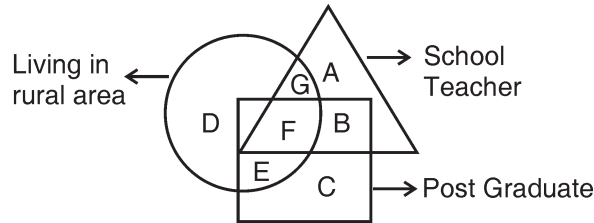


6. How many triangles are there in the following figure ?



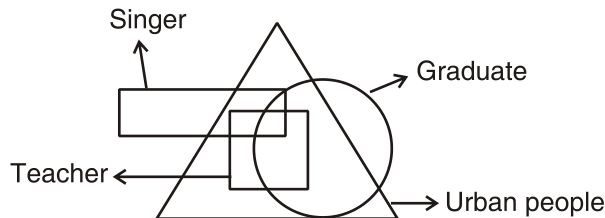
- (A) 20 (B) 24
(C) 28 (D) 32

7. Which letter indicates Post Graduate working as School Teacher but living in Urban area ?



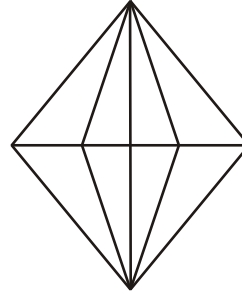
- (A) B (B) F
(C) E (D) C

8. Which statement is true according to following figure ?



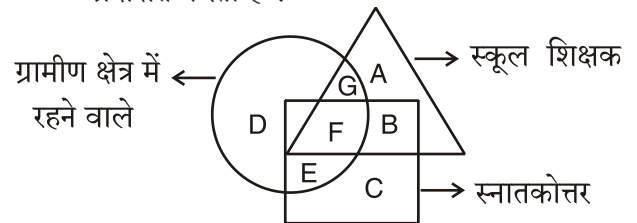
- (A) Some teacher are singer but not urban people.
(B) All teacher are graduate.
(C) Some singer are graduate as well as teacher.
(D) Some teacher are rural people and graduate.

6. नीचे दिये गये चित्र में कितने त्रिभुज हैं ?




- (A) 20 (B) 24
(C) 28 (D) 32

7. कौन-सा अक्षर स्नातकोत्तर स्कूल शिक्षक के रूप में काम करने वाला परंतु शहरी क्षेत्र में रहने वाले को प्रदर्शित करता है ?



- (A) B (B) F
(C) E (D) C

8. निम्नांकित चित्र के आधार पर कौन-सा कथन सत्य है ?

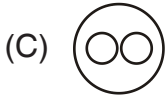
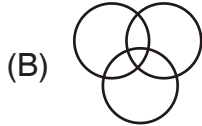
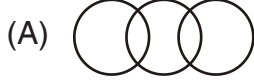


- (A) कुछ शिक्षक गायक है परन्तु शहरी व्यक्ति नहीं है ।
(B) सभी शिक्षक स्नातक है ।
(C) कुछ गायक स्नातक के साथ-साथ शिक्षक भी है ।
(D) कुछ शिक्षक ग्रामीण व्यक्ति है तथा स्नातक है ।

रफ कार्य के लिए स्थान
Space for Rough Work



9. Which of the following diagram represents correct relationship between Boy, Student and Girl ?



10. Which of the following is different from the remaining three ?

- (A) CPU (B) JAVA
(C) RAM (D) MONITOR

11. Which of the following is different from the remaining three ?

- (A) Google – Doodle
(B) Men – Women
(C) Sky – Inferno
(D) Problem – Solution

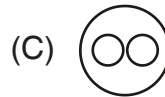
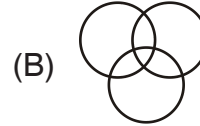
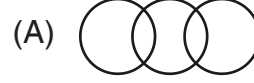
12. Which of the following is different from the remaining three ?

- (A) Bison (B) Rhinoceros
(C) Deer (D) Grizzly Bear

13. A cube is painted blue on all faces and is then cut into 125 small cubes of equal size. How many small cubes are painted on one face only ?

- (A) 32 (B) 36
(C) 48 (D) 54

9. निम्नलिखित में से कौन-सा चित्र लड़का, छात्र व लड़की के मध्य सही सम्बन्ध को प्रदर्शित करता है ?



10. निम्न में से कौन शेष तीन से भिन्न है ?

- (A) CPU (B) JAVA
(C) RAM (D) MONITOR

11. निम्न में से कौन शेष तीन से भिन्न है ?

- (A) गूगल – डूडल
(B) मर्द – औरत
(C) आकाश – पाताल
(D) समस्या – समाधान

12. निम्न में से कौन शेष तीन से भिन्न है ?

- (A) वनभैंसा (B) गैंडा
(C) हरिण (D) गिज़ली भालू

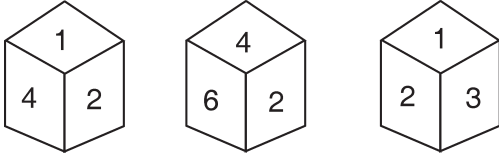
13. एक घन के सभी फलक को नीले रंग से रंगा जाता है इसके बाद उस घन को समान आकार के छोटे 125 घनों में काटा जाता है, तो कितने छोटे घन के केवल एक फलक ही रंगे हुए होंगे ?

- (A) 32 (B) 36
(C) 48 (D) 54

रफ कार्य के लिए स्थान
Space for Rough Work

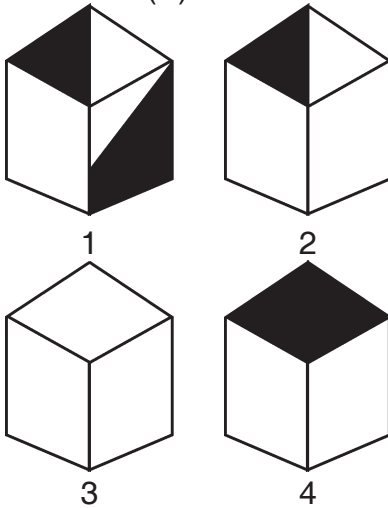
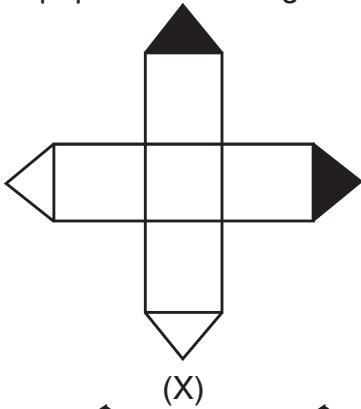


14. Which number lies opposite 1 ?



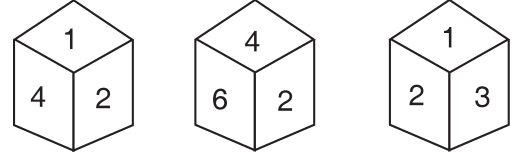
- (A) 5
(B) 6
(C) None of the above
(D) Cannot be determine

15. Select from the alternatives the box that can be formed by folding the sheet of paper shown in figure X.



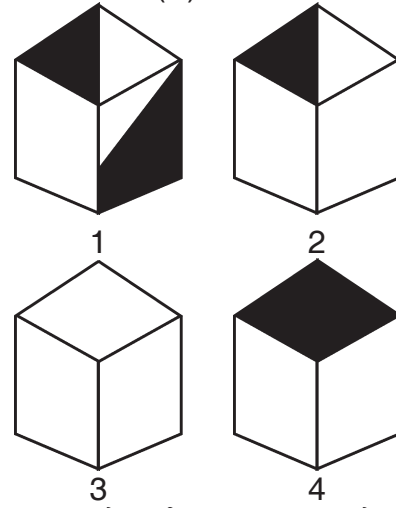
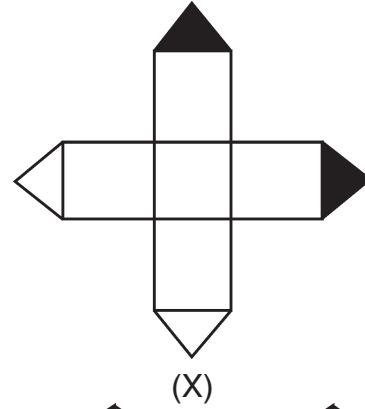
- (A) 1 and 2 only (B) 2 and 4 only
(C) 2 and 3 only (D) 1 and 4 only

14. 1 के विपरीत फलक में कौन-सा अंक होगा ?



- (A) 5
(B) 6
(C) उपरोक्त में से कोई नहीं
(D) ज्ञात नहीं कर सकते

15. चित्र X में दिये गये कागज के शीट को मोड़ने पर बननेवाले बाक्स को दिये गये विकल्प में से चुनिए ।



- (A) 1 और 2 केवल (B) 2 और 4 केवल
(C) 2 और 3 केवल (D) 1 और 4 केवल

रफ कार्य के लिए स्थान
Space for Rough Work



16. Find the missing letter.

C	Z	Q
G	F	L
D	G	C
Y	?	S

- (A) P (B) R
(C) T (D) W

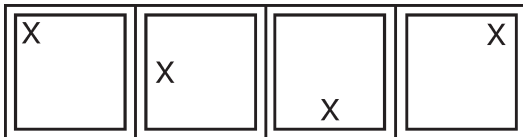
17. Find the missing number.

16	4	24
13	7	?
33	3	59

- (A) 32 (B) 27
(C) 26 (D) 20

18. Select a figure from the answer figures, which will continue the series established by the four problem figures ?

Problem figures



- (A) (B)
(C) (D)

16. लुप्त अक्षर को ज्ञात करें ।

C	Z	Q
G	F	L
D	G	C
Y	?	S

- (A) P (B) R
(C) T (D) W

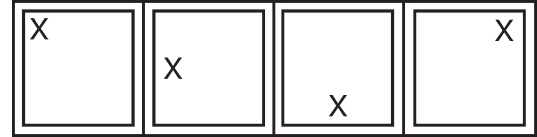
17. लुप्त संख्या को ज्ञात करें ।

16	4	24
13	7	?
33	3	59

- (A) 32 (B) 27
(C) 26 (D) 20

18. उत्तर आकृति से उस आकृति को चुनिये जो चार प्रश्न आकृति में दिये गये क्रम को आगे बढ़ाता है ।

प्रश्न आकृति



- (A) (B)
(C) (D)

रफ कार्य के लिए स्थान
Space for Rough Work



19. Which will complete the following letter series ?

C, X, O, ?, I, R, D, ?

- (A) P, M
- (B) Q, F
- (C) L, W
- (D) V, U

20. Which will complete the following letter series ?

A, B, Y, Z, G, H, S, T, M, N, ?, ?

- (A) P, Q
- (B) M, N
- (C) W, X
- (D) K, L

21. Which will complete the following letter series ?

TAME, SBLD, ___?___, QDJB

- (A) RCKD
- (B) UDKE
- (C) RCKC
- (D) PCKD

19. निम्न अक्षर श्रेणी को कौन पूर्ण करेगा ?

C, X, O, ?, I, R, D, ?

- (A) P, M
- (B) Q, F
- (C) L, W
- (D) V, U

20. निम्न अक्षर श्रेणी को कौन पूर्ण करेगा ?

A, B, Y, Z, G, H, S, T, M, N, ?, ?

- (A) P, Q
- (B) M, N
- (C) W, X
- (D) K, L

21. निम्न अक्षर श्रेणी को कौन पूर्ण करेगा ?

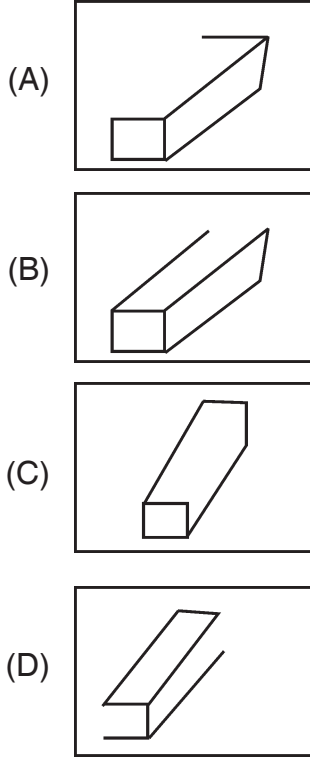
TAME, SBLD, ___?___, QDJB

- (A) RCKD
- (B) UDKE
- (C) RCKC
- (D) PCKD

रफ कार्य के लिए स्थान
Space for Rough Work



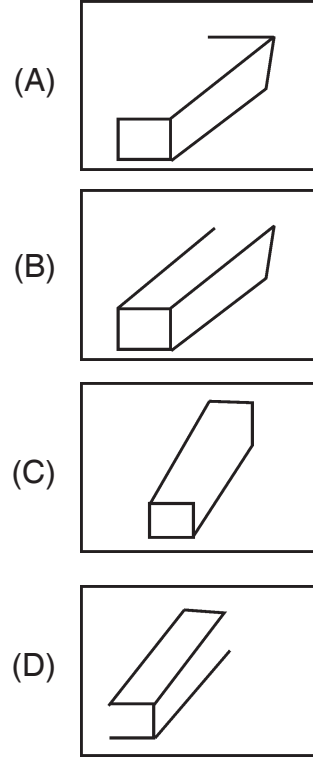
22. Choose the figure which is different from the rest.



23. In an imaginary language the digit 0, 1, 2, 3, 4, 5, 6, 7, 8 and 9 are substituted by a, b, c, d, e, f, g, h, i, and j respectively, then $dc \times f - (bf - d) \times d$ is equal to

- (A) abb
- (B) abe
- (C) bce
- (D) bef

22. उस आकृति को चुनिए जो शेष से भिन्न है।



23. किसी काल्पनिक भाषा में अंक 0, 1, 2, 3, 4, 5, 6, 7, 8 और 9 को क्रमशः a, b, c, d, e, f, g, h, i, और j के स्थान पर स्थापित किया जाय तो $dc \times f - (bf - d) \times d$ बराबर होता है

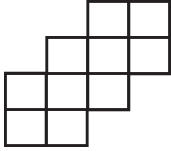
- (A) abb
- (B) abe
- (C) bce
- (D) bef

रफ कार्य के लिए स्थान
Space for Rough Work



24. If a 1 mm thick paper is folded so that the area is halved at every fold, then what would be the thickness of pile after 10 folds ?
- (A) Approximate 1 m
(B) Approximate 2 m
(C) Approximate 1 km
(D) Approximate .5 m

25. How many squares are there in the following figure ?



- (A) 11
(B) 13
(C) 15
(D) None of the above

26. Find the missing number.

	8					
3	19	4				
	620					

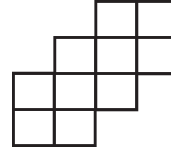
	6					
6	14	9				
	4500					

	12					
4	?	12				
	3888					

- (A) 16
(B) 18
(C) 21
(D) 24

24. यदि 1 मिमी मोटाई के पेपर को ऐसा मोड़ा जाता है कि प्रत्येक मोड़ में उसका क्षेत्रफल आधा हो जाता है। तो ऐसे 10 मोड़ के बाद पेपर के ढेर का मोटाई क्या होना चाहिए ?
- (A) लगभग 1 मीटर
(B) लगभग 2 मीटर
(C) लगभग 1 कि.मी.
(D) लगभग .5 मीटर

25. नीचे दिये गये चित्र में कितने वर्ग हैं ?



- (A) 11
(B) 13
(C) 15
(D) उपरोक्त में से कोई नहीं

26. लुप्त संख्या ज्ञात करो।

	8					
3	19	4				
	620					

	6					
6	14	9				
	4500					

	12					
4	?	12				
	3888					

- (A) 16
(B) 18
(C) 21
(D) 24

रफ कार्य के लिए स्थान
Space for Rough Work



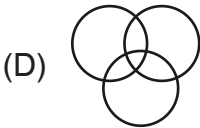
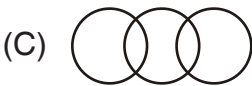
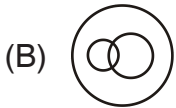
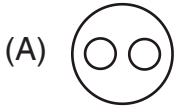
27. Find the missing number.

832
320
16

1276
218
?

- (A) 62
(B) 23
(C) 21
(D) None of the above

28. Which of the following diagram represents correct relationship between Earth, Mountains and Forest ?



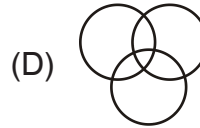
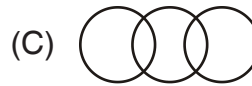
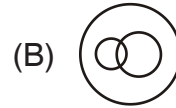
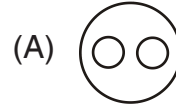
27. लुप्त संख्या को ज्ञात करें।

832
320
16

1276
218
?

- (A) 62
(B) 23
(C) 21
(D) उपरोक्त में से कोई नहीं

28. निम्नलिखित में से कौन-सा चित्र पृथ्वी, पर्वत तथा वन के मध्य सही संबंध को दर्शाता है ?



रफ कार्य के लिए स्थान
Space for Rough Work



29.

	1	2	3	4	5
1	V	D	R	C	B
2	A	R	N	V	M
3	T	O	N	R	C
4	C	P	I	A	B
5	C	N	D	O	I

Above matrix represent coding for V as 11, 24; for D as 12, 53; for A as 21, 44 etc. Then which of the following is correct code for COVID ?

- (A) 35, 23, 24, 34, 53
 (B) 41, 32, 11, 55, 12
 (C) 14, 32, 34, 55, 53
 (D) 51, 54, 24, 34, 12

30. All possible codes for 0, 1, 2, . . . , 9 are given in the following table :

Digits	0	1	2	3	4	5	6	7	8	9
Possible Codes	cf	ca	ba	cc, dc	bc, ga	ch, df	bf, dh	gh	da, gf	bh, gc

Then ga df bf gf ca gc can be decoded as

- (A) 5 4 6 1 8 9
 (B) 4 5 6 1 8 9
 (C) 4 5 6 8 1 9
 (D) None of the above

29.

	1	2	3	4	5
1	V	D	R	C	B
2	A	R	N	V	M
3	T	O	N	R	C
4	C	P	I	A	B
5	C	N	D	O	I

उपरोक्त आव्यूह V के लिए 11, 24; D के लिए 12, 53; A के लिए 21, 44 इत्यादि कूट निरूपित करता है। तब निम्न में से कौन COVID का सही कूट होगा ?

- (A) 35, 23, 24, 34, 53
 (B) 41, 32, 11, 55, 12
 (C) 14, 32, 34, 55, 53
 (D) 51, 54, 24, 34, 12

30. निम्न तालिका में 0, 1, 2, . . . , 9 के लिए सभी संभव कूट दिये गये हैं :

अंक	0	1	2	3	4	5	6	7	8	9
संभावित कूट	cf	ca	ba	cc, dc	bc, ga	ch, df	bf, dh	gh	da, gf	bh, gc

तब ga df bf gf ca gc का प्रतिकूट हो सकता है

- (A) 5 4 6 1 8 9
 (B) 4 5 6 1 8 9
 (C) 4 5 6 8 1 9
 (D) उपरोक्त में से कोई नहीं

रफ कार्य के लिए स्थान
 Space for Rough Work



PART – II

GENERAL KNOWLEDGE

सामान्य ज्ञान

31. How many asanas are there in Surya Namaskar yoga practice ?

- (A) 12
- (B) 10
- (C) 08
- (D) 07

32. For achieving a qualitative change in science education which of the following need to be adopted ?

- (A) Maintaining discipline in classroom
- (B) Give more importance to text book
- (C) Promote inquiry skill
- (D) Promote rote skill

33. Which is the most crucial problem of this State as per Chief-Minister of the State ?

- (A) Problem of Poverty
- (B) Problem of Malnutrition
- (C) Problem of Unemployment
- (D) Problem of Irrigation

31. सूर्य नमस्कार योगाभ्यास में कुल कितने आसन होते हैं ?

- (A) 12
- (B) 10
- (C) 08
- (D) 07

32. विज्ञान शिक्षा में गुणात्मक परिवर्तन प्राप्त करने के लिए निम्नलिखित में से किसे अपनाने की आवश्यकता है ?

- (A) कक्षा में अनुशासन बनाए रखना
- (B) पाठ्यपुस्तक को अधिक महत्व देना
- (C) खोजबीन कौशल को बढ़ावा देना
- (D) रटने के कौशल को बढ़ावा देना

33. राज्य के मुख्यमंत्री के अनुसार इस राज्य की सबसे गंभीर समस्या क्या है ?

- (A) निर्धनता की समस्या
- (B) कुपोषण की समस्या
- (C) बेरोजगारी की समस्या
- (D) सिंचाई की समस्या

रफ कार्य के लिए स्थान
Space for Rough Work



34. What is the minimum support price of paddy in this State for the year 2019-20 ?

- (A) ₹ 2,500/- per quintal
- (B) ₹ 1,815/- per quintal
- (C) ₹ 1,730/- per quintal
- (D) ₹ 2,000/- per quintal

35. Which of the following is a Union Territory ?

- (A) Kashmir
- (B) Ladakh
- (C) Goa
- (D) Sikkim

36. In which State is Manganese produced most ?

- (A) Madhya Pradesh
- (B) Chhattisgarh
- (C) Orissa
- (D) Andhra Pradesh

37. Which of the following political party was founded by Subhash Chandra Bose ?

- (A) Socialist Party
- (B) Republican Party
- (C) All India Kisan Sabha
- (D) Forward Bloc

34. वर्ष 2019-20 के लिए इस राज्य में धान का न्यूनतम समर्थन मूल्य क्या रहा है ?

- (A) ₹ 2,500/- प्रति क्विंटल
- (B) ₹ 1,815/- प्रति क्विंटल
- (C) ₹ 1,730/- प्रति क्विंटल
- (D) ₹ 2,000/- प्रति क्विंटल

35. निम्न में से कौन-सा केन्द्र शासित राज्य है ?

- (A) कश्मीर
- (B) लद्दाख
- (C) गोवा
- (D) सिक्किम

36. मैंगनीज का उत्पादन किस राज्य में सबसे अधिक होता है ?

- (A) मध्य प्रदेश
- (B) छत्तीसगढ़
- (C) उड़ीसा
- (D) आन्ध्र प्रदेश

37. सुभाष चन्द्र बोस ने निम्नलिखित में से किस राजनीतिक दल की स्थापना की थी ?

- (A) समाजवादी पार्टी
- (B) रिपब्लिकन पार्टी
- (C) अखिल भारतीय किसान सभा
- (D) फॉरवर्ड ब्लॉक

रफ कार्य के लिए स्थान
Space for Rough Work



38. What is correct in the context of Parliamentary Type of Govt. ?

- (i) President is Constitutional head
- (ii) Cabinet is real head
- (iii) Office of the President is elected
- (iv) There is collective responsibility in Council of Ministers
- (v) Prime Minister may be a member of any house of Parliament
- (vi) A member of Rajya Sabha may be elected the leader of Majority Party of Lok Sabha
- (vii) There is leadership of Prime Minister

- (A) (i) (ii) (v) (vi)
- (B) (ii) (iii) (iv) (vi)
- (C) (i) (ii) (iv) (vii)
- (D) (i) (ii) (iii) (v)

39. The New Education Policy 2020 envisages 100% GER in Pre-School to Secondary Level by which year ?

- (A) 2025
- (B) 2030
- (C) 2035
- (D) 2040

38. संसदीय शासन के संदर्भ में क्या सही है ?

- (i) राष्ट्रपति सांविधानिक प्रमुख है
- (ii) मन्त्रिमण्डल वास्तविक प्रधान है
- (iii) राष्ट्रपति का पद निर्वाचित है
- (iv) मन्त्रिपरिषद् में सामूहिक उत्तरदायित्व है
- (v) प्रधानमंत्री संसद् के किसी भी सदन का सदस्य हो सकता है
- (vi) राज्य सभा का एक सदस्य लोक सभा के बहुमत दल का नेता निर्वाचित हो सकता है
- (vii) प्रधानमंत्री का नेतृत्व है

- (A) (i) (ii) (v) (vi)
- (B) (ii) (iii) (iv) (vi)
- (C) (i) (ii) (iv) (vii)
- (D) (i) (ii) (iii) (v)

39. नई शिक्षा नीति 2020 किस वर्ष तक प्री-स्कूल से माध्यमिक स्तर में 100% GER की परिकल्पना करती है ?

- (A) 2025
- (B) 2030
- (C) 2035
- (D) 2040

रफ कार्य के लिए स्थान
Space for Rough Work



40. Who among the following is not a follower of pragmatic philosophy ?
(A) William James
(B) John Dewey
(C) Pestalozzi
(D) William Heard Kilpatrick
41. Which of the following is a Government Servant who is appointed by the President ?
(i) Controller and Auditor General
(ii) Chairman of UPSC
(iii) Judges of Supreme Court
(iv) Judges of High Court
(A) (i)
(B) (i) (ii)
(C) (i) (ii) (iii)
(D) (i) (ii) (iii) (iv)
42. Who is not eligible for reappointment ?
(i) Member of State Public Service Commission
(ii) A Minister, who is not a member of Parliament
(A) (i)
(B) (ii)
(C) (i) and (ii)
(D) neither (i) nor (ii)
40. निम्नलिखित में से कौन प्रयोजनवादी दर्शन का अनुयायी नहीं है ?
(A) विलियम जेम्स
(B) जॉन डीवी
(C) पेस्तालॉत्सी
(D) विलियम हर्ड किलपेट्रिक
41. निम्नलिखित में से कौन शासकीय कर्मचारी है जो राष्ट्रपति द्वारा नियुक्त किया जाता है ?
(i) नियंत्रक महालेखा परीक्षक
(ii) संघ लोक सेवा आयोग का अध्यक्ष
(iii) सर्वोच्च न्यायालय के न्यायाधीश
(iv) उच्च न्यायालय के न्यायाधीश
(A) (i)
(B) (i) (ii)
(C) (i) (ii) (iii)
(D) (i) (ii) (iii) (iv)
42. कौन पुनर्नियुक्ति का पात्र नहीं होता ?
(i) राज्य लोक सेवा आयोग का सदस्य
(ii) एक मन्त्री, जो संसद् का सदस्य नहीं है
(A) (i)
(B) (ii)
(C) (i) और (ii)
(D) न तो (i) और न ही (ii)

रफ कार्य के लिए स्थान
Space for Rough Work



43. Airbags used for safety of car driver contain
(A) Sodium azide
(B) Sodium bicarbonate
(C) Sodium hydroxide
(D) Sodium nitrite
44. At what age do children will formally start education according to NEP 2020 ?
(A) 4th Year
(B) 5th Year
(C) 6th Year
(D) None of the above
45. Who of the following was the founder of the Gupta dynasty ?
(A) Srigupta
(B) Ghatotkach Gupta
(C) Chandragupta
(D) Samudragupta
46. Which of the following was not built by Shahjahan ?
(A) Red Fort, Delhi
(B) Jama Masjid, Delhi
(C) Agra Fort, Agra
(D) Taj Mahal, Agra
43. कारों में ड्राइवर की सुरक्षा के लिए उपयोग किये जाने वाले एयरबैग में होता है
(A) सोडियम एजाइड
(B) सोडियम बाईकार्बोनेट
(C) सोडियम हाइड्रॉक्साइड
(D) सोडियम नाइट्राइट
44. किस आयु में NEP 2020 के अनुसार बच्चे औपचारिक रूप से शिक्षा आरंभ कर देते हैं ?
(A) चौथे वर्ष
(B) पाँचवे वर्ष
(C) छठे वर्ष
(D) उपर्युक्त में से कोई नहीं
45. गुप्त वंश का संस्थापक निम्नलिखित में से कौन था ?
(A) श्रीगुप्त
(B) घटोत्कच गुप्त
(C) चंद्रगुप्त
(D) समुद्रगुप्त
46. शाहजहाँ के द्वारा निम्नलिखित में से किसका निर्माण नहीं किया गया ?
(A) लाल किला, दिल्ली
(B) जामा मस्जिद, दिल्ली
(C) आगरे का किला, आगरा
(D) ताजमहल, आगरा

रफ कार्य के लिए स्थान
Space for Rough Work



47. Who has presented annual budget 2020-21 of this State ?
- (A) Chief Minister
(B) Finance Minister
(C) Planning Minister
(D) Panchayat Minister
48. Which is not included in “Aspirational Districts” of this State ?
- (A) Korba
(B) Rajnandgaon
(C) Mahasmund
(D) Champa-Janjgir
49. Which soil is called as regur soil ?
- (A) Red soil
(B) Black soil
(C) Alluvial soil
(D) Laterite soil
50. TAB Vaccine is used against
- (A) Polio
(B) Typhoid
(C) Diphtheria
(D) Pertussis
47. इस राज्य के वर्ष 2020-21 का वार्षिक बजट किसने पेश किया ?
- (A) मुख्यमंत्री
(B) वित्तमंत्री
(C) योजना मंत्री
(D) पंचायत मंत्री
48. इस राज्य के “आकांक्षी जिलों” में किसे शामिल नहीं किया गया है ?
- (A) कोरबा
(B) राजनांदगाँव
(C) महासमुंद
(D) चांपा-जांजगीर
49. किस मिट्टी को रेगुर मिट्टी कहते हैं ?
- (A) लाल मिट्टी
(B) काली मिट्टी
(C) काँप मिट्टी
(D) लेटेराइट मिट्टी
50. टी.ए.बी. वैक्सीन का उपयोग किसके विरुद्ध किया जाता है ?
- (A) पोलियो
(B) टॉयफाइड
(C) डिफ्थीरिया
(D) पर्टुसिस

रफ कार्य के लिए स्थान
Space for Rough Work



PART – III

EDUCATIONAL INTEREST

51. “The most important element in the field of education is interest” whose idea was this ?
- (A) Rousseau
(B) Maria Montessori
(C) Mac Duggal
(D) T. P. Nunn
52. How does the teacher instill a sense of self-discipline in students ?
- (A) By keeping them in strict discipline
(B) By giving them responsibilities
(C) By punishing them for indiscipline
(D) By telling them the benefits of staying disciplined
53. Which factor plays the most important role for the students’ adaptive character building ?
- (A) Lectures of teachers
(B) The ideal character of teacher himself/herself
(C) Behaviour of peers
(D) Behaviour of outsiders

शिक्षण अभिरुचि

51. “शिक्षा के क्षेत्र में सर्वाधिक महत्वपूर्ण तत्व अभिरुचि है” यह विचार किसका था ?
- (A) रूसो
(B) मारिया मान्टेसरी
(C) मैकडूगल
(D) टी. पी. नन
52. शिक्षक छात्रों में स्वअनुशासन की भावना किस प्रकार पैदा कर सकता है ?
- (A) उन्हें कठोर अनुशासन में रखकर
(B) उन्हें जिम्मेदारी सौंपकर
(C) अनुशासनहीनता पर उन्हें दण्ड देकर
(D) उन्हें अनुशासन में रहने के लाभ बताकर
53. छात्रों के अनुकूल चरित्र निर्माण में सबसे अधिक महत्वपूर्ण भूमिका किसकी होती है ?
- (A) अध्यापक के उपदेशों की
(B) स्वयं अध्यापक के आदर्श चरित्र की
(C) सहपाठियों के व्यवहार की
(D) बाहरी लोगों के व्यवहार की

रफ कार्य के लिए स्थान
Space for Rough Work



54. The creativity of the child should _____ by the teacher.
- (A) Be discouraged
(B) Be dealt neutrally
(C) Not be paid attention
(D) Be encouraged
55. The persistent inattentiveness of the student in the class should be _____ by the teacher.
- (A) Ignored
(B) Punished
(C) Discussed with the staff members
(D) Discussed with the parents
56. Thematic apperception test is a
- (A) Performance test
(B) Personality inventory
(C) Projective test
(D) Achievement test
57. Adaptable students are more likely to
- (A) Become dropouts
(B) Participate in class
(C) Not to respond
(D) Be silent

54. शिक्षक द्वारा बालक की सृजनात्मकता को _____ किया जाना चाहिए ।
- (A) हतोत्साहित
(B) तटस्थता पूर्वक ले
(C) ध्यान नहीं देना
(D) प्रोत्साहित
55. कक्षा में छात्रों की लगातार लापरवाही को शिक्षक द्वारा _____ किया जाना चाहिए ।
- (A) नज़रअंदाज़
(B) दण्डित
(C) सह कर्मियों से चर्चा
(D) अभिभावकों से चर्चा
56. विषय आत्मबोधन परीक्षण है
- (A) निष्पादन परीक्षण
(B) व्यक्तित्व सूची
(C) प्रक्षेपी परीक्षण
(D) उपलब्धि परीक्षण
57. अनुकूलनीय छात्रों के लिए अधिक संभावना है कि
- (A) ड्रॉपआउट हो जाये
(B) कक्षा में भाग ले
(C) जवाब न दे
(D) चुप रहे

रफ़ कार्य के लिए स्थान
Space for Rough Work



58. Do a teacher needs to being able to adapt in classroom ?
(A) No
(B) Yes
(C) Sometime
(D) None of the above
59. Students can learn to become more adaptable through
(A) Learning
(B) Schooling
(C) Reading
(D) Staying at home
60. Some children in the class ask questions continuously, so how should teachers treat them ?
(A) Will ask them to remain silent
(B) Will listen to the questions peacefully and answer them
(C) Will be indifferent towards students
(D) Will rebuke students
61. If a student does not bring home work then teacher
(A) Will punish him/her
(B) Will give the same home work again
(C) Will seek information for the reason why he did not do home work and will help in doing home work
(D) Will fail him in the examination
58. क्या शिक्षकों को भी कक्षा में अनुकूलनीय होना चाहिए ?
(A) ना
(B) हाँ
(C) कभी-कभी
(D) उपरोक्त में से कोई नहीं
59. छात्र _____ के द्वारा अनुकूलित होना सीख सकता है ।
(A) सीखकर
(B) स्कूल के माध्यम से
(C) पढ़कर
(D) घर पर रहकर
60. कक्षा में कुछ बालक निरन्तर प्रश्न पुछते रहते हैं, तो शिक्षक को उनके साथ कैसा व्यवहार करना चाहिए ?
(A) उनको शांत रहने को कहेंगे
(B) प्रश्नों को शान्तिपूर्वक सुनेंगे तथा उनके प्रश्नों के उत्तर देंगे
(C) छात्रों के प्रति उदासीन रहेंगे
(D) छात्रों को झिंरक देंगे
61. एक छात्र अगर गृह कार्य करके नहीं लाता तो शिक्षक उसे
(A) दण्डित करेंगे
(B) उसे दुबारा उसी गृह कार्य को देंगे
(C) जानकारी प्राप्त करेंगे उसने गृह कार्य किस कारण से नहीं किया तथा गृह कार्य करने में मदद करेंगे
(D) उसे परीक्षा से अनुत्तीर्ण कर देंगे

रफ कार्य के लिए स्थान
Space for Rough Work



62. At the time of classroom teaching, the teacher should note that teaching is
- (A) According to teacher
(B) Child centered
(C) Done for completing the text book soon
(D) None of the above
63. _____ is a State level nodal agency for universalization of school education.
- (A) NCTE
(B) RMSA
(C) NIOS
(D) SCERT
64. The act of 'system analysis' performed by a teacher is a part of
- (A) Planning related work
(B) Organization or arrangement related work
(C) Motivational or leading work
(D) Controlling
62. कक्षा शिक्षण के समय शिक्षक को ध्यान रखना चाहिए कि शिक्षण
- (A) शिक्षक अनुसार हो
(B) बाल केन्द्रित हो
(C) पाठ्यपुस्तक को जल्दी से सम्पूर्ण करने के लिए हो
(D) उपरोक्त में से कोई नहीं
63. स्कूली शिक्षा की सार्वभौमिकरण के लिए राज्य स्तरीय केन्द्रक अभिकरण (नोडल अभिकरण) है
- (A) NCTE
(B) RMSA
(C) NIOS
(D) SCERT
64. शिक्षक द्वारा की जाने वाली 'प्रणाली विश्लेषण' की प्रक्रिया एक भाग है
- (A) नियोजन संबंधी कार्य का
(B) संगठन या व्यवस्था संबंधी कार्य का
(C) अभिप्रेरण या नेतृत्व संबंधी कार्य का
(D) नियंत्रण का

रफ कार्य के लिए स्थान
Space for Rough Work



65. Seminar is a/an
- (A) Online gathering of people for discussion of a particular issue
- (B) Face-to-face gathering of people for discussion of a particular issue
- (C) Face-to-face gathering of people for a specific action oriented purpose
- (D) None of the above
66. A teacher is an exquisite counsellor if he is
- (A) Good listener
- (B) Keen observer
- (C) Sympathetic and sensitive
- (D) All of the above
67. Through which Act University Grant Commission came into existence ?
- (A) UGC Act 1945
- (B) UGC Act 1947
- (C) UGC Act 1953
- (D) UGC Act 1956
65. सेमिनार है
- (A) किसी विशेष मुद्दे पर चर्चा के लिए व्यक्तियों की ऑनलाइन सभा
- (B) किसी विशेष मुद्दे पर चर्चा के लिए व्यक्तियों की सम्मुख सभा
- (C) किसी विशेष कार्य उन्मुख कारण से व्यक्तियों की सम्मुख सभा
- (D) उपर्युक्त में से कोई नहीं
66. एक शिक्षक उत्तम परामर्शदाता है यदि वह है
- (A) अच्छा श्रोता
- (B) गहन निरीक्षक
- (C) सहानुभूतिपूर्ण एवं संवेदनशील
- (D) उपर्युक्त सभी
67. विश्वविद्यालय अनुदान आयोग की स्थापना किस अधिनियम के अधीन हुई थी ?
- (A) विश्वविद्यालय अनुदान आयोग अधिनियम 1945
- (B) विश्वविद्यालय अनुदान आयोग अधिनियम 1947
- (C) विश्वविद्यालय अनुदान आयोग अधिनियम 1953
- (D) विश्वविद्यालय अनुदान आयोग अधिनियम 1956

रफ कार्य के लिए स्थान
Space for Rough Work



68. Which of the following is directly related to quality enhancement of teacher education programme ?
- (A) Learning to use ICT resources
(B) Comprehensive internship sessions with inbuilt feedback
(C) Community association programmes
(D) Attending seminars on different topics
69. You as a teacher to develop confidence in shy students
- (A) Will force them to speak
(B) Will scold, if they are not able to speak
(C) Will not do any special effort for this
(D) Will give an opportunity to say something that they know but other students do not know
70. In order to take interest in doing home work by all students, the home work should be
- (A) Of only one level
(B) As per the ability of the students
(C) From the text only
(D) Outside the text only
68. निम्नलिखित में से कौन-सा विकल्प अध्यापक शिक्षा कार्यक्रम की गुणवत्ता सुधार करने के लिए प्रत्यक्ष रूप से संबंधित है ?
- (A) ICT संसाधनों के उपयोग का अधिगम
(B) अंतर्विष्ट प्रतिपुष्टि के साथ विस्तृत इन्टर्नशिप सेशन
(C) सामुदायिक संघ कार्यक्रम
(D) विभिन्न विषयों पर सेमिनार में भाग लेना
69. संकोची विद्यार्थियों में आत्मविश्वास विकसित करने के लिए आप एक अध्यापक के रूप में
- (A) उनको बोलने के लिए मजबूर करेंगे
(B) यदि वे बोलने में सफल नहीं होते हैं, तो डांटेंगे
(C) इसके लिए कोई विशेष प्रयास नहीं करेंगे
(D) ऐसे विषय में कुछ कहने का अवसर देंगे जो वे जानते हैं लेकिन दूसरे विद्यार्थी नहीं जानते
70. सभी छात्र गृह कार्य करने में अभिरुचि ले सकें इसके लिए आवश्यक है कि गृह कार्य
- (A) एक ही स्तर का हो
(B) छात्रों के योग्यता के अनुसार हो
(C) केवल पुस्तक के अंदर से हो
(D) पुस्तक के बाहर से हो

रफ कार्य के लिए स्थान
Space for Rough Work



71. A good teacher
- (A) Emphasizes the students to pass the exam
 - (B) Focuses on meritorious students only
 - (C) Emphasizes all round development of students
 - (D) Maintains distance from students
72. 'Common Wealth of Learning' (COL) is
- (A) Indian Organization of Formal Education
 - (B) A Teacher's Association Platform
 - (C) Intergovernmental Organization for Distance Education
 - (D) A Journal of Educational Research
73. NCTE is
- (A) National Curriculum for Teacher Education
 - (B) National Council for Teacher Education
 - (C) National Conference on Teaching English
 - (D) National Conference of Teacher Education

71. एक अच्छा शिक्षक
- (A) छात्रों को परीक्षा में उत्तीर्ण कराने पर बल देता है
 - (B) सिर्फ मेधावी छात्रों पर ध्यान देता है
 - (C) छात्र के सर्वांगीन विकास पर जोर देता है
 - (D) छात्रों से दूरी बनाए रखता है
72. 'कॉमन वेल्थ ऑफ लर्निंग' (COL) है
- (A) औपचारिक शिक्षा का भारतीय संगठन
 - (B) शिक्षक संघ का एक मंच
 - (C) दूरवर्ती शिक्षा का अंतर-सरकारी संगठन
 - (D) शैक्षिक अनुसंधान का एक जर्नल
73. NCTE है
- (A) शिक्षक शिक्षा की राष्ट्रीय पाठ्यचर्या
 - (B) राष्ट्रीय शिक्षक शिक्षा परिषद
 - (C) अंग्रेजी शिक्षण का राष्ट्रीय सम्मेलन
 - (D) शिक्षक शिक्षा का राष्ट्रीय सम्मेलन

रफ कार्य के लिए स्थान
Space for Rough Work



74. An autonomous organisation setup in 1961 for assisting government for qualitative improvement in school education is

- (A) NCERT
- (B) NCTE
- (C) SCERT
- (D) NCFTE

75. An important objective of education which is associated with social adaptation is

- (A) Social services
- (B) Development of the ability of social adjustments
- (C) To become good citizen
- (D) To become independent

76. Adaptation means

- (A) Adjustment with ownself
- (B) Accommodations
- (C) Modification
- (D) Any adjustment in the environment, instruction or in materials for learning that enhances the student performances

74. स्कूली शिक्षा के गुणात्मक सुधार हेतु सरकार की सहायता करने के लिए 1961 में स्थापित एक स्वायत्त संगठन है

- (A) NCERT
- (B) NCTE
- (C) SCERT
- (D) NCFTE

75. शिक्षा का एक महत्वपूर्ण उद्देश्य जो सामाजिक अनुकूलन से जुड़ा है, वो है

- (A) समाज सेवा
- (B) सामाजिक समायोजन की योग्यता का विकास
- (C) अच्छा नागरिक बनाना
- (D) स्वतंत्र बनाना

76. अनुकूलन का अर्थ

- (A) स्वयं के साथ समायोजन
- (B) आवास
- (C) संशोधन
- (D) पर्यावरण, निर्देश में या सीखने की सामग्री में कोई समायोजन जो छात्रों के प्रदर्शन को बढ़ाता है

रफ कार्य के लिए स्थान
Space for Rough Work



77. The ability of adaptations depends on
(A) Strength of classroom
(B) Individual students
(C) Learning
(D) Personality
78. MOOC stands for
(A) Mainstream Open Online Course
(B) Massive Optional Online Course
(C) Massive Open Online Course
(D) Mainstream Open Online Community
79. Journal refers to
(A) A periodical with article to inform or entertain
(B) A periodical containing short illustrative articles
(C) A periodical that covers broad subjects and topics of general interest
(D) A periodical focussing on original research in specific discipline
80. The success of a teaching profession depends on
(A) The quality of work maintained
(B) Allegiance towards the management
(C) The policy of pleasing students
(D) All of the above

77. अनुकूलन की योग्यता आधारित होती है
(A) कक्षा के छात्र संख्या पर
(B) वैयक्तिक छात्र पर
(C) सीखने पर
(D) व्यक्तित्व पर
78. MOOC का मतलब है
(A) मेनस्ट्रीम ओपन ऑनलाइन कोर्स
(B) मॉसिव ऑप्शनल ऑनलाइन कोर्स
(C) मॉसिव ओपन ऑनलाइन कोर्स
(D) मेनस्ट्रीम ओपन ऑनलाइन कम्यूनिटी
79. जर्नल है
(A) सूचना देने अथवा मनोरंजन के लिए लिखे गए लेखों वाली पत्रिका
(B) एक पत्रिका जिसमें संक्षिप्त दृष्टांतों वाले लेख हो
(C) एक पत्रिका जो सामान्य अभिरुचि के व्यापक विषयों एवं प्रकरणों को समाहित करती है
(D) एक पत्रिका जो किसी विशेष अध्ययन क्षेत्र में मौलिक अनुसंधान पर केन्द्रित है
80. शिक्षण व्यवसाय की सफलता निर्भर होती है
(A) कार्य की गुणवत्ता बनाए रखने पर
(B) प्रबंधन के प्रति निष्ठा पर
(C) विद्यार्थियों को प्रसन्न करने की नीति पर
(D) उपर्युक्त सभी

रफ कार्य के लिए स्थान
Space for Rough Work



PART – IV
GENERAL HINDI/ सामान्य हिन्दी

81. निम्नांकित में से कौन-सा शब्द 'अम्बर' में निहित अर्थ को व्यक्त नहीं करता ?
(A) आकाश (B) अमृत
(C) वस्त्र (D) छतरी
82. अपादान कारक का चिह्न क्या है ?
(A) ने (B) को
(C) के लिये (D) से
83. निम्नांकित में से किस वाक्य में विराम चिह्नों का सही प्रयोग किया गया है ?
(A) पेरिस किस देश की राजधानी है और वह क्यों प्रसिद्ध है ।
(B) भगवान राम के अनेक नाम हैं जैसे रघुवीर दशरथनन्दन, कौशलेंद्र आदि ।
(C) शाबास ! तुमने अपनी शाला का गौरव बढ़ाया है ।
(D) कभी-कभी वह अपने भीतर दुबक सा जाता है ।
84. निम्नांकित में से शुद्ध वाक्य का चयन कीजिये ।
(A) मेरे सामानों का ध्यान रखियेगा ।
(B) गर्मियों में मैं मेरे मामा के घर जाऊँगा ।
(C) मुझे घर नहीं जाना है ।
(D) आप उस जगह जाकर ले लो ।
85. 'आगे नाथ, न पीछे पगहा' लोकोक्ति का सही अर्थ क्या है ?
(A) ईश्वर के आगे प्रार्थना करने से मुक्ति मिलती है ।
(B) रस्सी तोड़ कर पीछे भाग जाना ।
(C) किसी के आगे-पीछे न होना ।
(D) किसी तरह की ज़िम्मेदारी न होना ।
86. निम्नांकित में से श्रवण-कौशल के उद्देश्य को चिह्नांकित कीजिये ।
(A) वक्ता के मनोभावों को समझने की क्षमता विकसित करना
(B) सुन कर अर्थ ग्रहण करने की योग्यता का विकास करना
(C) शब्दों, मुहावरों, कहावतों एवं उक्तियों का प्रसंगानुकूल भाव तथा अर्थ समझ सकना
(D) उपर्युक्त में से सभी
87. निम्नांकित में से विस्मयादि बोधक वाक्य को चिह्नित कीजिये ।
(A) मैंने देर रात तक पढ़ाई की ।
(B) ओह ! तुमने देर रात तक पढ़ाई की ।
(C) तुमने देर रात तक पढ़ाई क्यों की ?
(D) तुम्हें देर रात तक पढ़ाई नहीं करनी चाहिये ।
88. निम्नांकित में से किस वाक्य में 'खून सूखना' मुहावरे का सटीक प्रयोग हुआ है ?
(A) राजू इतना बीमार पड़ा कि उसका खून सूख गया ।
(B) उँगली कट गयी और खून टपक कर कुछ समय बाद सूख गया ।
(C) उसे रक्ताल्पता की बीमारी थी, इसलिए उसका खून सूख गया था ।
(D) शेर की दहाड़ सुन कर उसका खून सूख गया ।
89. निम्नांकित में से उस शब्द की पहचान कीजिये जिसमें अरबी-फ़ारसी के उपसर्ग का प्रयोग हुआ है ।
(A) अस्थिर (B) विसंगति
(C) बदनाम (D) दुष्कर्म
90. निम्नांकित में से देशज शब्द को पहचानिये ।
(A) भाषा (B) गड़बड़
(C) अमीर (D) औलाद

रफ़ कार्य के लिए स्थान
Space for Rough Work



PART – V
GENERAL ENGLISH / सामान्य अंग्रेजी

91. We have only _____ minutes to spare.

Insert any one of the following to complete the above sentence.

- (A) little
- (B) few
- (C) a little
- (D) a few

92. Which of the following word is correctly spelled ?

- (A) Chicanary (B) Chicanery
- (C) Chicenary (D) Chicenery

Read the following passage and answer **93 – 96** :

Among predatory dinosaurs, few flesh eaters were bigger, faster and nastier than the 'tyrant lizard' of popular imagination, the Tyrannosaurus Rex. At least, that is what we have been led to believe.

Now research suggests that, far from being the ferrari of dinosaurs, Tyrannosaurus Rex, whose ferocious reputation has fascinated generations of school children, was in fact a cumbersome creature with a usual running speed of twenty five kilometres an hour. This is a mere snail's pace compared with modern animals such as the Cheetah.

Unlike some of the predators of today's African savannah, which can change direction almost immediately, the dinosaur would have had to turn slowly or risk tumbling over and while a human can spin forty five degrees in a twentieth of a

second, a Tyrannosaurus would have taken as much as two seconds, as it would have been hampered by its long tail. Thankfully, however, all its prey such as triceratops would have been afflicted with the same lack of speed and agility.

The findings were reached after researchers used computer modelling and biomechanical calculations to workout the dinosaur's speed, agility and weight. They based their calculations on measurements taken from a fossil dinosaur representative of an average Tyrannosaurus and concluded that the creatures probably weighed between six and eight tonnes.

Calculations of the leg muscles suggest that the animal would have had a top speed of forty kilometres an hour, which is nothing compared to a Cheetah's one hundred kilometres an hour. It is sobering to reflect, though, that an Olympic sprinter runs at about thirty five kilometres an hour, not sufficient to outrun a Tyrannosaurus, should man have been around at that time.

93. A dinosaur would have to turn slowly taking as much as two seconds because it

- (A) could not change its direction of motion
- (B) could spin forty five degrees in twentieth of a second
- (C) would risk tumbling over
- (D) cannot be compared with the modern Cheetah

रफ कार्य के लिए स्थान
Space for Rough Work



94. According to the passage, which of the following has been wrongly matched ?
- (i) leg muscles of the dinosaur – top speed of forty kilometres an hour
- (ii) computer modelling – the prey and bio-mechanical calculations of the Tyrannosaurus
- (iii) biomechanical evidences – dinosaur's speed, agility and weight
- (iv) speed of a human being – thirty five kilometres an hour
- (A) (i) and (ii)
(B) (iii)
(C) (iv)
(D) (ii)
95. A synonym to the word 'afflicted' in the passage would be
- (A) impaired
(B) challenged
(C) deprived
(D) connected
96. Which of the following is correct ?
- (A) Triceratops are very agile
(B) Triceratops has great speed
(C) Triceratops are as agile as Cheetah
(D) Triceratops lack speed and agility
97. An area of land that has a particular type or appearance is a
- (A) landscape (B) landmark
(C) landing (D) landform
98. I loved to listen to my fellow passenger, a hardy old soldier, I judged, from his attitude and attire.
The word 'attire' in the above sentence means
- (A) understanding
(B) outfit
(C) height
(D) speech
99. When I finish (write) _____ this letter, I'll come and help you.
- (A) to write (B) having written
(C) writing (D) have written
100. You're clever, _____ ?
- (A) are you (B) were you
(C) weren't you (D) aren't you

रफ कार्य के लिए स्थान
Space for Rough Work



31202/TF – DT/ENT – E

रफ कार्य के लिए स्थान
Space for Rough Work



उत्तर अंकित करने का समय : 2 घंटे

अधिकतम अंक : 100

Time for marking answers : 2 Hours

Maximum Marks : 100

नोट :

1. इस प्रश्न पुस्तिका में **100** प्रश्न हैं । प्रत्येक प्रश्न **1** अंक का है । **सभी** प्रश्न करने **अनिवार्य** हैं।
2. प्रश्नों के उत्तर दी गई **OMR** उत्तर शीट (**Answer-Sheet**) पर अंकित कीजिए ।
3. ऋणात्मक मूल्यांकन नहीं किया जावेगा ।
4. किसी भी तरह के कैलकुलेटर या लॉग टेबल एवं मोबाइल फोन का प्रयोग वर्जित है ।
5. **OMR** उत्तरशीट (**Answer-Sheet**) का प्रयोग करते समय ऐसी कोई असावधानी न बरतें जिससे यह फट जाये या उसमें मोड़ या सिलवट आदि पड़ जाये या वह खराब हो जाये ।

Note :

1. This Question Booklet contains **100** questions. **Each** question carries **1** mark. **All** questions are **compulsory**.
2. Indicate your answers on the **OMR Answer-Sheet** provided.
3. No negative marking will be done.
4. Use of any type of calculator or log table and mobile phone is prohibited.
5. While using **OMR Answer-Sheet** care should be taken so that the Answer-Sheet does not get torn or spoiled due to folds and wrinkles.