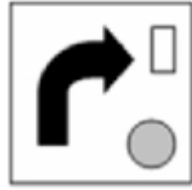
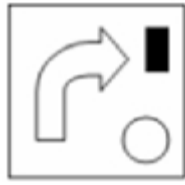
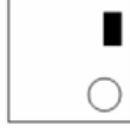


Reference ID:(5998)

जर खाली दिलेले दोन चौकोन अतिव्याप्त होत असतील, तर खालीलपैकी कोणता विकल्प तयार होईल?



Answer:



Reference ID:(4733)

'मला हा डोंगर चढवतो.' या वाक्याचा प्रयोग ओळखा.

A.भावे

B.कर्मणी

C.कर्तरी

D.नवीन कर्मणी

Answer:

B.कर्मणी

Reference ID:(4966)

सरासरी काढा.
98,65,78,98,86&79

A.98

B.84

C.56

D.85

Answer:

B.84

Reference ID:(4441)

Choose the option that best punctuates the given sentence:

The little girl asked her mother are we going home now.

A.The little girl asked her mother, "Are we going home now?"

B.The little girl asked her mother, "are we going home now".

C.The little girl asked her mother "Are we going home now."

D.The little girl asked her mother. "Are we going home now.?"

Answer:

A.The little girl asked her mother, "Are we going home now?"

Reference ID:(4745)

इंटरमेडीएट रेंज बॉलिस्टीक क्षेपणास्त्र अग्नी-1 _____ प्रणोदन गतिवर्धक यंत्रणेचा वापर करते.

A.क्रायोजेनिक

B.घन

C.स्कॅमजेट

D.द्रव

Answer:

B.घन

Reference ID:(4952)

लोकसेवा प्राप्त करण्यासाठी कोणाही पात्र व्यक्तीस.....कडे अर्ज करता येईल.

A.सार्वजनिक प्राधिकरण

C.मुख्य आयुक्त

D.नियुक्त अधिकारी

Answer: D.नियुक्त अधिकारी

Reference ID:(4701) Choose the correct form of verb for the given sentence:

We _____ in this house for the past 15 years.

A.has living

B.have been living

C.has lived

D.has been living

Answer: B.have been living

Reference ID:(5999) जर ■+25=▲ आणि ■-25=●, तर ▲आणि ●मधे काय संबंध आहे?

25+●=▲

25-●=▲

50+●=▲

50-●=▲

Answer: 50+●=▲

Reference ID:(4951) केंद्रीय माहिती आयोग आणि राज्य माहिती आयोगाचे निर्णय,(आरटीआय) माहिती अधिकार अधिनियम, 2005 च्या कलम ___ अंतर्गत बंधनकारक आहेत.

A.19(7)

B.19(2)

C.19(5)

D.19(6)

Answer: A.19(7)

Reference ID:(4980)

दोन फासे एकाचवेळी फेकल्यास, नऊ मिळण्याची संभाव्यता काय आहे?

A.1/9

B.6/1

C.3/6

D.4/6

Answer:

A.1/9

Reference ID:(4955)

ओर्संग नदी ही _____ नदीची उपनदी आहे?

A.कोयना

B.तापी

C.कृष्णा

D.नर्मदा

Answer:

D.नर्मदा

Reference ID:(4720)

चुकीची जोडी ओळखा.

A.छे छे, छट – विरोधदर्शक केवलप्रयोगी अव्यय

B.हुडत, शी – तिरस्कारदर्शक केवलप्रयोगी अव्यय

C.शिव-शिव, अरेरे - आश्चर्यदर्शक केवलप्रयोगी अव्यय

D.अरे, अहो – संबोधनदर्शक केवलप्रयोगी अव्यय

Answer:

C.शिव-शिव, अरेरे - आश्चर्यदर्शक केवलप्रयोगी अव्यय

Reference ID:(4728)

खालीलपैकी देशी शब्द नसलेला पर्याय निवडा.

A.वारकरी, चिमणी

B.घोडा, धोंडा

C.अडकित्ता, चाकरी

D.डोंगर लुगडे

Answer:

C.अडकित्ता, चाकरी

Reference ID:(4985)

जर A हा B पेक्षा उंच आहे, C हा B पेक्षा ठेंगणा आहे, आणि D हा A पेक्षा ठेंगणा आहे, पण C पेक्षा उंच आहे, तर त्यांच्यापैकी सर्वात ठेंगणा कोण आहे?

A.D

B.C

C.B

D.A

Answer:

B.C

Reference ID:(4971)

जर तुमच्या शाळेपासून घरापर्यंतचे अंतर 1.2 किमी. आहे आणि आपला चालण्याचा वेग 3 किमी./तास असेल, तर आपल्या घरापासून आपल्या शाळेत जाण्यासाठी आपण वेळ घ्याल :

A.2 तास 30 मिनिटे

B.24 मिनिटे

C.36 मिनिटे

D.2.5 मिनिटे

Answer:

B.24 मिनिटे

Reference ID:(4440)

Choose the option that correctly spells the words to be filled in the given sentence:

The ____ prepared a special ____ .

A.bakerry , confictionery

B.bakery , confectioner

C.bakeery , confectionaey

D.bakeary , confectionery

Answer:

B.bakery , confectioner

Reference ID:(4711)

Combine both the sentences below with a relative pronoun.

That is my friend Gautam. Gautam has opened a new showroom.

A.That is my friend Gautam who has opened a new showroom.

B.My friend Gautam has opened a new showroom.

C.It is my friend Gautam that has opened a new showroom.

D.A new showroom has been opened by Gautam that is my friend.

Answer:

A.That is my friend Gautam who has opened a new showroom.

Reference ID:(4706)

Choose the appropriate prepositional phrase for the given sentence:

_____ reach early, I took the shorter route.

A.In order for

B.In order with

C.In order in

D.In order to

Answer:

D.In order to

Reference ID:(4726)

‘तोंडचे पाणी पळणे’ या वाक्प्रचाराचा अर्थ -

A.घसा कोरडा पडणे.

B.तोंडाला पाणी सुटणे.

C.घाबरणे.

D.तोंड येणे.

Answer:

C.घाबरणे.

Reference ID:(4442)

Out of the following options, choose the sentence that is punctuated correctly.

A.What’s happening? he shouted.

B.‘What’s happening?’ he shouted.

C.‘Whats’ happening?’ he shouted.

D.‘What’s happening! He shouted.’

Answer:

B. 'What's happening?' he shouted.

Reference ID:(4974)

A एक काम 6 दिवसांत करू शकतो. A आणि B एकत्रितरित्या ते काम 2 दिवसांत करू शकतात. तेव्हा एकटा B ते काम किती दिवसांत करू शकतो?

A.4

B.3

C.2

D.5

Answer:

B.3

Reference ID:(4448)

Choose the option with the appropriate suffix to complete the given sentence:

Today's edit_____ in the Times of India is thought provoking and has been written in a profess_____ way.

A.-ings, -ing

B.-ing, -orial

C.-or, -ion

D.-orial, -ional

Answer:

D.-orial, -ional

Reference ID:(4970)

वगळलेली संख्या निवडून मालिका पूर्ण करा:

13, 32, 24, 43, 35, _____, 46, 65

A.45

B.52

C.54

D.55

Answer:

C.54

Reference ID:(4959)

न्यूरॉन या च्या पेशी असतात.

A.मूत्रपिंड

B.यकृत

C.चेता

D.मान

Answer:

C.चेता

Reference ID:(4981)

52 कार्डाच्या पॅकमधून दोन कार्डे काढली. ते राजा असण्याची संभाव्यता काय आहे?

A.1/221

B.220/221

C.15/221

D.100/221

Answer:

A.1/221

Reference ID:(4716)

खालीलपैकी कोणते विधान बरोबर आहे ?

A.केवलप्रयोगी अव्यय वाक्याचा भाग असतात.

B.केवलप्रयोगी अव्ययांना विभक्तीचे प्रत्यय लागतात.

C.केवलप्रयोगी अव्यय भावनाप्रधान नसतात.

D.केवलप्रयोगी अव्ययांमुळे भाषेची शोभा वाढते.

Answer:

D.केवलप्रयोगी अव्ययांमुळे भाषेची शोभा वाढते.

Reference ID:(4982)

2000 मध्ये स्वातंत्र्य दिन मंगळवारी होता. खालीलपैकी कोणत्या वर्षामध्ये तो रविवारी येईल?

A.2001

B.2002

C.2003

D.2004

Answer:

D.2004

Reference ID:(4724)

शेव म्हणजे खाण्याचा पदार्थ. 'शेव' शब्दाचा दुसरा अर्थ खालीलपैकी कोणता आहे ?

A.दाढी करणे

B.साडीचा पदर

C.शरीराचा भाग

D.एक फळ

Answer:

B.साडीचा पदर

Reference ID:(4718)

खालीलपैकी प्रशंसादर्शक केवलप्रयोगी अव्यय कोणता आहे ?

A.फक्कड

B.अहाहा

C.वा

D.अच्छा

Answer:

A.फक्कड

Reference ID:(4714)

'अंथरूण' या शब्दाचा चिकटून किंवा जोडीने येणारा शब्द कोणता?

A.घालून

B.आवरून

C.सावरून

D.पांघरूण

Answer:

D.पांघरूण

Reference ID:(4703)

Choose the option that best transforms the given sentence as directed:

He is very old. He cannot walk.

(Combine the two sentences into one sentence)

A.He is so old but cannot walk.

B.He is very old and cannot walk.

C.He is very old enough not to walk.

D.He is too old to walk.

Answer:

<https://www.freshersnow.com/previous-year-question-papers/>

Reference ID:(4750)

(आरटीआय) माहिती अधिकार अधिनियम, 2005 च्या कोणत्या विभागांतर्गत एखादी व्यक्ती सार्वजनिक प्राधिकरणाकडून माहिती मिळविण्यासाठी अर्ज करू शकते?

A.6

B.7

C.8

D.9

Answer:

A.6

Reference ID:(4439)

Choose the option that has all words spelt correctly:

A.servant , guidance , assistant

B.servent , guidance , asistant

C.servent , guidance , assistant

D.servant , guidance , assistent

Answer:

A.servant , guidance , assistant

Reference ID:(4735)

'अंबर' हा शब्द खालीलपैकी कोणत्या जोडीचा समानार्थी शब्द आहे?

A.वस्त्र, व्योम

B.आकाश, उत्पल

C.वसन, सरोज

D.शिखर, गगन

Answer:

A.वस्त्र, व्योम

Reference ID:(4702)

Select the suitable determiner from the given options to complete the given sentence:

Have you watched _____ of the James Bond movies?

A.few

B.any

C.little

D.a few

Answer: B.any

Reference ID:(4740) कोणता मुस्लिम सण हजच्या पवित्र कालावधीच्या सुरूवातीला चिन्हांकित करतो?

A.ईद-उल-जुहा

B.ईद-उल-फित्र

C.मिलाद-उल-नबी

D.मुहरम

Answer: A.ईद-उल-जुहा

Reference ID:(4722) आकडा' शब्दाचा खालीलपैकी कोणता अर्थ बरोबर नाही ?

A.संख्या

B.थंडीने भरणारे कापरे

C.विचवाची नांगी

D.बाकदार टोक

Answer: B.थंडीने भरणारे कापरे

Reference ID:(4736) 'शिक्षक मुलांना शिकवितात.' या वाक्यातील कर्म ओळखून लिहा.

A.मुलांना

B.शिक्षक

C.शिकवितात

D.शिक्षक मुलांना

Answer: A.मुलांना

Reference ID:(4705) Choose the appropriate preposition to complete the given sentence.

Gemma is bad ___ tennis.

A.in

C.over

D.about

Answer:

B.at

Reference ID:(4729)

शब्दांची त्यांच्या अर्थासह दिलेली चुकीची जोडी ओळखा.

A.कांकू – धरसोड

B.काकू – चुलती

C.काजी – कारण

D.कांजी – पेज

Answer:

C.काजी – कारण

Reference ID:(4954)

कोणत्या मराठा राजाच्या दरबारातील कवीने शिवभारत या वीररसपूर्ण महाकाव्याची रचना केली होती?

A.छत्रपती शाहू

B.मालोजी महाराज

C.छत्रपती शिवाजी

D.संभाजी शहाजी

Answer:

C.छत्रपती शिवाजी

Reference ID:(4708)

Choose appropriate conjunctions for the given sentence:

I like you a lot ___ you are kind ____ smart.

A.but , and

B.if, and

C.because, and

D.although, while

Answer:

C.because, and

Reference ID:(4704)

Choose the correct form of modal auxiliary verb for the given sentence:

If I were you, I _____ consider the job offer seriously.

A.ought

B.can

C.would

D.must

Answer:

C.would

Reference ID:(4730)

'गरज सरो आणि वैद्य मरो' या म्हणीचा अर्थ -

A.गरजेमुळे अडलेल्या व्यक्तीला इतरांच्या म्हणण्यापुढे मान डोलवावी लागते.

B.वैद्यकीय सल्ला घेणे.

C.वैद्याला कशाचीही गरज नसते.

D.आपले काम झाले की उपकार करणाऱ्याची पर्वा न करणे.

Answer:

D.आपले काम झाले की उपकार करणाऱ्याची पर्वा न करणे.

Reference ID:(4444)

Choose the correct form of adjective for the given sentence:

Don't overtake on a _____ corner!

A.blind

B.blunt

C.sharp

D.steep

Answer:

A.blind

Reference ID:(4743)

_____ द्वारे महाराष्ट्र स्टार्टअप सप्ताह आयोजित केला जातो?

A.महाराष्ट्र औद्योगिक विकास महामंडळ

B.महाराष्ट्र राज्य नवउपक्रम सोसायटी

C.अर्थव्यवस्था आणि सांख्यिकीचे संचालनालय

D.महाराष्ट्र प्रशासकिय न्यायाधिकरण

Answer:

B.महाराष्ट्र राज्य नवउपक्रम सोसायटी

Reference ID:(4723)

बापरे! किती भयानक आहे हा प्राणी. अधोरेखित केवलप्रयोगी अव्ययाचा प्रकार ओळखा.

A.भीतिदर्शक

B.आश्चर्यदर्शक

C.तिरस्कारदर्शक

D.शोकदर्शक

Answer:

B.आश्चर्यदर्शक

Reference ID:(4953)

महाराष्ट्र राज्य लोकसेवा अधिकार आयोगाच्या मुख्य आयुक्तांना काढून टाकण्याच्या प्रस्तावित आधारावर चौकशी करण्यासाठी राज्य सरकारला _____ चा संदर्भ घेणे आवश्यक आहे

A.केंद्रीय दक्षता आयुक्त

B.केंद्रीय अन्वेषण विभाग

C.न्यायाधीश उच्च न्यायालय मुंबई (बॉम्बे)

D.भारताचे मुख्य न्यायाधीश

Answer:

C.न्यायाधीश उच्च न्यायालय मुंबई (बॉम्बे)

Reference ID:(4964)

दोन वर्षांपूर्वी वडिलांचे वय मुलाच्या वयाच्या 5 पट होते. इथून पाच वर्षांनंतर वडिलांचे वय मुलाच्या वयाच्या तिप्पट असेल. तर वडिलांचे सध्याचे वय किती?

A.35 वर्ष

B.37 वर्ष

C.40 वर्ष

D.42 वर्ष

Answer:

B.37 वर्ष

Reference ID:(4742)

युआयडीएआयच्या कोणत्या मुख्य कार्यकारी अधिका-याची नेमणूक नवीन महसूल सचिव म्हणून केली होती?

A.अजय नारायण झा

B.अजय भूषण पांडे

C.नीरज कुमार गुप्ता

D.सुभाष चंद्र गर्ग

Answer: B.अजय भूषण पांडे

Reference ID:(4984)

टोपली A मध्ये टोपली B पेक्षा 20 संत्री जास्त होती. जर अरुण ने टोपली B मधून टोपली A मध्ये 50 संत्री स्थानांतरीत केली, तर टोपली A मध्ये टोपली B च्या तिप्पट संत्री होतील. मूळतः टोपली B मधील संत्र्यांची संख्या _____ आहे.

A.220

B.110

C.200

D.100

Answer: B.110

Reference ID:(4709)

Choose the correct form of expression to complete the given sentence:

NASA reported _____ a hyper sonic aircraft is being designed for military missions and as a space launch vehicle to carry supplies

A.there is

B.both

C.not only

D.that

Answer: D.that

Reference ID:(4715)

खालीलपैकी कोणत्या वाक्यात क्रियाविशेषण अव्ययाचा उभयान्वयी अव्ययाप्रमाणे वापर केला आहे ?

A.तू काही खाणार की चहा घेणार.

B.नोकरी लागली म्हणून तो नागपूरला गेला.

C.जेथे पाणी होते तेथे लोक जमले.

Answer: C.जेथे पाणी होते तेथे लोक जमले.

Reference ID:(4961) पृथ्वी आणि तान्यांमधील अंतर _____ मध्ये मोजले जाते.

A.मेगा युनिट्स

B.प्रकाश वर्ष

C.किलोमीटर

D.मीटर

Answer: B.प्रकाश वर्ष

Reference ID:(4978) तीन उन्हाळी महिन्यांमध्ये एका हॉटेलची अधिवास टक्केवारी 88% आणि उर्वरित वर्षामध्ये 44% असते. संपूर्ण वर्षासाठी सरासरी अधिवास टक्केवारी काय आहे?

A.50%

B.55%

C.66%

D.70%

Answer: B.55%

Reference ID:(4710) Choose the correct form of verb that is in agreement with the subject:

If I ____ you, I would have agreed to the solution.

A.was

B.am

C.are

D.were

Answer: D.were

Reference ID:(4960) पेट्रोलियमला सामान्यतः म्हणून ओळखले जाते.

A.काळे सोने

B.पिवळे सोने

C.पांढरे सोने

D.हिरवे सोने

Answer:

A.काळे सोने

Reference ID:(4979)

1 - 2 + 3 - 4 + 5 -+ 99 - 100 + 101 बरोबर असेल:

A.-50

B.50

C.51

D.-51

Answer:

C.51

Reference ID:(4738)

षष्ठी या विभक्तीचा कारकार्थ सांगा.

A.कर्ता

B.कर्म

C.कारण

D.संबंध

Answer:

D.संबंध

Reference ID:(4976)

एका बसची किंमत बजेटच्या आधी 40% वाढली आणि बजेटनंतर ती 20% कमी करण्यात आली. बसच्या किमतीमध्ये एकूण किती टक्के वाढ झाली ते काढा?

A.66%

B.67%

C.68%

D.69%

Answer:

C.68%

Reference ID:(4746)

4 थी भारत-कोरीया विज्ञान आणि तंत्रज्ञान मंत्र्यांच्या संचालन समितीची सभा _____ येथे आयोजित केली गेली होती.

A.उत्तराखंड

B.आसाम

C.नवी दिल्ली

D.गुजरात

Answer:

C.नवी दिल्ली

Reference ID:(4969)

वगळलेली संख्या निवडून मालिका पूर्ण करा:

4, 23, 60, 121, _____

A.212

B.221

C.241

D.242

Answer:

A.212

Reference ID:(4741)

शिवाजींनी त्यांचे विरोधक अफझल खान यांना ठार मारले त्यावर शिवाजींच्या वीरतेचे गुणगाण करणारे हे नाट्य लिहिले गेले, ज्याला नंतर म्हणून जाणले जाऊ लागले

A.पोवडा

B.विल्लु पट्टु

C.भावना

D.स्वांग

Answer:

A.पोवडा

Reference ID:(4713)

Choose the option that best expresses the meaning of the highlighted idiom/phrase:

I've been **beating my brains out** to find a way to get the money to her in time.

A.eagerly waiting

B.think very hard

C.hitting my head hard

D.sweating out

Answer: B.think very hard

Reference ID:(4721) 'ऐकावे जनाचे करावे मनाचे' या म्हणीचा अर्थ -

A.लोकांचे ऐकून घेणे व मग आपल्याला जे योग्य वाटेल ते करणे.

B.विचार न करता बोलणे.

C.स्वतःचे चांगले आणि दुसऱ्यापेक्षा वाईट चिंतणे.

D.कोणतेही कृत्य करताना एकमेकांना साथ देणे.

Answer: A.लोकांचे ऐकून घेणे व मग आपल्याला जे योग्य वाटेल ते करणे.

Reference ID:(4983) एक रेल्वे 20 सेकंदांमध्ये एक स्तंभ आणि 100 मीटर प्लॅटफॉर्म 30 सेकंदांमध्ये पार करते. ट्रेनची लांबी काढा.

A.100 मीटर

B.200 मीटर

C.300 मीटर

D.400 मीटर

Answer: B.200 मीटर

Reference ID:(4962) मंडुक डिंबक ही _____ ची विकसन अवस्था आहे.

A.मासा

B.बेडूक

C.साप

D.फुलपाखरू

Answer: B.बेडूक

Reference ID:(4739)

खालीलपैकी कोणते ठिकाण अलिकडे युनेस्को जागतिक वारशाच्या ठिकाणामध्ये समाविष्ट केले गेले?

A.एलिफंटा गुहा

B.कारल्याच्या लेणी

C.व्हिक्टोरियन गोथिक आणि आर्ट डेको वास्तुशास्त्राचे दोन इमारत समूह

D.छत्रपती शिवाजी टर्मिनस (सीएसटी)

Answer:

C.व्हिक्टोरियन गोथिक आणि आर्ट डेको वास्तुशास्त्राचे दोन इमारत समूह

Reference ID:(4737)

त, ई, आ, त, ई, आ हे कोणत्या विभक्तीचे प्रत्यय आहेत?

A.प्रथमा

B.द्वितीया

C.तृतीया

D.सप्तमी

Answer:

D.सप्तमी

Reference ID:(4732)

'गाढवाला गुळाची चव काय?' या म्हणीचा अर्थ -

A.खूप गोड खाणे.

B.मूर्खाला चांगल्या गोष्टीची किंमत कळत नाही.

C.मूर्खाला केलेला उपदेश वाया जातो.

D.आपले काम करून घेईपर्यंत एखाद्याशी गोड बोलणे.

Answer:

B.मूर्खाला चांगल्या गोष्टीची किंमत कळत नाही.

Reference ID:(4968)

खाली दिलेल्या मालिकेमध्ये अंकांचा एक विशिष्ट क्रम दिलेला आहे. त्यानुसार चुकीचा क्रम ओळखा:

1, 6, 13, 22, 32, 46

A.13

B.22

C.32

D.46

Answer: C.32

Reference ID:(4967) एका विशिष्ट कोडमध्ये, LUTE ला MUTE असे लिहिले जाते आणि FATE ला GATE असे लिहिले जाते, तर या कोडमध्ये BLUE कसे लिहिले जाईल?

A.CLUE

B.FLUE

C.SLUE

D.GLUE

Answer: A.CLUE

Reference ID:(4972) "FIGHT" शब्दाच्या अक्षरांची किती भिन्न प्रकारे मांडणी केली जाऊ शकते?

A.120

B.115

C.110

D.105

Answer: A.120

Reference ID:(4731) 'त्याने आता घरी जावे.' प्रयोग ओळखा.

A.भावे

B.कर्मणी

C.कर्तरी

Answer: A.भावे

Reference ID:(4963) सुरीमध्ये धारदार कर्तन कडा असते कारण _____.

A.ते स्पर्श क्षेत्र कमी करते आणि प्रयुक्त होणारा दाब वाढवते

B.ते स्पर्श क्षेत्र वाढवते आणि प्रयुक्त होणारा दाब वाढवते

C.ते स्पर्श क्षेत्र कमी करते आणि प्रयुक्त होणारा दाब कमी करते

D.ते स्पर्श क्षेत्र वाढवते आणि प्रयुक्त होणारा दाब कमी करते

Answer: A.ते स्पर्श क्षेत्र कमी करते आणि प्रयुक्त होणारा दाब वाढवते

Reference ID:(4956) मंत्री परिषदेमध्ये पंत प्रधानासह मंत्र्यांची एकूण संख्या ही लोकसभेच्या एकूण सदस्य संख्येच्या _____ टक्के पेक्षा जास्त असू नये.

A.10%

B.15%

C.16%

D.20%

Answer: B.15%

Reference ID:(4447) Choose the option with the appropriate suffix to complete the given sentence:

I wonder what's in this myster_____ package?

A.-y

B.-ious

C.-ical

D.-ify

Answer: B.-ious

Reference ID:(4725) 'बराय' या शब्दाची भावना ओळखा.

A.आश्चर्यदर्शक

C.मौनदर्शक

D.संमतिदर्शक

Answer:

D.संमतिदर्शक

Reference ID:(4717)

'केसाने गळा कापणे' या वाक्प्रचाराचा अर्थ -

A.त्रास देणे.

B.विश्वासघात करणे.

C.केस कापणे.

D.खून करणे.

Answer:

B.विश्वासघात करणे.

Reference ID:(4443)

Choose the correct form of adjective for the given sentence:

My father has _____ patience than my mother who loses her temper for trivial things.

A.most

B.more

C.much

D.the most

Answer:

B.more

Reference ID:(4748)

विनू मनकड चषक _____ साठी क्रिडा कार्यक्रम आहे

A.क्रिकेट

B.बास्केटबॉल

C.फूटबॉल

D.हॉकी

Answer:

A.क्रिकेट

Reference ID:(4986)

दोन 2-अंकी संख्यांचा गुणाकार 2028 आहे आणि त्यांचा मसावि 13 आहे. तर त्या संख्या आहेत _____.

<https://www.freshersnow.com/previous-year-question-papers/>

A.26, 78

B.39, 52

C.13, 156

D.36, 68

Answer:

B.39, 52

Reference ID:(4446)

Choose the correct form of the noun for the given sentence:

_____ is better than cure.

A.Preventable

B.Preventing

C.Prevent

D.Prevention

Answer:

D.Prevention

Reference ID:(4719)

चिकटून किंवा जोडीने येणाऱ्या शब्दांची चुकीची जोडी ओळखा.

A.कडी – गडी

B.गाडी – घोडा

C.गोठ – तोडे

D.केर – वारे

Answer:

A.कडी – गडी

Reference ID:(4734)

'मुलाने आंबा खाल्ला.' या वाक्यातील कर्म ओळखून लिहा.

A.आंबा

B.मुलाने

C.आंबा खाल्ला

D.खाल्ला

Answer:

A.आंबा

Reference ID:(4449)

Choose appropriate articles for the given sentence:

Those in ___ know are already excited about ___ innovation.

A.the, the

B.a, an

C.a, a

D.an, an

Answer:

A.the, the

Reference ID:(4744)

ऑक्टोबर 2018 रोजी मुंबईमध्ये आययुएफओएसटी जागतिक अन्न विज्ञान आणि तंत्रज्ञान काँग्रेसची _____ आवृत्ती आयोजित केली गेली होती.

A.1 ली

B.10 री

C.50 री

D.19 वी

Answer:

D.19 वी

Reference ID:(4450)

Choose appropriate articles for the given sentence:

____Andaman and Nicobar Islands are ____group of islands at ____meeting point of the Bay of Bengal and the Andaman Sea.

A.The, a, the

B.A, the, a

C.An, a, the

D.The, an, a

Answer:

A.The, a, the

Reference ID:(4965)

दोन व्यक्तींच्या वयाची सरासरी 32 वर्ष आहे. एक दुसऱ्यापेक्षा 16 वर्षांनी मोठा आहे. तर त्या दोन व्यक्तींचे सध्याचे वय असेल:

A.34 वर्ष आणि 50 वर्ष

B.20 वर्ष आणि 36 वर्ष

C.24 वर्ष आणि 40 वर्ष

D.32 वर्ष आणि 32 वर्ष

Answer: C.24 वर्ष आणि 40 वर्ष

Reference ID:(4707) Choose the most suitable conjunction to complete the given sentence:

He found his wallet _____ he had left it.

A.while

B.when

C.where

D.wither

Answer: C.where

Reference ID:(4975) तीन व्यक्ती A, B आणि C ने एक व्यवसाय सुरू करण्यासाठी, अनुक्रमे 3000 रुपये, 5000 रुपये आणि 7000 रुपयांची गुंतवणूक केली. वर्षाच्या शेवटी 100000 रुपये एवढा लाभ झाला, ज्यामधील 25% चे दान केले जाते. B चा वाटा हा A च्या वाट्यापेक्षा किती जास्त असेल?

A.20000 रुपये

B.10000 रुपये

C.5000 रुपये

D.वरीलपैकी कोणतेही नाही

Answer: B.10000 रुपये

Reference ID:(4712) Choose the correct form of tense for the given sentence:

He _____ his PAN card right inside the drawer, where he _____ it.

A.will found, will keep

B.is finding, is kept

C.finding, keeping

D.found, had kept

Answer: D.found, had kept

Reference ID:(4727) जे शब्द मूळ महाराष्ट्रातील रहिवाश्यांच्या बोलीभाषेतील मानले जातात, त्यांना -----शब्द म्हणतात.

A.देशज

B.तत्सम

C.तद्भव

D.कोकणी

Answer: A.देशज

Reference ID:(4445) Choose the correct form of the noun for the given sentence:

Many people face a lot of _____ when they have to educate their children.

A.hardness

B.hardships

C.hardiness

D.hardly

Answer: B.hardships

Reference ID:(4973) जर 12 पुरूष किंवा 18 महिला एक काम 14 दिवसांत करत असतील, तर 8 पुरूष आणि 16 महिलांना ते काम पूर्ण करण्यासाठी किती दिवस लागतील?

A.9 दिवस

B.10 दिवस

C.12 दिवस

D.14 दिवस

Answer: A.9 दिवस

Reference ID:(4977) 20% च्या लागोपाठ झालेल्या घटीनंतर, संगणकाची किंमत 20800 रुपये आहे. मुळ किंमत काय आहे?

A.32500 रुपये

B.30500 रुपये

C.31500 रुपये

D.33500 रुपये

Answer: A.32500 रुपये

Reference ID:(4957) उस्मानाबाद येथील नळदुर्ग किल्ल्याचा पृष्ठभाग _____ प्रकारच्या खडकाने परिवेष्टित आहे?

A.ग्रेनाइट

B.चुना दगड

C.बसाल्ट

D.वाळूचा दगड

Answer: C.बसाल्ट

Reference ID:(4747) 2018 मध्ये महाराष्ट्रामधून जलतरण श्रेणीमध्ये पद्म श्री पुरस्कार खालीलपैकी कोणी जिंकला?

A.श्री मुरलीकांत पेटकर

B.प्रशांत कर्माकर

C.वीरधवल खाडे

D.सजन प्रकाश

Answer: A.श्री मुरलीकांत पेटकर

Reference ID:(4749) 26 जून 2018 रोजी पुष्पा भावे, या महाराष्ट्रामधील ख्यातनाम विद्वान आणि सामाजिक कार्यकर्तीला _____ पुरस्कृत करण्यात आला.

A.साहित्य अकादमी पुरस्कार

B.महाराष्ट्र केसरी पुरस्कार

C.राजर्षी शाहू पुरस्कार

D.पद्म श्री

Answer: C.राजर्षी शाहू पुरस्कार
<https://www.freshersnow.com/previous-year-question-papers/>

Reference ID:(4958)

तात्कालीन बॉम्बे राज्यामधून महाराष्ट्र राज्याची निर्मिती कोणत्या साली झाली?

A.1956

B.1960

C.1962

D.1964

Answer:

B.1960
