

Reference ID:(19504) _____ ही रत्नागिरी जिल्ह्यामधील मुख्य नद्यांपैकी एक आहे.

A.गंगा

B.सावित्री

C.ब्रह्मपुत्रा

D.नर्मदा

Answer: B.सावित्री

Reference ID:(19509) महाराष्ट्रामधील खालीलपैकी कोणी 2018 वर्षामध्ये बुद्धिबळाचा "आंतरराष्ट्रीय मास्टर (आयएम)" हे शीर्षक जिंकले.

A.श्रीराम झा

B.हरिका द्रोणावल्ली

C.सहज ग्रोवर

D.रौनक साधवानी

Answer: D.रौनक साधवानी

Reference ID:(19257) Choose the option with the appropriate suffix to complete the given sentence:

Do you remember the agree_____ made between us?

A.-able

B.-ment

C.-ful

D.-some

Answer: B.-ment

Reference ID:(19290) पुढील नामाला अयोग्य विशेषणाचा पर्याय निवडा.
परिस्थिती

A.सर्वकालिके

B.युद्धजन्य

C.तत्कालीन

D.नियंत्रित

Answer:

D.नियंत्रित

Reference ID:(19273)

Choose the option that best expresses the meaning of the highlighted idiom/phrase:

Napoleon's defeat at Waterloo was **a bitter pill for him to swallow**.

A.Unpleasant to accept

B.Hard to swallow the bitter pill

C.Difficult to swallow the pill

D.Easy to accept

Answer:

A.Unpleasant to accept

Reference ID:(19251)

Choose the appropriate option with the correct punctuation marks for the given sentence:

mom said we should plan on going to coorg this year for our summer vacation

A.Mom said we should plan on going to Coorg this year for our summer vacation?

B.Mom said, "We should plan on going to Coorg this year for our summer vacation."

C.Mom said we should plan on going to coorg this year. For our summer vacation!

D.Mom said We should plan on going to Coorg this year for our summer vacation!

Answer:

B.Mom said, "We should plan on going to Coorg this year for our summer vacation."

Reference ID:(19544)

A, B आणि C एक काम अनुक्रमे 20, 30 आणि 60 दिवसांमध्ये करू शकतात. दर तिसऱ्या दिवशी B आणि C कडून सहाय्य मिळत असल्यास A ते काम किती दिवसांत पूर्ण करेल?

B.15 दिवस

C.16 दिवस

D.18 दिवस

Answer: B.15 दिवस

Reference ID:(19274) तुझ्या मनात काही 'काळेबेरे' तर नाही ना, यातील काळेबेरेचा अर्थ-

A.काळेपांढरे

B.कालेनिळे

C.काळेकुळकुळीत

D.शंककुशंका

Answer: D.शंककुशंका

Reference ID:(19254) Choose the correct form of adjective for the given sentence:

He is a _____ member of the team. He is willing to give his time and energy to anything he undertakes to do.

A.insincere

B.callous

C.committed

D.compassionate

Answer: C.committed

Reference ID:(19282) पुढील वाक्य वाचून योग्य वाक्य ओळखा.

A.आजीने मला डबा पाठवला.

B.आजीने मला डबा पाठवले.

C.आजीने मला डबा पाठवली.

D.आजीने मला डबा पाठवल्या.

Answer: A.आजीने मला डबा पाठवला.

Reference ID:(19297)

पुढील वाक्प्रचारांच्या योग्य अर्थाचा पर्याय निवडा.
दादापुता करणे-

A.गयावया करणे

B.पुढे पुढे करणे

C.क्षमेची याचना करणे

D.एखाद्याचे मन वळवणे

Answer:

D.एखाद्याचे मन वळवणे

Reference ID:(19539)

एक व्यक्ती त्याच्या घरापासून त्याच्या कार्यालयामध्ये 3 किमी/तास या वेगाने जातो आणि 2 किमी/तास या वेगाने परत येतो. जर त्याला जाण्या येण्यासाठी 5 तास लागत असतील, तर त्याचे घर आणि कार्यालयामधील अंतर किती आहे?

A.3 किमी

B.4 किमी

C.5 किमी

D.6 किमी

Answer:

D.6 किमी

Reference ID:(19523)

खालीलपैकी कशामुळे ध्रुवीय अस्वलाला अतिशय थंडीपासून संरक्षण पुरवले जाते?

A.जाड केस आणि जाड चरबीचा थर

B.विस्तारित मागचे पंजे

C.मोठा आकार

D.टोकदार तोंड

Answer:

A.जाड केस आणि जाड चरबीचा थर

Reference ID:(19286)

योग्य पर्यायाची निवड करा.
वाक्याचा अर्थ पूर्ण करणारा क्रियावाचक शब्द-

A.नाम

B.सर्वनाम

C.धातू

D.क्रियापद

Answer:

D.क्रियापद

Reference ID:(19285)

योग्य पर्यायाची निवड करा.
मी पुण्याला _____

A.राहतो

B.राहणे

C.राहिला

D.राहतात

Answer:

A.राहतो

Reference ID:(19252)

Choose the appropriate option with the correct punctuation marks for the given sentence:

No I don't want to go there he said

A."No! I don't want to go there!" he said.

B.No, I don't want to go there he said.

C.No? `I don't want to go there,' he said

D.`No I don't want to go there :he said'

Answer:

A."No! I don't want to go there!" he said.

Reference ID:(19295)

गटात न बसणारा पर्याय निवडा.

A.रूपक, उत्प्रेक्षा

B.उपमा, उत्प्रेक्षा

C.यमक, रूपक

D.प्रथमा, संबोधन

Answer:

D.प्रथमा, संबोधन

Reference ID:(19269)

Choose the most appropriate usage to fill in the blank in the given sentence:

The professor will be in a _____ role on the trip.

B.supervisor

C.supervise

D.supervisory

Answer: D.supervisory

Reference ID:(19528) सरासरी काढा.
44, 40, 75, 25, 66 & 80

A.44

B.55

C.91

D.22

Answer: B.55

Reference ID:(19541) पहिल्या 25 नैसर्गिक विषम संख्यांची बेरीज काय आहे?

A.225

B.125

C.525

D.625

Answer: D.625

Reference ID:(19534) रिकाम्या जागी योग्य संख्या निवडून श्रृंखला पूर्ण करा:
2, 3, 8, 27, 112, _____

A.156

B.224

C.375

D.480

Answer: D.480

Reference ID:(19518)

ऑक्टोबर 2018 मध्ये, अरबी समुद्रावर _____ नावाचे अत्यंत तीव्र चक्रीवादळ निर्माण झाले.

A.गाजा

B.पेथाई

C.लुबान

D.तितली

Answer:

C.लुबान

Reference ID:(19289)

पुढील वाक्यातील अधोरेखित अव्ययाचा प्रकार ओळखा.
भारतावर वारंवार दहशतवादी हल्ले होतात.

A.केवलप्रयोगी अव्यय

B.क्रियाविशेषण अव्यय

C.शब्दयोगी अव्यय

D.उभयायन्वयी अव्यय

Answer:

B.क्रियाविशेषण अव्यय

Reference ID:(19296)

'व्याघ्रसंख्या' या शब्दात किती जोडाक्षरे आली आहेत?

A.4

B.3

C.2

D.5

Answer:

B.3

Reference ID:(19272)

Choose the correct form of tense for the given sentence:

What _____ he _____ for a living?

A.is . . . doing

C.is . . . do

D.does . . . do

Answer: D.does . . . do

Reference ID:(19255) Fill in the blank with the correct noun for the given sentence:

The two _____ faced each other across the river.

A.armys

B.armies

C.armyes

D.armis

Answer: B.armies

Reference ID:(19501) संविधानाच्या कोणत्या अनुच्छेदांतर्गत, "संसद कायद्याने कोणत्याही राज्याचे नाव दुरुस्त करू शकते"?

A.अनुच्छेद 3

B.अनुच्छेद 4

C.अनुच्छेद 5

D.अनुच्छेद 6

Answer: A.अनुच्छेद 3

Reference ID:(19546) वर्गामधील मुलींची एकूण संख्या ही वर्गामधील मुलांच्या एकूण संख्येपेक्षा 45% ने जास्त आहे. वर्गामधील विद्यार्थ्यांची एकूण संख्या 294 आहे तर मुली आणि मुलांच्या एकूण संख्येमधील फरक काय आहे?

A.54

B.52

C.76

D.78

Answer: A.54

A.2

B.3

C.4

D.5

Answer:

C.4

Reference ID:(19512)

2019 च्या हुरुन ग्लोबल रिच सूचीमध्ये अग्रणी 10 सर्वात श्रीमंत बिलिनियर्सच्या सूचीमध्ये समाविष्ट झालेल्या पहिल्या भारतीयाचे नाव खालीलपैकी काय आहे?

A.मुकेश अंबानी

B.अजीम प्रेमजी

C.रतन टाटा

D.अनिल अंबानी

Answer:

A.मुकेश अंबानी

Reference ID:(19298)

पुढील वाक्यात पर्यायातील अचूक वाक्प्रचार निवडा.
या परीक्षेत पहिल्या दहात यायचेच, असा त्याने निश्चय केला.

A.मनाशी खुनगाठ बांधणे

B.ओनामा करणे

C.पाचवीला पूजणे

D.निकष लावणे

Answer:

A.मनाशी खुनगाठ बांधणे

Reference ID:(19519)

मोहेंजो-दडो येथे आढळलेले कोणते कांस्याचे शिल्प हे इसवीसन पूर्व 2500 मधील प्राक्कालीन कांस्याचे शिल्प आहे.

A.त्रिभंग मुद्रेमध्ये 'नृत्य करणारी मुलगी'

B.नटराज

C.चतुरनाना किंवा वैकुंठ विष्णू

D.सेम्बियन महा देवी

Answer: A.त्रिभंग मुद्रेमध्ये 'नृत्य करणारी मुलगी'

Reference ID:(19277) रिकाम्या जागी योग्य जोडशब्द लिहा.
आज अंगणात झाडांचा खूप _____ पडला.

A.पालापाचोळा

B.फुलसडा

C.केरकाटा

D.केरकाड्या

Answer: A.पालापाचोळा

Reference ID:(19507) मार्च 2019 मध्ये सईद मुश्ताक अली करंडक क्रिकेट चॅम्पियन शीपच्या अंतिम फेरीमध्ये महाराष्ट्र कोणत्या संघाशी पराभूत झाला?

A.तामिळ नाडू

B.विदर्भ

C.कर्नाटक

D.सौराष्ट्र

Answer: C.कर्नाटक

Reference ID:(19299) महाराष्ट्रातील कोणत्या फलंदाजाने कसोटी क्रिकेट मध्ये पहिल्यांदा 10,000 धावसंख्या केली?

A.संजय मांजरेकर

B.सुनिल गावस्कर

C.दिलीप वेंगसरकर

D.सचिन तेंडुलकर

Answer: B.सुनिल गावस्कर

Reference ID:(19258)

Choose the option with the appropriate suffix to complete the given sentence:

See that the letter reaches the address _____ in time.

A.-er

B.-eer

C.-ee

D.-ist

Answer:

C.-ee

Reference ID:(19520)

महाराष्ट्र शासनाने खालीलपैकी कोणत्या खेळाच्या प्रशिक्षणासाठी उदय देशपांडे यांना 2017-18 च्या 'शिव छत्रपती जीवनगौरव पुरस्कार' ने सन्मानित केले?

A.जुडो

B.बुद्धिबळ

C.वॉटर पोलो

D.मल्लखांब

Answer:

D.मल्लखांब

Reference ID:(19275)

दिलेल्या पर्यायांपैकी योग्य विरुद्धार्थी पर्याय शोधा.
खंडन -

A.मुंडन

B.मंडन

C.कांडन

D.सांडणं

Answer:

B.मंडन

Reference ID:(19278)

रिकाम्या जागी योग्य शब्द भरून जोडशब्द पूर्ण करा.
_____ धमक

B.पिवळा

C.काळा

D.निळा

Answer:

B.पिवळा

Reference ID:(19265)

Choose the appropriate prepositions for the following sentence:

The prosecutor presented a well-reasoned case, but the defense lawyer's compelling arguments _____ leniency won _____ the judge.

A.for, over

B.over, for

C.about, on

D.to, for

Answer:

A.for, over

Reference ID:(19515)

फेब्रुवारी 2019 मध्ये, भारताच्या खालीलपैकी कोणत्या शहरामध्ये 'राष्ट्रीय कार्य योजना-व्हायरल हेपाटायटीस' ची सुरुवात केली गेली?

A.मुंबई

B.जामनगर

C.रांची

D.मेरठ

Answer:

A.मुंबई

Reference ID:(19506)

भारतीय संविधानाचा कोणता भाग संसद आणि राज्य विधीमंडळाच्या निवडणूकींची आचारसंहिता हाताळतो?

A.भाग XIV

B.भाग XV

C.भाग XVI

D.भाग XVII

Answer:

B.भाग XV

Reference ID:(19280)

पुढील वाक्याचे नकारार्थी वाक्य करा.
बोलण्याचा आणि खाण्याचा संबंध काय?

A.बोलण्याचा आणि खाण्याचा काहीही संबंध नाही.

B.बोलण्याचा आणि खाण्याचा खूप संबंध आहे.

C.बोलण्याचा आणि खाण्याचा संबंध नसावा.

D.बोलण्याचा आणि खाण्याचा संबंध नसला पाहिजे.

Answer:

A.बोलण्याचा आणि खाण्याचा काहीही संबंध नाही.

Reference ID:(19256)

Choose the best option of a collective noun that connects the given sentence:

That fateful night, as we approached deeper into the forest, we could hear a _____ of owls hooting in the distance.

A.covey

B.parliament

C.bevy

D.band

Answer:

B.parliament

Reference ID:(19542)

वस्तूच्या चिन्हांकित किमतीवर 20% सूट दिली जाते. एक दुकानदार सूट दिलेल्या किमतीवर 10% विक्री कर आकारतो. जर विक्री किंमत 1848 रुपये असेल, तर वस्तूची चिन्हांकित किंमत (रुपयांमध्ये) काय असेल?

A.2500

B.3200

C.3600

D.2100

Answer:

D.2100

Reference ID:(19291)

पुढील वाक्यांमधील विशेषण ओळखा.
काल स्टेशनवर एका माणसाने धावत्या लोकलमधून उडी मारली.

A.काल

B.माणसाने

C.उडी

D.धावत्या

Answer:

D.धावत्या

Reference ID:(19271)

Out of the following options, identify a compound sentence.

A.She works very hard.

B.She works all day long to make ends meet.

C.She works hard but she doesn't like her office.

D.She works hard despite her ill health.

Answer:

C.She works hard but she doesn't like her office.

Reference ID:(19526)

14 वर्षांनंतर रेखाचे वय तिच्या 4 वर्षांपूर्वीच्या वयाच्या 4 पट असेल. रेखाचे वर्तमान वय काय आहे?

A.15 वर्षे

B.10 वर्षे

C.12 वर्षे

D.11 वर्षे

Answer:

B.10 वर्षे

Reference ID:(19270)

Choose the correct form of verb that is in agreement with the subject:

The earth _____ round the sun.

A.rotate

B.revoves

C.runs

D.orbit

Answer:

B.revoves

Reference ID:(19510)

सुवर्ण तंतू हे खालीलपैकी कोणत्या कापडांचा संदर्भ देतात?

A.नायलॉन

B.सूत

C.ताग

D.रेयॉन

Answer:

C.ताग

Reference ID:(19514)

_____ लेणी महाराष्ट्रातील संजय गांधी अभयारण्य परिसरात स्थित आहेत.

A.एलिफंटा

B.कार्ले

C.अजिंठा

D.कान्हेरी

Answer:

D.कान्हेरी

Reference ID:(19536)

अंकिताचे वय 25 वर्षे आहे. जर राहुलचे वय हे अंकिताच्या वयापेक्षा 25% अधिक असेल तर अंकिताचे वय हे राहुलच्या वयापेक्षा किती टक्के कमी आहे?

A.40%

B.35%

C.10%

D.20%

Answer:

D.20%

Reference ID:(19533)

खाली दिलेल्या श्रृंखलेमध्ये अंकांचा एक विशिष्ट क्रम दिलेला आहे. त्यानुसार चुकीचा क्रम ओळखा:

9, 14, 40, 129, 536, 2705, 16260

A.14

B.40

C.536

D.129

Answer:

B.40

Reference ID:(19524) जर A = 1, FAT = 27, तर FAITH = ?

A.44

B.42

C.41

D.40

Answer: A.44

Reference ID:(19517) महाराष्ट्र शासनाने बांधकाम मजूरांसाठी सुरू केलेल्या "एएवाय" योजनेचे पूर्ण रूप काय आहे.

A.अटल आहार योजना

B.अटल अमृत योजना

C.आंचल अमृत योजना

D.आंचल आहार योजना

Answer: A.अटल आहार योजना

Reference ID:(20048) एक काम A आणि B एकत्र 7 दिवसांमध्ये पूर्ण करतात. A हा B पेक्षा $1\frac{3}{4}$ पट कार्यक्षम आहे. तेच काम एकटा A किती दिवसांत पूर्ण करेल?

$9\frac{1}{3}$ दिवस

11 दिवस

$12\frac{1}{4}$ दिवस

16 दिवस

Answer: 11 दिवस

Reference ID:(19538) एक व्यक्ती 12 किमी/तास या सरासरी वेगाने 10 किमीपर्यंत सायकल चालवतो आणि पुन्हा 10 किमी/तास या सरासरी वेगाने 12 किमी अंतर कापतो. संपूर्ण प्रवासासाठी अंदाजे सरासरी वेग काय असेल?

A.11.2 किमी/तास

B.10 किमी/तास

C.10.2 किमी/तास

D.10.8 किमी/तास

Answer: D.10.8 किमी/तास

Reference ID:(19284) दिलेल्या काळात परिवर्तन करण्यासाठी योग्य पर्याय निवडा.
मुले वेगाने पळतात. (भविष्यकाळ)

A.पळतो

B.पळवतील

C.पळतील

D.पळणे

Answer: C.पळतील

Reference ID:(19511) महाराष्ट्रामध्ये सिकल सेल आजाराला टाळण्यासाठी _____ येथे संशोधन केंद्र
बांधले जाणार आहे.

A.लातूर

B.चंद्रपूर

C.नांदेड

D.सांगली

Answer: B.चंद्रपूर

Reference ID:(19529)

खाली दिलेल्या चार पत्त्यांपैकी कोणता पत्ता खाली दिलेल्या पत्त्याशी अचूकपणे जुळत नाही?

Al Mamzar, Dubai, Abraj Al Mamzar building Flat No. 509/Block A - Dubai - United Arab Emirates

+971 4 220 7774

(i) Al Mamzar, Dubai, Abraj Al Mamzar building Flat No. 509/Block A - Dubai - United Arab Emirates

+971 4 220 7774

(ii) Al Mamzar, Dubai, Abraj Al Mamzar building Flat No. 509\Black A - Dubai - United Arab Emirates

+971 4 220 7774

(iii) Al Mamzar, Dubai, Abraj Al Mamzar building Flat No. 509/Block A - Dubai - United Arab Emirates

+971 4 220 7774

(iv) Al Mamzar, Dubai, Abraj Al Mamzar building Flat No. 509/Block A - Dubai - United Arab Emirates

+971 4 220 7774

A.i

B.ii

C.iii

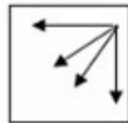
D.iv

Answer:

B.ii

Reference ID:(20047)

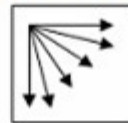
खाली दिलेल्या क्रमामध्ये, पुढील आकृती कोणती असेल?




i



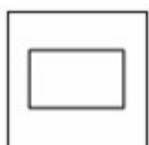
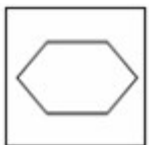
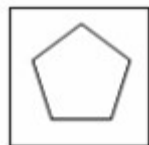
ii



iii

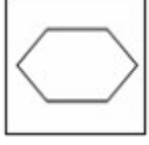


iv





Answer:



Reference ID:(19530)

प्रश्नाचे उत्तर देण्यासाठी मांडणीचा काळजीपूर्वक अभ्यास करा.

5 D E F 6 * K 4 B M 1 \$ J # H L 7 @ P T U 2 R Q

वरील मांडणीमध्ये असे किती चिन्ह आहेत, त्यांच्यापैकी प्रत्येकाच्या आधी लगेचच संख्या आणि नंतर लगेचच व्यंजन आहे?

A. एक

B. दोन

C. तीन

D. चार

Answer:

C. तीन

Reference ID:(19513)

बरेल वन्य अभयारण्य भारतातील कोणत्या राज्यात आहे?

A. आसाम

B. केरळ

C. बिहार

D. राजस्थान

Answer:

A. आसाम

Reference ID:(19535)

रिकाम्या जागी योग्य संख्या निवडून श्रृंखला पूर्ण करा:

1, 3, 10, 38, 168, _____

A. 540

B. 654

C. 724

Answer: D.872

Reference ID:(19527) कपिल 25 वर्षाचा आणि रविश 45 वर्षाचा आहे. किती वर्षापूर्वी त्यांच्या वयाचे गुणोत्तर 3:5 होते?

A.13 वर्षे

B.8 वर्षे

C.5 वर्षे

D.7 वर्षे

Answer: C.5 वर्षे

Reference ID:(19300) जाबेल अल अखदार पर्वत, ओमानमध्ये भारत आणि ओमान यांच्या दरम्यान आयोजित केलेल्या लष्करी अभ्यासाचे नाव काय होते?

A.अभ्यास अल नगाह III

B.अभ्यास सर्वदा विजय

C.अभ्यास अजेय वॉरीयर्स

D.अभ्यास शूर वीर

Answer: A.अभ्यास अल नगाह III

Reference ID:(19287) क्रियापदानुसार कर्त्याच्या योग्य रूपाची निवड करा.
_____ लाडू खाल्ला.

A.सुकृत

B.सुकृतने

C.ती

D.तो

Answer: B.सुकृतने

Reference ID:(19267) Choose the most suitable conjunction for the given sentence:

It was hot enough yesterday but it is _____ hotter today.

A.yet

<https://www.freshersnow.com/previous-year-question-papers/>

B.and

C.still

D.however

Answer:

C.still

Reference ID:(19525)

एका बॉक्समध्ये पत्ते ठेवले आहेत, ज्यांमध्ये प्रत्येकावर 8,9,10,.....,15 पैकी एक संख्या अंकित आहे, त्यांना चांगल्याप्रकारे मिसळले गेले. जर यादृच्छिकपणे एक पत्ता काढला गेला, तर विषम संख्या मिळण्याची संभाव्यता काय आहे?

A.1/4

B.2/3

C.1/2

D.3/4

Answer:

C.1/2

Reference ID:(19294)

संबोधनानंतर हे चिन्ह वापरतात.

A.विकल्पचिन्ह

B.स्वल्पविराम

C.प्रश्नाचिन्ह

D.पूर्णविराम

Answer:

B.स्वल्पविराम

Reference ID:(19276)

दिलेल्या- शब्दगटातून विरुद्धार्थी शब्द ओळखा.
भित्त - भक्कम X _____

A.रूंद

B.विटांची

C.कमकुवत

D.दुर्गम

Answer:

C.कमकुवत

Reference ID:(19292)

अनेकवचनांचे एक वचन करा.
चांदण्याचे कोष माझ्या प्रियकराला पाठवा.

A.चांदण्याचे कोष आमच्या प्रियकरांना पाठवा

B.चांदण्याचा कोष माझ्या प्रियकराला पाठवा

C.चांदण्याचा कोष माझ्या प्रियकराला पाठव

D.चांदण्याचा कोष आमच्या प्रियकराला पाठव

Answer:

C.चांदण्याचा कोष माझ्या प्रियकराला पाठव

Reference ID:(19288)

पुढील वाक्यातील अव्ययाचा प्रकार ओळखा.
'बापरे! केवढी प्रचंड दरी आहे ही!'

A.केवलप्रयोगी अव्यय

B.क्रियाविशेषण अव्यय

C.शब्दयोगी अव्यय

D.उभयान्वयी अव्यय

Answer:

A.केवलप्रयोगी अव्यय

Reference ID:(19050)

Choose the option that has the correct spelling for the missing word in the given sentence:

The _____ on the door became loose.

A.hengie

B.heinge

C.hinge

D.hingh

Answer:

C.hinge

Reference ID:(19261)

Choose the correct form of verb for the given sentence:

Animals ____ their behaviour before an earthquake ____ the earth.

A.changes ... hits

B.change ... hit

C.change ... hits

D.changing ... hit

Answer: C.change ... hits

Reference ID:(19259) Choose the appropriate articles for the given sentence:

The police will host ___ news conference half _____ hour before John's body is due to leave _____ island nation of Trinidad.

A.a, a, an

B.an, a, a

C.a, a, a

D.a, an, the

Answer: D.a, an, the

Reference ID:(19283) खालीलपैकी कोणते विधान अयोग्य आहे ते ओळखा.

A.विधेय आणि विधेयविस्तार हे वाक्यपृथक्करणाचे घटक आहेत.

B.उद्देश्यविस्तार आणि उद्देश्य हे वाक्यपृथक्करणाचे घटक आहेत.

C.कर्म आणि कर्मपूरक हे वाक्यपृथक्करणाचे घटक आहेत.

D.अलंकार आणि वृत्त हे वाक्यपृथक्करणाचे घटक आहेत.

Answer: D.अलंकार आणि वृत्त हे वाक्यपृथक्करणाचे घटक आहेत.

Reference ID:(19293) पुढील वाक्यांमध्ये योग्य ते अव्यय घाला.
म्हातारीने कोंबडे झाकले _____ उजाडायचे राहत नाही.

A.तरी

B.कारण

C.जरी

D.की

Answer: A.तरी

Reference ID:(19281)

पुढील वाक्याचा प्रकार ओळखा.

मी घाबरून मागे पाहिले, कारण मागे कसलातरी आवाज आला.

A.प्रश्नार्थी

B.मिश्र वाक्य

C.संयुक्त वाक्य

D.केवल वाक्य

Answer:

B.मिश्र वाक्य

Reference ID:(19266)

Choose the option with the best prepositional phrase to complete the given sentence:

_____, I would never like to see you again.

A.By all mean

B.In fact

C.In favour of

D.On behalf of

Answer:

B.In fact

Reference ID:(19543)

एक विक्रेता 20% सूट देतो आणि तरीही त्याला 20% नफा होतो आणि पुढे तो 12 वस्तूंच्या विक्रीवर 4 वस्तू मोफत देतो. खरेदी किंमत आणि बाजार किंमतीमधील गुणोत्तर काढा.

A.1:2

B.4:5

C.3:7

D.2:5

Answer:

A.1:2

Reference ID:(19264)

Choose the correct form of modal auxiliary verb for the given sentence:

Let's go shopping today. The shops _____ not be crowded.

A.shall

B.will

C.should

D.need

Answer: B.will

Reference ID:(19532) आज रविवार आहे. 1344 दिवसांनंतर काय असेल

A.रविवार

B.सोमवार

C.मंगळवार

D.बुधवार

Answer: A.रविवार

Reference ID:(19262) Choose the most suitable determiner for the given sentence:

We are not familiar with _____ part of the city.

A.the

B.this

C.which

D.these

Answer: B.this

Reference ID:(19268) Choose the most suitable conjunction for the given sentence:

They came here _____ they were in trouble.

A.what

B.why

C.when

D.where

Answer: C.when

Reference ID:(19508) भारतीय संविधानाचे कोणते परिशिष्ट आदिवासी क्षेत्रामधील स्वायत्त जिल्हा परिषदेशी संबंधित आहे

A.आठवे परिशिष्ट

B.दहावे परिशिष्ट

C.चौथे परिशिष्ट

D.सहावे परिशिष्ट

Answer:

D.सहावे परिशिष्ट

Reference ID:(19260)

Choose the appropriate articles for the given sentence:

_____ organisation has entered into _____ agreement to sell one of their buildings to _____ real estate company situated on the banks of _____ Rhine.

A.The, a, the, the

B.The, the, an, the

C.The, a, the, a

D.The, an, a, the

Answer:

D.The, an, a, the

Reference ID:(19521)

मुंबई नंतर मेट्रो रेल्वे मिळवणारे महाराष्ट्र राज्यामधील दुसरे शहर कोणते आहे?

A.नाशिक

B.पुणे

C.नागपूर

D.नांदेड

Answer:

C.नागपूर

Reference ID:(19537)

मतदानामध्ये मतदार सूचीमधील 10 मतदारांनी मत दिली नाही आणि 60 मतदारांनी त्यांच्या मतदार पत्रिका रिक्त सोडल्या. तेथे फक्त दोन उमेदवार आहेत. विजेत्याला सूचीमधील 47% मतदारांनी समर्थन केले आणि त्याला त्याच्या विरोधकापेक्षा 308 मतं जास्त मिळाली. सूचीमधील मतदारांची संख्या ही होती?

A.3600

B.6200

C.4575

D.6028

Answer:

B.6200

Reference ID:(19502)

2018-19 डीडी महिला किसान पुरस्काराच्या पहिल्या बक्षिसाने सन्मानित व्यक्तीचे नाव सांगा.

A.सुप्रिया शिंगाडे

B.स्वाती शिंगाडी

C.सुप्रिया साहू

D.स्वाती साहू

Answer:

B.स्वाती शिंगाडी

Reference ID:(19516)

2019 मध्ये, सामाजिक न्याय आणि सशक्तीकरण मंत्रालयाद्वारे घोषणा केल्याप्रमाणे, विकलांग क्रीडांसाठीचे केंद्र _____ येथे स्थापित केले जाणार आहे.

A.ग्वालियर

B.जयपूर

C.बेंगलुरू

D.चेन्नई

Answer:

A.ग्वालियर

Reference ID:(19263)

Which of the following options best combines the two given sentences?

There was a cyclonic storm. The schools were closed.

A.The schools were closed, so there was a cyclonic storm.

B.There was a cyclonic storm, so the schools were closed.

C.The schools were closed, but there was a cyclonic storm.

D.There was a cyclonic storm, but the schools were closed.

Answer:

B.There was a cyclonic storm, so the schools were closed.

Reference ID:(19505)

जागतिक गतिक शहरे (वर्ल्ड डायनॅमिक सिटीज) 2019 मध्ये महाराष्ट्रामधील कोणत्या शहराला 5 वी श्रेणी मिळाली?

A.नागपूर

C.वर्धा

D.पुणे

Answer:

D.पुणे

Reference ID:(19522)

खालीलपैकी कोणती गती ही वर्तुळाकार गती **नाही**?

A.बुध ग्रहाची सुर्याभोवतीची गती

B.पंख्याच्या पात्यावर काढलेल्या बिंदुची गती

C.व्हायोलिनच्या तारेची गती

D.शिवणयंत्राच्या चाकाची गती

Answer:

C.व्हायोलिनच्या तारेची गती

Reference ID:(19540)

एक व्यक्ती A पासून B पर्यंत 40 किमी/तास या वेगाने जातो आणि त्याचा वेग 50% वाढवून परत येतो. दोन्ही प्रवासांमधील सरासरी वेग काय आहे?

A.60 किमी/तास

B.56 किमी/तास

C.52 किमी/तास

D.48 किमी/तास

Answer:

D.48 किमी/तास

Reference ID:(19049)

Choose the option that has the correct spelling.

A.Mischievous

B.Mischevious

C.Mischeveous

D.Mischivouos

Answer:

A.Mischievous

Reference ID:(19531)

सुरेश, या दूध विक्रेत्याकडे विक्रीसाठी दूधाचे विशिष्ट प्रमाण आहे. खरेदी किमतीला मिश्रणाची विक्री करून 5% नफा होण्यासाठी त्याने किती गुणोत्तरामध्ये पाणी मिसळावे?

B.5:6

C.2:30

D.1:20

Answer: D.1:20

Reference ID:(19279) पुढील शब्दाचे लिंग ओळखा.
नाव

A.पुल्लिंग

B.स्त्रीलिंग

C.नुपसकलिंग

D.उभयलिंग

Answer: D.उभयलिंग

Reference ID:(19503) 2019 मध्ये गुजरातच्या खालीलपैकी कोणत्या शहरामधील, राष्ट्रीय मीठ सत्याग्रह स्मारक आणि संग्रहालय पंत प्रधान नरेंद्र मोदीद्वारे राष्ट्राला समर्पित केले गेले.

A.नवसारी

B.दांडी

C.साबरमती

D.गांधीधाम

Answer: B.दांडी

Reference ID:(19253) Choose the correct form of adjective for the given sentence:

Until a _____ agreement has been reached, I am not committed to accepting the offer.

A.hard

B.stable

C.settled

D.firm

Answer: D.firm