
Reference ID:(13017) Choose the correct form of modal auxiliary verb for the given sentence:
Internet _____ provide information on any topic with the click of a mouse.

A.ought to

B.can

C.may

D.should

Answer: B.can

Reference ID:(13028) दिलेल्या पर्यायांपैकी योग्य विरुद्धार्थी शब्द वाक्यात भरून वाक्य पूर्ण करा.
----- जमिनीला कितीही खतपाणी घातले तरी ती सुपीक होणार नाही.

A.कोरडवाहू

B.नापीक

C.भुसभुशीत

D.कोरड्या

Answer: B.नापीक

Reference ID:(13020) Choose the correct conjunction for the given sentence:
Though there was little evidence against him, _____ he was convicted.

A.so

B.besides

C.yet

D.after

Answer: C.yet

Reference ID:(13010)

Choose the option with the appropriate prefix to complete the given sentence:

The validity of your passport has expired and therefore is ___ valid now.

A.post-

B.mis-

C.un-

D.in-

Answer:

D.in-

Reference ID:(13031)

रिकाय्या जागी योग्य शब्द भरून जोडशब्द पूर्ण करा.
----- कौतुक

A.गोड

B.सत्कार

C.कोड

D.मान

Answer:

C.कोड

Reference ID:(13254)

जल संसाधनासाठीच्या केंद्रीय मंत्र्याद्वारे 27 फेब्रुवारी 2019 रोजी कोणत्या राज्याने संसाधन व्यवस्थापनासाठी पहिले बक्षिस जिंकले?

A.महाराष्ट्र

B.गुजरात

C.उत्तर प्रदेश

D.मध्य प्रदेश

Answer:

A.महाराष्ट्र

Reference ID:(13298)

एक दुकानदार 12.5% सूट देऊन 17,940 रुपयांना टीव्ही संचाची विक्री करतो आणि त्याला 5% नफा होतो. जर कोणतीही सूट दिली नाही तर त्याच्या नफ्याची टक्केवारी काय असेल?

A.20%

B.25%

C.30%

D.15%

Answer: A.20%

Reference ID:(13047) पुढील पुढील वाक्यातील विरामचिन्ह ओळखा.
अनेक ठिकाणी उसवलेल्या स्वेटरमधून थंडी चांगलीच जाणवत होती.

A.संयोगचिन्ही

B.प्रश्नचिन्ह

C.उद्गारचिन्ह

D.पूर्णविराम

Answer: D.पूर्णविराम

Reference ID:(13027) पर्यायी उत्तरांतील गटाबाहेरचा शब्द कोणता?

A.मृग

B.सारंग

C.कुरंग

D.मृगेंद्र

Answer: D.मृगेंद्र

Reference ID:(13262) भारतीय संविधानाचे कोणते परिशिष्ट राज्य आणि केंद्र शासित प्रदेशांना राज्य सभेमधील जागांचे वाटप हाताळते?

A.चौथे

B.पहिले

C.दहावे

D.सातवे

Answer: A.चौथे

Reference ID:(13019)

Choose the appropriate prepositional phrase for the given sentence:

The problem was solved _____ a new device developed by our team.

A.at the dint of

B.by reason of

C.by means of

D.for fear of

Answer:

C.by means of

Reference ID:(13284)

सरासरी काढा.
22, 71, 68, 78, 90 & 25

A.59

B.98

C.68

D.78

Answer:

A.59

Reference ID:(13268)

महाराष्ट्रात सत्ता असलेला सर्वात सुरुवातीचा राजवंश खालीलपैकी कोणता होता?

A.चोल राजवंश

B.पल्लव राजवंश

C.सातवाहन राजवंश

D.राष्ट्रकुट राजवंश

Answer:

C.सातवाहन राजवंश

Reference ID:(13043)

गटात न बसणारा शब्द. ओळखा.
प्राणी, प्रथमेश, प्रार्थना, प्रसिद्ध

A.प्राणी

B.प्रथमेश

C.प्रार्थना

D.प्रसिद्ध

Answer:

D.प्रसिद्ध

Reference ID:(13030)

जोडशब्द नसलेला शब्द ओळखा.

A.रीतिरिवाज

B.गंधकण

C.सोक्षमोक्ष

D.हळदकुंकू

Answer:

B.गंधकण

Reference ID:(13026)

Choose the option that best expresses the meaning of the highlighted idiom/phrase:

We want to replace **the rule of a king or queen** with self-rule.

A.Democracy

B.Despotism

C.Monarchy

D.Plutocracy

Answer:

C.Monarchy

Reference ID:(13282)

रितिकाकडे असलेल्या पैशांमधून 75% रक्कम खर्च केल्यानंतर तिच्याकडे 750 रुपये शिल्लक राहिले. सुरूवातीला तिच्याकडे असलेली रक्कम काढा?

A.1500 रुपये

B.7500 रुपये

C.1000 रुपये

D.3000 रुपये

Answer:

D.3000 रुपये

Reference ID:(13261)

भारत आणि पाकिस्तान _____ या सीमा रेषेद्वारे विलग झाले आहेत.

A.मॅकमोहन

B.रेडक्लिफ

C.दुरंद

D.वेलिंगटन

Answer:

B.रेडक्लिफ

Reference ID:(13002)

Choose the option that has the correct spelling.

A.Comitment

B.Comitmmment

C.Commitment

D.Cometmant

Answer:

C.Commitment

Reference ID:(13036)

रिकाम्या जागी योग्य शब्द निवडा.
उद्देश्य, उद्देश्यविस्तार, विधेय, विधेयविस्तार हे ----- घटक आहेत.

A.वाक्यपृथक्करणाचे

B.शब्दांच्या जातीचे

C.अलंकाराचे

D.वृत्ताचे

Answer:

A.वाक्यपृथक्करणाचे

Reference ID:(13296)

3460 आणि 9380 ला भागल्यानंतर अनुक्रमे 9 आणि 13 बाकी देणारी सर्वात मोठी संख्या काढा?

A.3451 आणि 9637

B.3541 आणि 9367

C.3551 आणि 9667

D.3451 आणि 9367

Answer:

D.3451 आणि 9367

Reference ID:(13005)

Choose the appropriate option with the correct punctuation marks for the given sentence:

Wow france won the Football cup this year

A.Wow, France won the football world cup this year

B.Wow france! won the Foot Ball cup this year.

C.Wow! France won the Football cup this year.

D.Wow the France won the football cup this year?

Answer:

C.Wow! France won the Football cup this year.

Reference ID:(13021)

Choose the appropriate conjunction for the given sentence:

He seeks his mother 's permission _____ he does anything important.

A.after

B.unless

C.as soon as

D.before

Answer:

D.before

Reference ID:(13275)

_____ च्या मदतीने खगोलीय वस्तूंना रात्रीच्या वेळी पाहिले जाऊ शकते.

A.सूक्ष्मदर्शकयंत्र

B. दूरदर्शी

C.परिदर्शी

D.चित्ररूपदर्शक

Answer:

B. दूरदर्शी

Reference ID:(13253)

एस. नांभी नारायणन यांना कोणत्या क्षेत्रामध्ये 2019 चा पद्म भूषण पुरस्कार देण्यात आला होता?

A.विज्ञान आणि अभियांत्रिकी-अवकाश

B.व्यापार आणि उद्योग-तंत्रज्ञान

C.चिकित्सा नेत्रविज्ञान

D.साहित्य आणि शिक्षण

Answer:

A.विज्ञान आणि अभियांत्रिकी-अवकाश

Reference ID:(13018)

Choose the appropriate prepositions for the given sentence:

Results ____ a new clinical trial has shown a new radiotherapy technique can treat cancer patients ____ just five sessions instead of the typical 37.

A.of ... on

B.off ... in

C.for ... on

D.from ...in

Answer:

D.from ...in

Reference ID:(13011)

Choose the option with the appropriate prefix to complete the given sentence:

During the mid 1800's many people joined the ____slavery movement.

A.ante-

B.pre-

C.anti-

D.de-

Answer:

C.anti-

Reference ID:(13023)

Choose the correct form of verb that is in agreement with the subject:

The members of the jury _____ divided in their opinions.

A.are

C.has been

D.is

Answer:

A.are

Reference ID:(13287)

42 हे 210 च्या किती टक्के आहेत?

A.15 %

B.20 %

C.22 %

D.25 %

Answer:

B.20 %

Reference ID:(13049)

कृपादृष्टी' या शब्दात किती जोडाक्षरे आली आहेत?

A.2

B.3

C.1

D.4

Answer:

C.1

Reference ID:(13272)

2019 मध्ये, हिमाचल प्रदेशाच्या निर्मितीच्या स्मरणार्थ आनंद आणि उत्सवासोबत 72 वा हिमाचल दिन _____ रोजी साजरा करण्यात आला.

A.15 एप्रिल

B.16 एप्रिल

C.17 एप्रिल

D.20 एप्रिल

Answer:

A.15 एप्रिल

Reference ID:(13290)

200 विद्यार्थ्यांनी मिळवलेले सरासरी गुण 125 आहेत. तर एकूण गुण किती ते काढा.

A.12500

B.2500

C.25000

D.125000

Answer: C.25000

Reference ID:(13264) केंद्रीय गृह निर्माण आणि शहरी प्रकरणे मंत्रीमंडळाद्वारे दिलेल्या स्वच्छ सर्वेक्षण पुरस्कार 2019 नुसार महाराष्ट्राला 'उत्तम प्रदर्शन करणारी राज्य' या श्रेणीकरणामध्ये _____ श्रेणी मिळाली.

A.पहिली

B.दुसरी

C.तिसरी

D.चौथी

Answer: C.तिसरी

Reference ID:(13050) पुढील वाक्प्रचारांच्या योग्य अर्थाचा पर्याय निवडा.
गळ्यात घोरपड बांधणे -

A.मोठे शौर्य दाखवणे

B.मोठे संकट येणे

C.नसती जबाबदारी लादणे

D.मांजराच्या गळ्यात घंटा बांधणे

Answer: C.नसती जबाबदारी लादणे

Reference ID:(13039) योग्य रूपाचा पर्याय निवडून गाळलेल्या जागी भरा .
..... धनी कोणीतरी वेगळाच.

A.बोलून

B.बोलावणे

C.बोलविता

D.बोलता

Answer: C.बोलविता

Reference ID:(13041)

पुढील वाक्यातील अव्ययाचा प्रकार ओळखा.
'छे! छे! अजिबात बघू नका तो चित्रपट!'

A.उभयान्वयी अव्यय

B.शब्दयोगी अव्यय

C.क्रियाविशेषण अव्यय

D.केवलप्रयोगी अव्यय

Answer:

D.केवलप्रयोगी अव्यय

Reference ID:(13266)

27 मार्च, 2019 रोजी कॅबिनेटने भारत आणि क्रोएशिया दरम्यान _____ क्षेत्रातील सामंजस्य करार (एमओयू) मंजूर केले.

A.शिक्षण

B.जैविक अस्त्र

C.रासायनिक उर्जा

D.पर्यटन

Answer:

D.पर्यटन

Reference ID:(13259)

एप्रिल 2019 मध्ये फिफा (फेडरेशन ऑफ इंटरनॅशनल फुटबॉल असोसिएशन) च्या कार्यकारी समितीचे सदस्य म्हणून खालीलपैकी कोणत्या पहिल्या भारतीयाची निवड करण्यात आली?

A.सुनिल छेत्री

B.प्रफुल पटेल

C.शरद पवार

D.बाइचुंग भुतिया

Answer:

B.प्रफुल पटेल

Reference ID:(13271)

1668 मध्ये, ईस्ट इंडिया कंपनीने _____ राजाकडून बॉम्बे भाडेपट्टीवर घेतले.

A.चार्ल्स दुसरा

B.एडवर्ड पाचवा

C.जॉर्ज पहिला

D.विल्यम दुसरा

Answer:

A. चार्ल्स दुसरा

Reference ID:(13016)

Which of the following options best combines the two given sentences?

I did not revise my answers. I missed scoring a hundred.

A.I did not revise my answers but I missed scoring a hundred.

B.I did not revise my answers although I missed scoring a hundred.

C.I did not revise my answers, so I missed scoring a hundred.

D.Though I did not revise my answers, I missed scoring a hundred.

Answer:

C.I did not revise my answers, so I missed scoring a hundred.

Reference ID:(13292)

खाली दिलेल्या श्रृंखलेमध्ये अंकांचा एक विशिष्ट क्रम दिलेला आहे. त्यानुसार चुकीचा क्रम ओळखा:

47, 44, 45, 46, 33, 57, 3, 88

A.44

B.57

C.46

D.3

Answer:

B.57

Reference ID:(13258)

पंत प्रधान नरेंद्र मोदी यांनी 'खेलो इंडिया मोबाईल ॲप' _____ विषयी जागरूकता निर्माण करण्यासाठी सुरू केले.

A.खेळ आणि तंदुरुस्ती

B.नोकरी

C.परीक्षा

D.फॅशन

Answer:

A.खेळ आणि तंदुरुस्ती

Reference ID:(13281)

एका बॅगेमध्ये 5 पांढरे आणि 15 पिवळे चेंडू आहेत. ते चांगले मिसळले गेले आणि यादृच्छिकपणे एक चेंडू काढला गेला. पिवळा चेंडू मिळण्याची संभाव्यता काढा?

A.3/4

B.4/3

C.5/4

D.4/5

Answer:

A.3/4

Reference ID:(13037)

'तुम्ही सगळे मिळून हे काम पूर्ण करा' आख्यात ओळखा.

A.लाख्यात

B.प्रथम ताख्यात

C.ऊ-आख्यात

D.द्वितीय-ताख्यात

Answer:

C.ऊ-आख्यात

Reference ID:(13265)

नारी शक्ती पुरस्कार विजेती सीमा मेहता ही _____ येथे स्थित 'छंदम नृत्य भारती' संस्थेची संचालिका आहे.

A.मुंबई

B.बेंगलुरू

C.नोएडा

D.गुरूग्राम

Answer:

A.मुंबई

Reference ID:(13013)

Choose the appropriate articles to complete the given sentence:

We reached our destination for ___ day, ___ small town in ___ Odisha.

A.the, no article, the

B.the, a, the

C.the, a, no article

D.a, the, the

Answer:

C.the, a, no article

Reference ID:(13044)

पुढील वाक्यांमधील विशेषण ओळखा.
विशेषणांचे पुष्कळ उपप्रकार होतात, माहीत आहे ना?

A.माहीत

B.उपप्रकार

C.पुष्कळ

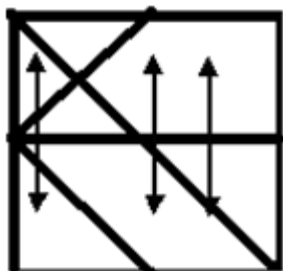
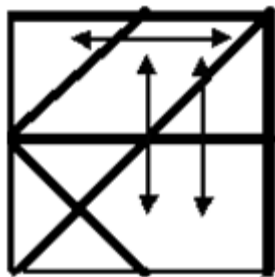
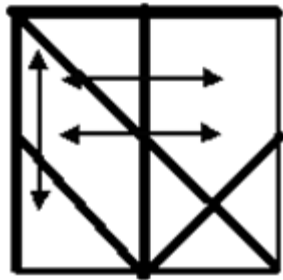
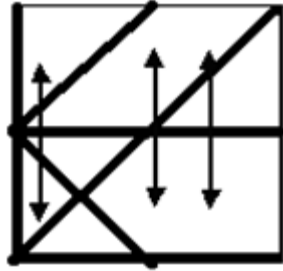
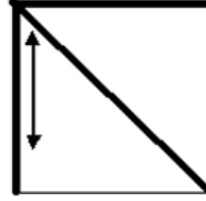
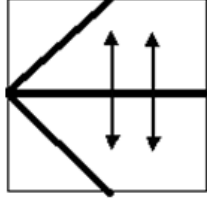
D.विशेषण

Answer:

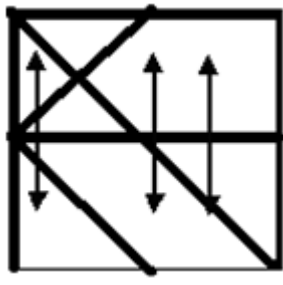
C.पुष्कळ

Reference ID:(14347)

जर खाली दिलेले दोन चौकोन एकमेकांवर आच्छादित होत असतील, तर खालीलपैकी कोणता एक विकल्प तयार होईल?



Answer:



Reference ID:(25013)

एक कार 80 किमी/तास वेगाने धावत आहे. मीटर प्रति सेकंदांमध्ये कारचा वेग काय आहे?

$20\frac{2}{9}$ मीटर/सेकंद

$22\frac{2}{9}$ मीटर/सेकंद

$24\frac{2}{9}$ मीटर/सेकंद

$26\frac{2}{9}$ मीटर/सेकंद

Answer:

$22\frac{2}{9}$ मीटर/सेकंद

Reference ID:(13042)

रिकाम्या जागी योग्य पर्याय निवडा.
एकच गोष्ट सांगितल्याने खरी ठरते का?

A. वारंवार

B. साठी

C. तर

D. पर्यंत

Answer:

A. वारंवार

Reference ID:(13035)

पुढील वाक्य वाचून योग्य वाक्य ओळखा.

A. नदी डोंगरामधून उगम पावल्या.

B. नद्या डोंगरामधून उगम पावली.

C. नदी डोंगरामधून उगम पावली.

D. नदी डोंगरामधून उगम पावले.

Answer:

<https://www.offshoreexperts.com/previous-year-question-papers/>

Reference ID:(13278) जयप्रकाश आणि रमेश यांच्या वयाचे गुणोत्तर अनुक्रमे 5:3 आहे. त्यांच्या वयांचा गुणाकार 540 आहे. 20 वर्षांनंतर त्यांच्या वयाचे गुणोत्तर काय असेल?

A.7:6

B.25:19

C.23:18

D.21:28

Answer: B.25:19

Reference ID:(13285) दिलेल्या चार पर्यायांपैकी पुढे दिलेल्या पत्त्याशी न जुळणारा पत्ता कोणता आहे?
Josef Fuhrgescht Kohlen
Im Muhlenbruch 6,
Georgsmarienhutte, 49124

(i) Josef Fuhrgescht Kohlen
Im Muhlenbruch 6,
Georgsmarienhutte, 46124

(ii) Josef Fuhrgescht Kohlen
Im Muhlenbruch 6,
Georgsmarienhutte, 49124

(iii) Josef Fuhrgescht Kohlen
Im Muhlenbruch 6,
Georgsmarienhutte, 49124

(iv) Josef Fuhrgescht Kohlen
Im Muhlenbruch 6,
Georgsmarienhutte, 49124

A.i

B.ii

C.iii

D.iv

Answer: A.i

Reference ID:(13293) 10 नोव्हेंबर 1581 रोजी कोणता दिवस होता?

<https://www.freshersnow.com/previous-year-question-papers/>

A.मंगळवार

B.बुधवार

C.गुरूवार

D.शुक्रवार

Answer:

A.मंगळवार

Reference ID:(13038)

योग्य पर्यायाची निवड करा.
तू आईला पत्र ----- का?

A.लिहिशील

B.लिहीन

C.लिहील

D.लिहितो

Answer:

A.लिहिशील

Reference ID:(13297)

852 आणि 1491 चा ल.सा.वी. काढा.

A.5694

B.5469

C.5649

D.5964

Answer:

D.5964

Reference ID:(13033)

पुढील वाक्याचा प्रकार ओळखा.
'त्याला गाण्याचा भारीच शौक आहे.'

A.प्रश्नार्थी

B.मिश्र वाक्य

C.संयुक्त वाक्य

D.केवल वाक्य

Answer:

D.केवल वाक्य

Reference ID:(13008)

Fill in the blank with the correct noun for the given sentence:

Chocolate has a well-deserved _____ for improving mood and feeding the brain.

A.reputations

B.reputable

C.repute

D.reputation

Answer:

D.reputation

Reference ID:(13277)

रघुपति आणि परमेश्वरच्या वयांचे गुणोत्तर अनुक्रमे 5: 7 आहे. सोळा वर्षांपूर्वी त्यांच्या वयांचे गुणोत्तर अनुक्रमे 3: 5 असे होते. परमेश्वरचे वर्तमान वय ___ आहे.

A.30 वर्ष

B.35 वर्ष

C.56 वर्ष

D.45 वर्ष

Answer:

C.56 वर्ष

Reference ID:(13274)

11 एप्रिल पासून ते 19 मे पर्यंतच्या 2019 भारतीय सार्वत्रिक निवडणूकीमध्ये _____ लोकसभा समाविष्ट होत्या.

A.17 वा

B.18 वा

C.16वा

D.21वा

Answer:

A.17 वा

Reference ID:(13295)

रिकाम्या जागी योग्य संख्या निवडून श्रृंखला पूर्ण करा:
9, 11, 20, 31, 51, 82, _____

A.133

B.142

C.156

Answer: A.133

Reference ID:(13263) कोणत्या प्राधिलेखाअंतर्गत न्यायालय हे कनिष्ठ न्यायालय किंवा इतर प्राधिकरणाला त्याच्यासमोर विलंबित प्रकरणे उच्च प्राधिकरण किंवा न्यायालयाला हस्तांतरित करण्याचा आदेश देऊ शकते?

- A.सर्टिओरारी
- B.मंडमस
- C.हेबिस कॉर्पस
- D.क्यो वॉरंटो

Answer: A.सर्टिओरारी

Reference ID:(13276) शरीरामध्ये _____ च्या कमतरतेमुळे रक्तक्षय होतो.

- A.बिंबाणू
- B.कार्बोदके
- C.प्रथिने
- D.लोह

Answer: D.लोह

Reference ID:(13256) 1 फेब्रुवारी 2019 रोजी भारतीय रिजर्व्ह बँकेने कोणत्या तीन बँकांवरील कायकारी मर्यादा कमी केल्या आणि त्यांना पूर्णपणे त्वरित सुधारणात्मक कृती (पीसीए) आराखड्यामधून बाहेर पडण्याची परवानगी दिली?

- A.बँक ऑफ इंडिया (बीओआय), बँक ऑफ महाराष्ट्र (बीओएम) आणि पंजाब नॅशनल बँक (पीएनबी)
- B.बँक ऑफ इंडिया (बीओआय), बँक ऑफ महाराष्ट्र (बीओएम) आणि ओरिएन्टल बँक ऑफ कॉमर्स (ओबीसी)
- C.बँक ऑफ इंडिया (बीओआय), आंध्रा बँक (एएनडीबी) आणि ओरिएन्टल बँक ऑफ कॉमर्स (ओबीसी)
- D.बँक ऑफ इंडिया (बीओआय), बँक ऑफ महाराष्ट्र (बीओएम) आणि कॅनरा बँक (सीबी)

Answer: B.बँक ऑफ इंडिया (बीओआय), बँक ऑफ महाराष्ट्र (बीओएम) आणि ओरिएन्टल बँक ऑफ कॉमर्स (ओबीसी)

Reference ID:(13009)

Choose the appropriate collective noun to complete the sentence:

_____ gathered at the scene of the accident.

A.A gang of crooks

B.A crowd of onlookers

C.A mob

D.A bunch of miscreants

Answer:

B.A crowd of onlookers

Reference ID:(13048)

द्वितीया विभक्तीचे अनेकवचनी प्रत्यय कोणते?

A.स, ला, ते

B.स, ला, ना, ते

C.ऊन, हून

D.त, ई, आ

Answer:

B.स, ला, ना, ते

Reference ID:(13255)

7 मार्च 2019 रोजी, महाराष्ट्र शासनाने राज्यामध्ये उच्च अनुदानित दरामध्ये चांगल्या दर्जाचे अन्न पुरवण्यासाठी राज्यामधील बांधकाम मजूरांसाठी कोणती विशेष योजना सुरू केली?

A.अटल आहार योजना

B.श्रमदेव जयते योजना

C.अटल श्रमदेव योजना

D.श्रमदेव आहार योजना

Answer:

A.अटल आहार योजना

Reference ID:(13279)

खाली दिलेली माहिती काळजीपूर्वक वाचा आणि दिलेल्या प्रश्नाचे उत्तर द्या.
L, M, N, P, Q, R, S, आणि T हे आठ व्यक्ती केंद्रभागी तोंड करून गोलाकार टेबलाभोवती बसले आहेत. Q हा P आणि R चा शेजारी नाही. M हा T च्या डावीकडून दुसरा आहे आणि P च्या उजवीकडून तिसरा आहे. R हा N च्या डावीकडून तिसरा आहे, जो T च्या लगेचच डावीकडे आहे. L हा P च्या उजवीकडून दुसरा आहे.
खालीलपैकी काय निश्चितपणे सत्य आहे?

A.R हा लगेचच P च्या उजवीकडे आहे.

B.Q हा लगेचच L च्या उजवीकडे आहे.

C.M हा N आणि Q च्या मधे आहे.

D.R हा P आणि S च्या मधे आहे.

Answer: A.R हा लगेचच P च्या उजवीकडे आहे.

Reference ID:(13267) सत्यशोधक समाजाची स्थापना महाराष्ट्रात 1873 मध्ये _____ द्वारे केली होती.

A.धोंडो केशव कर्वे

B.सिंधुताई सपकाळ

C.ज्योतिबा फुले

D.लोकमान्य टिळक

Answer: C.ज्योतिबा फुले

Reference ID:(13269) टिपूचा अंतिम पराभव यांच्या हस्ते झाला

A.लॉर्ड व्हेलेस्ली

B.लॉर्ड कॉर्नवालिस

C.लॉर्ड डलहौसी

D.जॉन शोर

Answer: A.लॉर्ड व्हेलेस्ली

Reference ID:(13015) Choose the most suitable determiner for the given sentence:

They had so _____ success with so little.

A.much

B.few

C.many

D.most

Answer: A.much

Reference ID:(13294)

सोहनने विमा पॉलिसीवर 23% रक्कम खर्च केली, 33% रक्कम जेवणावर, 19% रक्कम मुलांच्या शिक्षणावर आणि 16% रक्कम मनोरंजनावर खर्च केली. त्याने शिल्लक राहिलेली 504 रुपयांची रक्कम बँकेमध्ये जमा केली. त्याने अन्न आणि विमा पॉलिसीवर एकत्रितपणे एकूण किती रक्कम खर्च केली?

A.3146 रुपये

B.3126 रुपये

C.3136 रुपये

D.3048 रुपये

Answer:

C.3136 रुपये

Reference ID:(13003)

Choose the option that has the correct spelling for the missing word in the given sentence:

_____ snowfall will affect many areas.

A.Persistent

B.Persistant

C.Parsistent

D.Pursistent

Answer:

A.Persistent

Reference ID:(13022)

Choose the most appropriate usage to fill in the blank in the given sentence:

Parents must try to _____ their children's expectations.

A.understand

B.understandable

C.understandably

D.understanding

Answer:

A.understand

Reference ID:(13288)

$5E9 + 2F8 + 3G7 = 1114$ या दिलेल्या समीकरणात F चे कमाल मूल्य _____ आहे, जेथे E, F आणि G कोणत्याही अंकाचे प्रतीक आहेत.

A.8

C.7

D.5

Answer:

B.9

Reference ID:(13014)

. Choose the correct form of verb for the given sentence:

He _____ to share the profits of the company.

A.dismay

B.agreed

C.undecide

D.made

Answer:

B.agreed

Reference ID:(13046)

पुढील वाक्यांमध्ये योग्य ते अव्यय घाला.

सर्व बाजूंनी संकट येणे ----- आभाळ फाटणे असे म्हणता येईल.

A.अथवा

B.सबब

C.म्हणजे

D.परंतु

Answer:

C.म्हणजे

Reference ID:(13280)

एका टोपलीमध्ये 4 पांढऱ्या, 5 आकाशी आणि 3 गडद हिरव्या गोऱ्या आहेत. जर

टोपलीमधून यादृच्छिकपणे 2 गोऱ्या काढल्या, तर दोन्ही पांढऱ्या असण्याची संभाव्यता काय आहे?

A.1/11

B.7/3

C.6/1

D.2/1

Answer:

A.1/11

Reference ID:(13251)

पुढील वाक्यात पर्यायातील अचूक वाक्प्रचार निवडा.
हातोहात त्याने लोकांना फसवले.

A.हातावर हात ठेवणे

B.पाचावर धारण बसणे

C.डोळ्यात धूळ फेकणे

D.जीव खालीवर होणे

Answer:

C.डोळ्यात धूळ फेकणे

Reference ID:(13260)

1960 वर्षामध्ये राज्य निर्मितीच्या वेळी महाराष्ट्रामध्ये किती जिल्हे होते?

A.24

B.26

C.28

D.30

Answer:

B.26

Reference ID:(13291)

किराणा माल विक्रेत्याने 30 रुपये प्रति किलोग्रॅम आणि 32.5 प्रति किलोग्रॅम मूल्याच्या तांदळांना किती गुणोत्तरामध्ये मिसळावे, ज्यामुळे मिश्रणाची 34.10 रुपये प्रति किलोग्रॅमने विक्री केल्यास त्याला 10% नफा मिळेल?

A.5:2

B.4:5

C.3:8

D.3:2

Answer:

C.3:8

Reference ID:(13004)

Choose the appropriate option with the correct punctuation marks for the given sentence:

Youre a great speaker James so you might win the competition

B. "You're a great speaker James so you might, win the competition."

C. "You're a great speaker, James, so you might win the competition."

D. "You're a great speaker, James so, you might win the competition."

Answer: C. "You're a great speaker, James, so you might win the competition."

Reference ID:(13032) खालील वाक्यातील अधोरेखित शब्दांचे लिंग ओळखा.
बोटीने प्रवास करणे हे काहीना कंटाळवाणे वाटते.

A. पुल्लिंग

B. स्त्रीलिंग

C. नपुंसकलिंग

D. उभयलिंग

Answer: B. स्त्रीलिंग

Reference ID:(14348) $\frac{4095}{11655}$ ह्या अपूर्णाकाचे सगळ्यात लघुरूप आहे:

A. 37/13

B. 13/37

C. 91/259

D. 117/333

Answer: B. 13/37

Reference ID:(13286) रिकाम्या जागी योग्य संख्या निवडून मालिका पूर्ण करा:
5, 9, 17, 29, _____, 65

A. 45

B. 40

C. 50

D. 42

Answer: A. 45

Reference ID:(13012)

Choose appropriate articles for the given sentence:

Many foreign leaders came to _____ Delhi, _____ capital of _____ India to watch _____ Republic Day parade.

A.no article, the, no article, the

B.the, the, no article, the

C.a, the, no article, a

D.a, the, a, a

Answer:

A.no article, the, no article, the

Reference ID:(13273)

कोणत्या प्रकल्पांतर्गत नैदलाने सहा पारंपारिक डिजेल-विद्युत पाणबुड्या तयार करण्याचा प्रस्ताव ठेवला ज्या जवळपास सध्या बांधकामाच्या प्रक्रियेत असलेल्या स्कोर्पिन वर्गामधील पाणबुड्यांपेक्षा जवळपास 50 टक्क्यांहून मोठ्या असतील?

A.प्रकल्प 70-भारत

B.प्रकल्प 75-भारत

C.प्रकल्प 17-भारत

D.प्रकल्प 71-भारत

Answer:

B.प्रकल्प 75-भारत

Reference ID:(13283)

मेरीने 80 रुपये प्रति किलो स्किडची विक्री करून दिवसाच्या शेवटी 960 रुपये कमवले. तिने किती किग्रॅम स्किड्सची विक्री केली?

A.14 किलो

B.12 किलो

C.0.83 किलो

D.18 किलो

Answer:

B.12 किलो

Reference ID:(13257)

महाराष्ट्र राज्यामध्ये _____ महानगरपालिका आहेत.

A.24

B.25

C.27

D.28

Answer: C.27

Reference ID:(13034) पुढील वाक्याचा प्रकार ओळखा.
घंटा वाजल्यावर मुले भराभर वर्गात गेली.

A.प्रश्नार्थी

B.मिश्र वाक्य

C.संयुक्त वाक्य

D.केवल वाक्य

Answer: D.केवल वाक्य

Reference ID:(13040) दिलेल्या धातूचे 'कृदंत' (साधित) रूप ओळखा.
धावणे

A.धावतो

B.धावताना

C.धावते

D.धावतात

Answer: B.धावताना

Reference ID:(13029) दिलेल्या शब्दगटातून विरुद्धार्थी शब्द ओळखा.
चित्रपट – आवडता X -----

A.जुना

B.नवा

C.नावडता

D.मूक

Answer: C.नावडता

Reference ID:(13025) Choose the correct form of tense for the given sentence:

I _____ up at 6 am every morning and _____ for a walk.

A.got, goes

B.get, go

C.got, went

D.get, went

Answer:

B.get, go

Reference ID:(13007)

Choose the correct form of adjective for the given sentence:

Mohan was choosing a new saree for his wife as his anniversary gift but was unable to decide on which one of the two was _____.

A.much beautiful

B.more than beautiful

C.more beautiful

D.the most beautiful

Answer:

C.more beautiful

Reference ID:(13024)

Identify the option which is NOT a compound sentence.

A.All that glitters is not gold.

B.I have got four sisters and each of them is quite different from the others.

C.You can either come with me now or walk home.

D.The house was destroyed in the fire, but the family was saved.

Answer:

A.All that glitters is not gold.

Reference ID:(13270)

बोर वन्यजीव अभयारण्य हे भारताच्या खालीलपैकी कोणत्या राज्यामध्ये स्थित आहे?

A.महाराष्ट्र

B.उत्तर प्रदेश

C.आंध्र प्रदेश

D.राजस्थान

Answer:

A.महाराष्ट्र

Reference ID:(13045)

योग्य पर्याय निवडून जोडी लावा.
स्त्र

A.पडली

B.पडला

C.पडले

D.पडल्या

Answer:

C.पडले

Reference ID:(13006)

Choose the correct form of adjective for the given sentence:

The Blue Whale is _____ known animal reaching a length of more than one hundred feet.

A.the large

B.the larger

C.the largest

D.most larger

Answer:

C.the largest

Reference ID:(13252)

कोणत्या वर्षी पोर्तुगीजांनी मुंबईवर कब्जा केला?

A.1514

B.1524

C.1534

D.1544

Answer:

C.1534

Reference ID:(13289)

जर COLLEGE चा सांकेतिक शब्द BNKKDFD असा बनवला जात असेल तर SCHOOL चा सांकेतिक शब्द कसा बनवला जाईल?

A.RDGNNK

B.TBGNNK

C.RBHNNK

D.RBGNNK

